

KİTAPÇIK TÜRÜ

A



T.C.

MİLLÎ EĞİTİM BAKANLIĞI

ÖLÇME, DEĞERLENDİRME VE SINAV HİZMETLERİ
GENEL MÜDÜRLÜĞÜ

**4. GRUP:
DESTEK
PERSONELİ**

**TARIM VE KIRSAL KALKINMAYI DESTEKLEME KURUMU
DENETÇİ, UZMAN, MÜTERCİM VE DESTEK PERSONELİ SEÇME SINAVI
10/09/2017**

Adayın Adı ve Soyadı :

Aday Numarası (T.C. Kimlik No) :

ALAN	TOPLAM SORU SAYISI	SINAV SÜRESİ
Atama yapılacak görevin niteliği ile ilgili konular	100	120 DAKİKA

ADAYLARIN DİKKATİNE!

1. Sınav saat **10.00**'da başlayacaktır. Sınav başladıktan sonra ilk **30** dakika tamamlanmadan dışarı çıkmayınız.
2. Sınav sırasında çanta, cep telefonu, saat, kablosuz iletişim sağlayan cihazlar ve kulaklık, kolye, küpe, bilezik, yüzük, broş ve benzeri eşyalar ile her türlü elektronik ve/veya mekanik cihazları yanınızda bulundurmayınız. Bu araçları yanınızda bulundurmanız ve kopya çekmeye teşebbüs etmeniz hâlinde sınavınız geçersiz sayılacaktır.
3. Başvuru şartlarını taşımadığınız hâlde sınava girmeniz, kopya çekmeniz, başka adayın sınav evrakını kullanmanız, geçerli kimlik belgenizi ve sınav giriş belgenizi ibraz edemediğiniz durumlarda sınavınız geçersiz sayılacaktır.
4. Sınavın değerlendirilmesi aşamasında, bilgisayar ortamında yapılan kopya analizinde sistemin ikili ve/veya toplu kopya tespiti hâlinde sınavınız geçersiz sayılacaktır.

CEVAP KÂĞIDI VE SORU KİTAPÇIĞI İLE İLGİLİ AÇIKLAMALAR

1. Cevap kâğıdınızdaki bilgilerin doğruluğunu kontrol ediniz ve cevap kâğıdınızı mürekkepli kalemle imzalayınız.
2. Kitapçık türünüzü cevap kâğıdınızdaki ilgili alana kodlayınız. Değerlendirme işlemleri cevap kâğıdındaki kodlamalara göre yapıldığından eksik ya da hatalı kodlamalarda sorumluluk size ait olacaktır.
3. Cevap kâğıdı üzerinde kodlamalarınızı siyah kurşun kalemle yapınız.
4. Değiştirmek istediğiniz bir cevabı, yumuşak silgiyle cevap kâğıdını örselemeden temizce siliniz ve yeni cevabınızı kodlayınız.
5. Soru kitapçığının sayfalarını kontrol ediniz, baskı hatası var ise değiştirilmesini sağlayınız.
6. Soru kitapçığının ön yüzündeki ilgili yerlere ad, soyad ve T.C. kimlik numaranızı yazınız.
7. Her sorunun **BEŞ** seçeneğinden sadece biri doğrudur. Doğru seçeneği, cevap kâğıdınızın ilgili sütununa soru numarasını dikkate alarak yuvarlağın dışına taşırmadan kodlayınız. **Soru kitapçığı üzerinde yapılan cevaplandırmalar dikkate alınmayacaktır.**
8. Yanlış cevaplarınız dikkate alınmadan sadece doğru cevaplarınız üzerinden puanlama yapılacaktır.
9. Soruları ve sorulara verdiğiniz cevapları, yanınızda götürmek amacıyla kaydetmeyiniz; hiçbir şekilde dışarı çıkarmayınız.
10. Sınav bitiminde, soru kitapçığı ve cevap kâğıdını salon görevlilerine teslim ediniz.

BAŞLAYINIZ DENMEDEN SORU KİTAPÇIĞINI AÇMAYINIZ.

1. 5648 sayılı Tarım ve Kırsal Kalkınmayı Destekleme Kurumu Kuruluş ve Görevleri Hakkında Kanun'a göre Avrupa Birliği ve uluslararası kuruluşlardan sağlanan kaynaklar ile ulusal katkının ilgili kurumlar aracılığıyla teminine yönelik işlemleri yapmak aşağıdakilerden hangisinin görevidir?

- A) Ödeme Koordinatörlüğü
- B) Tahakkuk Koordinatörlüğü
- C) Muhasebe Koordinatörlüğü
- D) Bilgi Sistemleri Koordinatörlüğü
- E) Proje İzleme ve Kontrol Koordinatörlüğü

2. 5648 sayılı Tarım ve Kırsal Kalkınmayı Destekleme Kurumu Kuruluş ve Görevleri Hakkında Kanun'a göre aşağıdakilerden hangisi Kurum merkez teşkilatının ana hizmet birimi koordinatörlüklerinden biri değildir?

- A) Tahakkuk Koordinatörlüğü
- B) Muhasebe Koordinatörlüğü
- C) Proje Yönetimi Koordinatörlüğü
- D) Proje İzleme ve Kontrol Koordinatörlüğü
- E) İnsan Kaynakları ve İdari İşler Koordinatörlüğü

3. Tarım ve Kırsal Kalkınmayı Destekleme Kurumu Personel Yönetmeliği'ne göre sözleşmenin feshini gerektiren hâllerle ilgili aşağıdakilerden hangisi yanlıştır?

- A) İşe alınma şartlarından herhangi birini taşımadığının sonradan anlaşılması
- B) Kanun, yönetmelik ve sözleşme hükümlerine aykırı davranışlarda bulunmak
- C) Performans değerlendirmelerinde birbirini izleyen iki yıl altmış dokuz veya aşağıda puan almak
- D) Görev ya da görev yerinin değişmesi hâlinde belirlenen süre içinde mücbir sebep olmaksızın yeni görevine başlamamak
- E) İzinsiz veya kabul edilebilir bir mazereti olmaksızın kesintisiz beş gün veya bir yıl içerisinde toplam on gün göreve gelmemek

4. Tarım ve Kırsal Kalkınmayı Destekleme Kurumu Personel Yönetmeliği'ne göre personelin yükümlülükleri ile ilgili aşağıdakilerden hangisi yanlıştır?

- A) Basına bilgi ve demeç ancak başkanın yetkili kılacağı görevliler tarafından verilebilir.
- B) Personel, görevleriyle ilgili gizli bilgileri görevinden ayrılmış olsa bile hiçbir koşulda açıklayamaz.
- C) Personel, görevi ile ilgili Türk ve Avrupa Birliği mevzuatını bilmek ve değişiklikleri izlemekle sorumludur.
- D) Personel, siyasi partiye üye olamaz, herhangi bir siyasi parti, kişi veya zümrenin yararını veya zararını hedef tutan bir davranışta bulunamaz.
- E) Personel, kişilerin uğradıkları zararlardan dolayı Kurum aleyhine açılan davalar nedeniyle kendisine rücu edilen zararları ödemek zorundadır.

5. Tarım ve Kırsal Kalkınmayı Destekleme Kurumu İl Koordinatörlüklerinin Çalışma Usul ve Esasları Hakkında Yönetmelik'e göre aşağıdakilerden hangisi Yerde Kontrol Biriminin görevlerinden biridir?

- A) Programı tanıtmak ve proje başvuru çağrısı yayımlamak
- B) Sözleşme değişiklikleri ve feshi ile ilgili işlemleri yapmak
- C) Kurum ile iç ve dış denetim birimleri tarafından istenen düzenli ve ara raporları hazırlamak
- D) Başvuru dosyaları üzerinde yapılan işlemlerin ve dosyaların takibi ile arşivlenmesine ilişkin sistem kurmak
- E) İl koordinatörlüğündeki iş sürekliliği yönetimi ve sivil savunma çalışmaları kapsamında çalışmalarını planlamak ve yürütmek

6. Tarım ve Kırsal Kalkınmayı Destekleme Kurumu İl Koordinatörlüklerinin Çalışma Usul ve Esasları Hakkında Yönetmelik'e göre aşağıdakilerden hangisi Proje Başvuru Yönetimi Biriminin görevleri arasında yer almaz?

- A) Kurumun tanıtım rehberinde yer alan tanıtım ile ilgili görevleri yerine getirmek
- B) Başvuru sahiplerinin, başvuru kriterlerine uygun olup olmadığını kontrol etmek
- C) Başvuru sahipleri tarafından tamamlanmış olan belge ve bilgileri kontrol etmek
- D) Kamu kurum ve kuruluşları, başvuru sahipleri ve diğer ilgililerle iletişimi sağlamak
- E) Proje başvuru paketini almak, kaydını yapmak, başvuru paketindeki dokümanların ve içeriklerinin eksiksiz olup olmadığını kontrol etmek

7. Proje Değerlendirme ve Seçim Komisyonunun Çalışma Usul ve Esasları Hakkında Yönetmelik'e göre komisyonun çalışma usul ve esasları ile ilgili aşağıdakilerden hangisi doğrudur?

- A) Komisyon, Başkanın daveti üzerine üye tam sayısının en az üçte ikisi ile iki ayda bir defa toplanır.
- B) Toplantının yeri, zamanı ve gündemi en az beş takvim günü önce Başkan tarafından üyelere yazılı olarak bildirilir.
- C) Komisyon toplantılarına, Başkanın yokluğunda, Başkanın görevlendireceği bir koordinatör başkanlık eder.
- D) Komisyon, uygun başvuru listesinde yer alan projelerden, desteklenmesine karar verilen proje sayısının en fazla yarısı kadar yedek proje belirler.
- E) Komisyon kararını, karar metninin içinde muhalif üyelerin isimleri de olacak şekilde, toplantı tarihinden itibaren en geç on iş günü içinde açıklar.

8. Tarım ve Kırsal Kalkınmayı Destekleme Kurumu Disiplin Amirleri Yönetmeliği'ne göre il koordinatörlüklerindeki destek personelinin üst disiplin amiri aşağıdakilerden hangisidir?

- A) Başkan
- B) I. Hukuk Müşaviri
- C) İl Koordinatörü
- D) Uzman
- E) İç Denetim Koordinatörü

9. I. Kontrol sistemlerini genel anlamda iyileştirmek için sistem değişikliklerinin başlatılması
II. Yönetim ve kontrol sistemlerinin yapıları, yetkilileri ve birimlerine sunulan taleplerin ve isteklerin yanı sıra usulsüzlük şüphesine dair diğer bilgilerin incelenmesi
III. Mevzuat, rehber ve prosedürlerin doğru şekilde uygulanmasını sağlamak için yapılan kontroller ve diğer işlevlerin yerine getirilmesinden sorumlu teknik servislerin ve yetki verilmiş birimlerin izlenmesi

Tarım ve Kırsal Kalkınmayı Destekleme Kurumunun Akreditasyonu ve Akreditasyon Kriterlerinin Uygulanmasına İlişkin Usul ve Esaslar Hakkında Yönetmelik'e göre iç kontrol faaliyetleri, asgari olarak yukarıdaki alanlardan hangilerini kapsar?

- A) Yalnız I
- B) Yalnız III
- C) I ve II
- D) II ve III
- E) I, II ve III

10. Sözleşmeli Personel Çalıştırılmasına İlişkin Esaslar'a göre kurumun hizmet icapları dikkate alınarak, aynı unvan ve hizmet niteliklerini haiz sözleşmeli personelin kurum içi karşılıklı yer değiştirme talepleri, pozisyonunun vizeli olduğu birimde fiilen en az ne kadar süreyle çalışmış olmaları şartıyla yerine getirilebilir?

- A) Üç ay
- B) Altı ay
- C) Bir yıl
- D) On sekiz ay
- E) İki yıl

11. Bir şeyi umudunuz kırılmadan (azalmak, yok olmak),

I
ille de çabucak bir sonuç beklemeyen, tadını çıkara çıkara (bir şeyin güzelliğinden veya II
sağladığı imkânlardan yeterince yararlanmak) yaptınız mı hiç? İşte böyle maceraları anlatıyor III
(nakletmek, aktarmak) yazar eserlerinde. Bu yüzden de eserleri hâlâ basılıyor (önem kazanmak) yazarın. IV

V
Yazar, eserleriyle sihirli bir dünyanın kapılarını aralıyor (bir konuya giriş yapmak, VI
karşısındakini hazırlamak) âdeta.

Bu parçada numaralanmış sözlerden hangisinin anlamı yanındaki yay ayraç içinde yanlış verilmiştir?

- A) I.
- B) II.
- C) III.
- D) IV.
- E) V.

12. Aşağıdaki cümlelerin hangisinde mecazlı bir söyleyiş yoktur?

- A) Yeni öğretmenimiz sorduğu sorularla hafızamızı tazelemeye çalışıyordu.
- B) Tekne turları ile el değmemiş koyuları görme şansını elde edebilirsiniz.
- C) Uludağ eteklerinde kamp kurup zirveye tırmanan dağcılar arasında ben de vardım.
- D) Ortaya koyduğu proje ile gençlere yeni ufuklar açmayı hedefliyor.
- E) Yıllarca çalıştığı işten istifa ederek yeni bir yaşama yelken açmayı düşünüyormuş.

13. Tanımadan sevdiğim ve saygı duyduğum bir köşe yazarının ilk romanının yolda olduğunu duyduğumda hiç burun kıvrımadım; sadece sevindim ve heyecanlandım. Sürekli gerçek dünyayı yazan bir gazetecinin bir noktada, söylemek istediği şeyleri kurgunun sonsuz olanaklarını kullanarak söyleme arzusunu da hiç yadırgamadım.

Bu parçaya altı çizili sözün kattığı anlam aşağıdakilerden hangisidir?

- A) Uzun süre üzerinde kafa yormak
- B) Hayal dünyasının tüm imkânlarından yararlanmak
- C) Elindeki tüm fırsatları değerlendirmeyi bilmek
- D) Etkileyici ve sürükleyici bir anlatım oluşturmak
- E) Gerçekleri en iyi şekilde ifade etmeye çalışmak

14. “Dünya edebiyatı” dendiğinde dil yönünden bir uluslararasılık söz konusu olsa da “uluslarüstü edebiyat” gelmelidir akla.

Aşağıdakilerden hangisi anlamca bu cümleye en yakındır?

- A) Edebiyat ürünleri, ait olduğu ulusun dil anlayışını yansıtır.
- B) Her ulusun edebiyatının kendine özgü, değiştirilemez kuralları vardır.
- C) Dünya edebiyatına ancak mükemmelliği yakalamış eserler dâhil edilebilir.
- D) Edebiyatın dünya üzerinde anlaşılmasını ve yayılmasını sağlayan dildir.
- E) Edebiyat; ırkı, dini, dili ne olursa olsun tüm okurlara hitap eder.

15. (I) Bu şairimizin şiirlerinin dili halkın konuştuğu Türkçedir. (II) O, şiirlerinde özentili dil oyunlarına, uydurma sözcüklere başvurmaz. (III) Hatta kendi kültürümüze, alışageldiğimiz dile yabancı tek bir kelime dahi satırlarının dostu değildir. (IV) Üstelik şair bunu yaparken şiirini edebî çizgiden de uzaklaştırılmaz. (V) En sade dille en öz anlatıma nasıl ulaşılır, bunu çok iyi göstermiştir.

Bu parçada numaralanmış cümlelerin hangisinde yorum söz konusu değildir?

- A) I.
- B) II.
- C) III.
- D) IV.
- E) V.

16. (I) Günümüzde eskisinden daha yoğun olarak birey merkezli şiirle karşılaşırız. (II) Bugünün şiiri daha çok bireyin iç dünyasını dışarı sızdırıyor. (III) Ben de şiirde hayattan bize yansıyanları biriktirip sonra da taşıyorum. (IV) Bu demek değil ki hayat, şiire doğrudan yansıyor. (V) Tersine şiir hayattan kaçtığımız bir sığınak oluyor çoğu zaman.

Bu parçada numaralanmış cümlelerle ilgili aşağıdakilerden hangisi yanlıştır?

- A) I. cümlede karşılaştırma söz konusudur.
- B) II. cümlede günümüz şiirinin içeriğinden bahsedilmiştir.
- C) III. cümlede şiirin taşınması gereken üslup özellikleri belirtilmiştir.
- D) IV. cümlede günümüz şiiriyle ilgili bir değerlendirme yapılmıştır.
- E) V. cümlede benzetmeden yararlanılmıştır.

17. (I) Günümüz şairlerinin birçoğu mizahın yardımıyla modern dünyanın ışıltılı yönlerini anlatıyor şiirlerinde. (II) İnsanın ve yaşamın aksayan yönlerini ise ne yazarlar ne de başka sanatçılar ele almak istiyor. (III) Ele alan sanatçılar yadırganıyor, ağır eleştirilere maruz kalıyor ve edebî çevrelerden dışlanıyor. (IV) Oysa şiir topluma yön veren, toplumu değiştiren bir özelliğe sahip bir türdür. (V) Şiir ile toplumlar harekete geçirilir ve duygular coşkun bir nehir hâline getirilirdi. (VI) Bugünkü şiirin böyle bir özelliğe sahip olduğunu söylemek ise oldukça güç.

Bu parçada numaralanmış cümlelerden hangisi kendisinden önceki cümlelerin nedenini belirtmektedir?

- A) II.
- B) III.
- C) IV.
- D) V.
- E) VI.

18. I. Kulağa imkânsızmış gibi gelebilir ancak geliştirilen bir uygulamayla kitaplarınızı İnternet üzerinden imzalatmanız mümkün.
II. Daha da önemlisi bu uygulama sanatçı ile hayranların sosyal medya üzerinden tanışıp bire bir sohbet etmelerine de öncülük edecek.
III. En sevdiğiniz yazar, İnternet üzerinden kitaplarınızı imzalasaydı nasıl olurdu?
IV. Birkaç yıl önce hayata geçirilen uygulama sayesinde artık kitaplar dışında tişörtlerimizi, e-kitaplarımızı ve çeşitli eşyalarımızı da İnternet üzerinden imzalatabileceğiz.
V. Piyasaya çıktığı günden itibaren geliştirilmeye devam eden uygulamanın özellikleri bununla da sınırlı değil.

Bu cümlelerle anlamlı bir paragraf oluşturulduğunda numaralanmış cümlelerin hangisi baştan ikinci olur?

- A) I. B) II.
C) III. D) IV.
E) V.

19. Âdeta yalvarıyoruz, bizi bırakıyorlar ama suratları asılıyor, gözleri peşimizden melül melül bakıyor. Hemen gümrük kapısından sola dönüyoruz. Sederek kasabasına doğru yol alıyoruz. Göz alabilirdiğince üzüm bağları ve terk edilmiş yıkık dökük fabrikalar... Ağrı Dağı arkamızdan bizi izliyor; gökyüzü saten gibi pırlı pırlı, alabildiğine mavi... Güneş günün doruğundan inmeye hazırlanıyor. Kalbim göğsüme sığmıyor, kıpır kıpır.

Bu parça için aşağıdakilerden hangisi söylenemez?

- A) Eksiltili cümleler kullanılmıştır.
B) İki kelimeye yer verilmiştir.
C) Betimlemeye başvurulmuştur.
D) Karşılaştırma yapılmıştır.
E) Kişileştirmelerden yararlanılmıştır.

20. İlk insanların farklı sesler çıkarmak arzusuyla taşları, sopaları birbirine vurmak; kemikleri, ağaç kabuklarını üflemek; içi boş kütüklerin üzerine deri gerip çalmak gibi deneme yapmalarının sebebi, korktukları seslere karşı bir başkaldırı ve karşı koyuş; huzur verenlerle de yeniden buluşma arzusu... Bu eylemin ne zaman ve nasıl bir ritme, düzenli ve akıcı seslerden oluşan bir bütüne dönüştüğü ise kesin olarak yanıtlanması pek mümkün olmayan bir soru. Birbirinden farklı sesler çıkaran müzik aletlerinin nasıl ve neden çeşitlendirildiği de öyle.

Bu parçadan aşağıdakilerden hangisi çıkarılmaz?

- A) İlk insanlar farklı sesler çıkartabilmek için doğadan faydalanmışlardır.
B) Müzik; ritim ve ahenk sayesinde gelişip yaygınlaşmıştır.
C) Çeşitli sesler çıkartabilmek insanları psikolojik yönden rahatlatmıştır.
D) Müziğin doğuşunda insanların korku duygusu da etkili olmuştur.
E) Müzik aletleri zaman içerisinde farklı türlere ayrılmıştır.

21. (I) Anlam, şairin içindedir ve sözün mutlaka bir anlamı vardır. (II) Dolayısıyla şiir de yüce bir söz olarak anlamla doğrudan ilişkilidir. (III) Ne var ki şairin içindeki anlamla şiir okuyucusunun zihninde beliren anlam çoğu zaman aynı olmaz. (IV) Şiirin şair için yüklendiği anlam, okur için yok hükmünde olabilir. (V) Bazen şair, okurun şiirine verdiği anlamı görünce hayrete düşer. (VI) Bu durumda şair kendi anlamını bırakıp ona sarılabilir.

Bu parçada anlam akışına göre numaralanmış cümlelerin hangisinden sonra "Hatta bu anlamı kendi yüklediği anlamdan daha cazip bulur." cümlesi getirilebilir?

- A) II. B) III.
C) IV. D) V.
E) VI.

22. Hayatımda ilk kez bir kedi gördüğüm günü hiç unutmam. Aklımda sadece bir avuç siyah beyaz tüy yumağı, esnemek için açılmış minik bir ağız ve pembe bir dil kalmıştı. O sırada ben küçüktüm, kediyse bebek. O günden sonra hep bir kedim olsun istedim. Evimizde yaşayan, yatağımda bana sarılıp uyuyan, kucağımda mırılayan, biz yokken evi ejderha ve kötü adamlardan koruyan, en yüksek raflara bir kahraman gibi tırmanıp uzun bir ipin peşinde benimle beraber çölleri, dağları ve ormanları aşan, eve girdiğimizde bizi kapıda karşılayan, koridorda koşup oynayan bir kedi!

Bu parça ile ilgili aşağıdakilerden hangisi söylenemez?

- A) Niteleyici sözcükler kullanılmıştır.
- B) Benzetme yapılmıştır.
- C) Hayali unsurlara başvurulmuştur.
- D) Betimleyici ögelere yer verilmiştir.
- E) Kişileştirmeden yararlanılmıştır.

23. Sinema birden çok sanatın sentezlenmesi sonucu meydana gelmiş ve diğer sanatlardan farklı olarak milyonlarca kişiye hitap etmiştir. Çok sayıda insanın ortak çalışmasının ürünü olan sinema, varoluşundan beri kimi zaman topluma ışık tutmuş; toplumun düşüncelerini yönlendirmiş; kimi zaman ise toplumun sesi olmuştur. Edebiyatla da yakın ilişki içinde olan sinema, toplumun sesi olurken bunu çoğu zaman edebî eserler vasıtasıyla gerçekleştirmiştir.

Bu parçadan sinema ile ilgili aşağıdakilerden hangisi çıkarılamaz?

- A) Toplumlar üzerinde etkili olduğu
- B) Edebî çalışmalara yön verdiği
- C) Bünyesinde farklı sanatlardan izler taşıdığı
- D) Toplumun düşüncelerini, beklentilerini dile getirdiği
- E) Gerekliğinde edebiyatı bir araç olarak kullandığı

24. "Satranç" dünya edebiyatına damga vuran yazarın son yapıtı. Altmış iki sayfa olması, sıradan bir satranç oyununu anlattığı varsayıldığında metne "uzun öykü" denmesini haklı kılar. Ancak içine yedirilmiş ciltlerce kitap dolduracak çağrışım ve sezdirmeler hesaba katıldığında "çok kısa roman" denmesi daha da doğrudur.

Bu parçada eserin hangi yönü üzerinde durulmaktadır?

- A) Açıklığı
- B) Akıcılığı
- C) Özlülüğü
- D) Özgünlüğü
- E) Yalınlığı

25. Dil sadece kullanılan bir araç değildir. Varoluştan, düşünceden hatta duygudan ayırt edilemeyecek bir ortamdır. İnsanın kendini, geçmişini ve bugününü dil ile kurduğunu fark ettiğim için belki yazmak istedim en çok. İnsanların açıkça dile getirmekten kaçındığı, kolayca ifade edemediği fakat hayatlarında büyük iz bırakan olayları anlatmayı düşündüm. Çünkü yazarın yaptığı iş dil ile kurmaca dünyalar yaratırken mevcut dünyanın dikiş yerlerini açığa çıkarmaktır.

Böyle düşünen bir yazarın anlatmak istediği aşağıdakilerden hangisidir?

- A) Eserlerde hayalî ve gerçek olaylar, okuyucuya iç içe aktarılır.
- B) Dili kullanma becerisi sanatçının başarısını belirleyen en önemli unsurdur.
- C) Gerçeklik aranmakla birlikte bir eserde esas olan hayal dünyasına hitap etmektir.
- D) Dilin imkânları, sanatçı tarafından eserlerde sonuna kadar kullanılmalıdır.
- E) Yazar, hayal dünyasını kâğıda dökerken gerçek hayatın gizli kalmış taraflarını ortaya koyar.

26. (I) Yaratıcı kafa ile zeki kafa arasında bir fark var; yaratıcı kafa sorular sorar ve bu soruların cevabını ararken bazı şeyler kazanır, bazı şeyleri de kaybeder. (II) Zeki kafa ise en basit ve en düz yolu seçer genelde. (III) Bu nedenle zeki biri için etrafta fazla hikâye dönüp dolaşmaz ama yaratıcı insanın etrafında birçok hikâye vardır. (IV) Hikâyenin uzunluğu olayın genişliğine göre belirlenir. (V) Yaratıcı karakter çeşitli hatalar ve yanlışlarla karşılaştığı için bir hikâye oluşur aslında. (VI) Benim birçok karakterim zeki olmanın ziyade yaratıcıdır ve hikâye içinde genelde zorluklara göğüs gerer.

Bu parçada numaralanmış cümlelerden hangisi düşüncenin akışını bozmaktadır?

- A) II.
- B) III.
- C) IV.
- D) V.
- E) VI.

27. Çocuklara ve gençlere tiyatroyu sevdirmek amacıyla bu festivali düzenledik. Dolayısıyla bir seçim yapmak söz konusu değildi. İlkemiz gereği tiyatro eğitimi dışında başka bir amacı olmayan yükseköğretim ve üniversitelere başvurmuştuk. Bunların hepsi olumlu cevap verdi. Ancak Paris, Hamburg, Budapeşte ve Varşova'daki okullar yol paralarını denkleştiremedikleri için üzüntüyle gelemeyeceklerini bildirdiler.

Bu parçada aşağıdaki sorulardan hangisine cevap olarak söylenmiştir?

- A) Festivale katılan grupları seçerken neyi ölçüt aldınız?
- B) Festivali düzenlerken karşılaştığınız zorluklar nelerdi?
- C) Festivalle amatör tiyatro topluluklarını tanıtmayı mı hedeflediniz?
- D) Etkinliğe katılmak istemeyen okullar hangi şehirlerdendi?
- E) Yeterli katılım sağlanmasaydı festivali iptal eder miydiniz?

28. Günümüzde şiir, sözün bireyselleştirilmesine; özel bir dil ve semboller dünyası yaratılmasına dayanmaktadır. Bunun başarılması da şairin ortak dilden, semboller dünyasından sıyrılmasına, kısaca bireyselleşmesine bağlıdır. Günümüz modern şiirinin en vazgeçilmez özelliğidir bu. Klasik şiirin bir özelliği olan ortak mecaz ve imgeleri kullanarak söylenmiş olanı, yeni bir şekilde söylemek, modern şiirin özelliği olmaktan çıkmıştır.

Bu parçada aşağıdakilerden hangisine değinilmemiştir?

- A) Klasik şiir anlayışında şairlerin, eserlerinde aynı ifadelere yer verdiğine
- B) Şiir dilinin nasıl olması gerektiği anlayışının zaman içerisinde değiştiğine
- C) Günümüz şairlerinin kendine has bir söylem oluşturduğuna
- D) Günümüz şiirinin klasik şiir anlayışından farklı bir yerde durduğuna
- E) Şiirlerdeki ortak hayallerin okurun zihninde daha fazla yer edindiğine

29. (I) Kadın öğretmene bir soru yöneltti. (II) Sorunun cevabını beklerken öğretmenin yüzüne hayretle bakıyordu. (III) Öğretmenin, kendinden çok emin bir duruşu vardı. (IV) Öğretmen, tok bir sesle konuşmaya başladı, herkesle sağlıklı bir göz irtibatı kurdu. (V) Kendisini dinleyenlerde hayranlık uyandırmıştı.

Bu parçada numaralanmış cümlelerin hangisinde anlatım bozukluğu vardır?

- A) I.
- B) II.
- C) III.
- D) IV.
- E) V.

30. Kültürel boyutu olan birçok yazar ve şairin çağdaş bir edebiyat eserine figür olarak alınışını yabancı edebiyatlarda sık sık görüyoruz.

Bu cümlelerin öge dizilişi aşağıdakilerin hangisinde verilmiştir?

- A) Özne – Nesne – Zarf tümleci – Dolaylı tümleç – Yüklem
- B) Nesne – Dolaylı tümleç – Zarf tümleci – Yüklem
- C) Özne – Dolaylı tümleç – Zarf tümleci – Yüklem
- D) Nesne – Zarf tümleci – Yüklem
- E) Nesne – Özne – Zarf tümleci – Dolaylı tümleç – Yüklem

31. Yağmurdan kaçmaya çalışırken kentin daracık sokaklarında ayak seslerimi, bir jet motorunun homurtuları gibi duyuyordum. Bir ihtiyara çarptım. Yaşlı adamın görüntüsü bir anda kayboldu. Yalnızdım.

Bu parçada aşağıdaki ses olaylarından hangisi yoktur?

- A) Ünlü düşmesi
- B) Ünsüz yumuşaması
- C) Ünlü türemesi
- D) Ünsüz benzeşmesi
- E) Ünlü daralması

32. Genel olarak sade, yer yer alışılmışın dışında bir dille bir kimsesizlik öyküsü yazmışsınız. Parktaki insanların sıcak atmosferi ile adamın yalnız ve soğuk dünyası arasındaki tezadı başarıyla vermişsiniz.

Bu parçada aşağıdaki sözcük türlerinden hangisi yoktur?

- A) Zarf
C) Zamir
E) Edat
- B) Sıfat
D) İsim

33. Her şey söylenmez elbette, dilimiz ayrı

I
Başka türlü severiz aynalarda bulutu
Eski elbiselerde asılı güneşleri

II
Yeni elbiselerde çok uçuk denizleri

III
Anıları, insanları, evi bahçeyi
Başka türlü çıkarız işin içinden

IV
Küçük patikalarla babamızın izinden!

Bu dizelerde numaralanmış tamlamalardan hangisi diğerlerinden farklı türdedir?

- A) I.
C) III.
E) V.
- B) II.
D) IV.

34. Denizden 2 bin metre yüksekteki Ördek Gölü berrak,

I
ıssız bir doğa varlığı. Göl, Yaylıdere İlçesi'nde

II
yer alan Çıkrıkçı Yaylası'nın güneyinde bulunuyor.

III
Gün batımına doğru sis dağılıyor ve manzaraya

IV
eklenen Erimez Tepesi gölün sakin sularında

V
yansıyarak büyüleyici anların kapısını aralıyor.

Bu parçada numaralanmış yerlerin hangisinde yazım yanlışı yapılmıştır?

- A) I.
C) III.
E) V.
- B) II.
D) IV.

35. Balıkçı uzun süre ortalıklarda yoktu () Masal ülkesini terk mi etmişti yoksa () Olabilirdi. O () masal ülkesinin zevklerine tutulmuş () bunların arkasındaki hakikati görememişti.

Bu parçada yay ayrıla belirtilen yerlere sırasıyla aşağıdaki noktalama işaretlerinden hangileri getirilmelidir?

- A) (.) (?) (,) (;) B) (!) (!) (;) (,) (.)
C) (...) (?) (,) (,) D) (.) (!) (;) (;)
E) (!) (...) (,) (,)

36. **İlisu Baraj Gölü alanından Türkiye'de ilk defa uygulanan proje ile iki kilometrelik mesafe boyunca bir bütün hâlinde taşınan tarihi eser aşağıdakilerden hangisidir?**

- A) Mahidevran Sultan Türbesi
B) Süleyman Şah Türbesi
C) Siyyi Zeynep Türbesi
D) Şeyhçoban Türbesi
E) Zeynel Bey Türbesi

37. **2017 yılında Katar'a ambargo uygulayan ülkeler arasında aşağıdakilerden hangisi yoktur?**

- A) Mısır
B) Kuveyt
C) Bahreyn
D) Maldivler
E) Birleşik Arap Emirlikleri

38. **G-20 ile ilgili aşağıdaki bilgilerden hangisi yanlıştır?**

- A) Dünyanın en gelişmiş 20 ülkesinden oluşan uluslararası bir oluşumdur.
B) 1999 yılında Maliye Bakanları ve Merkez Bankası Başkanları düzeyinde oluşturulmuştur.
C) Dünya ekonomisinin % 90'ını, ticaretinin % 80'ini ve nüfusunun 2/3'ünü temsil etmektedir.
D) 2008 yılında meydana gelen küresel krizin ardından G-20 liderler düzeyinde toplanmaya başlamıştır.
E) İspanya, G-20 üyesi olmamasına rağmen, G-20 Zirveleri ile diğer toplantılara "daimi konuk ülke" statüsünde iştirak etmektedir.

39. Kısa adı "FAO" olan uluslararası kuruluş aşağıdakilerden hangisidir?

- A) Birleşmiş Milletler Dünya Turizm Örgütü
B) Birleşmiş Milletler Dünya Gıda Programı
C) Birleşmiş Milletler Gıda ve Tarım Örgütü
D) Birleşmiş Milletler Sınai Kalkınma Teşkilatı
E) Birleşmiş Milletler İnsan Yerleşimleri Programı

40. 23. İşitme Engelliler Olimpiyat Oyunları (Deaflympics 2017) 18-30 Temmuz 2017 tarihleri arasında aşağıdaki illerden hangisinde düzenlenmiştir?

- A) Hatay
B) Antalya
C) İstanbul
D) Samsun
E) Erzurum

41. 19 Aralık 2016 tarihinde Ankara'da uğradığı siyahı saldırı sonucu hayatını kaybeden Rusya Büyükelçisi aşağıdakilerden hangisidir?

- A) Andrey Karlov
B) Aleksey Yerhov
C) Mikhail Kosyrev
D) Aleksei Sazonov
E) Alexander Kantemirov

42. 26 Ağustos 2016 tarihinde açılan Yavuz Sultan Selim köprüsünün "köprü ustası" olarak bilinen mimarı aşağıdakilerden hangisidir?

- A) Bruno Taut
B) Tom Wright
C) Jean Nouvel
D) Michel Virlogeux
E) Frank Lloyd Wright

43. Dünyanın en büyük 3. Tohum Gen Bankası olan ve binlerce çeşit örnek tohum muhafaza edilen Biyoteknoloji Araştırma Merkezi aşağıdaki şehirlerden hangisinde açılmıştır?

- A) İzmir
B) Bursa
C) Ankara
D) Antalya
E) Adana

44. Yozgat'ın Sorgun ilçesine 13 km mesafede bulunan MÖ 600 yıllarında Medler tarafından kurulduğu tahmin edilen Pteria Antik kentine ait harabelerin adı aşağıdakilerden hangisidir?

- A) Ani
B) Amare
C) Aşağıbedal
D) Arabdarlo
E) Kerkenes

45. Aşağıdakilerden hangisinde Osmanlı padişahları ve şiiirlerinde kullandıkları mahlas yanlış eşleştirilmiştir?

- A) II. Bayezid - Adli
B) II. Selim - Harimi
C) III. Murad - Muradi
D) Yavuz Sultan Selim - Selimi
E) Kanuni Sultan Süleyman - Muhibbi

46. • Filistin davasının tanıtımına yaptığı katkılardan dolayı 1986 yılında Tunus'ta sürgünde bulunan Yaser Arafat tarafından "Özgürlük Madalyası"yla onurlandırıldı.
• "Aydınlanma Değil, Merhamet!" adlı romanıyla 2006 yılında Moskova'da "Mikhail A. Sholokhov 100. Yıl Roman Ödülü"nü kazandı.
• 2014 yılında Edebiyat alanında Cumhurbaşkanlığı Kültür ve Sanat Büyük Ödülü'nü aldı.

Hakkında bilgi verilen yazar aşağıdakilerden hangisidir?

- A) Alev Alatlı
B) Nuri Pakdil
C) Tomris Uyar
D) Mustafa Kutlu
E) Rasim Özdenören

47. Günümüzde ABD'nin bir sembolü olan Özgürlük Anıtı aslında aşağıdaki devletlerden hangisi için yapılmıştır?

- A) İtalya
B) Osmanlı
C) İngiltere
D) Almanya
E) Yunanistan

48. Ünlü Fransız yazar Lamartine'nin dünyaya son kez bakmak istediği aynı zamanda televizyon ve radyo vericilerinin toplanacağı İstanbul'un simgelerinden olacak olan kulenin dikildiği tepe aşağıdakilerden hangisidir?

- A) Beyazıt B) Çemberlitaş
C) Edirnekapı D) Çamlıca
E) Kocamustafapaşa

49. Türkiye'nin tek tropikal kelebek bahçesi aşağıdaki illerin hangisinde yer alır?

- A) İzmir B) Konya
C) Muğla D) Bursa
E) Nevşehir

50. Aşağıdakilerden hangisi UNESCO tarafından 2017 Dünya Kitap Başkenti olarak seçilmiştir?

- A) Atina B) Erivan
C) Konakri D) Wrocław
E) Amsterdam

51. Türk Anayasa tarihinin tek yumuşak Anayasası aşağıdakilerden hangisidir?

- A) 1876 Anayasası B) 1921 Anayasası
C) 1924 Anayasası D) 1960 Anayasası
E) 1982 Anayasası

52. Aşağıdaki Anayasalardan hangisi "kuvvetler birliği görevler ayrılığı" ilkesini kabul etmiştir?

- A) 1876 Anayasası B) 1921 Anayasası
C) 1924 Anayasası D) 1961 Anayasası
E) 1982 Anayasası

53. 1982 Anayasası ve 1961 Anayasası ile ilgili aşağıdakilerden hangisi yanlıştır?

- A) 1961 Anayasası'nda, Anayasa kabul edilmez ise yeniden seçim yapılacağı ve yeni Temsilciler Meclisi kurulacağı hükmüne yer verilirken 1982 Anayasası'nda buna benzer bir hüküm yoktur.
B) 1961 Anayasası'nda yer alan sivil kanat olan Temsilciler Kurulu daha temsili nitelik taşıırken 1982 Anayasası'nda sivil kanat olan Danışma Meclisi üyeleri atanmıştır.
C) 1961 Anayasası'nda referandum ve cumhurbaşkanı seçimi ayrılmışken 1982 Anayasası'nda referandum ve cumhurbaşkanı seçimi aynı anda yapılmıştır.
D) 1961 Anayasası'nın hazırlanmasında hiçbir siyasi parti rol almamışken 1982 Anayasası'nın hazırlanmasında siyasi partiler rol almıştır.
E) 1961 Anayasası kısıtlamaya tabi olmadan tartışılabilmişken 1982 Anayasası'nın hazırlanmasında tartışma eleştirme ve oyu etkileyecek her türlü hareket yasaklanmıştır.

54. 1924 Anayasası ile ilgili aşağıdakilerden hangisi yanlıştır?

- A) Katı bir Anayasa'dır.
B) Çoğulcu değil, çoğunlukçu demokrasi anlayışına sahiptir.
C) Kurtuluş Savaşı'nı yürüten Birinci Meclis tarafından yapılmıştır.
D) Temel hak ve hürriyetler alanında tabii hak doktrininden esinlenmiştir.
E) Hükümetin kolektif sorumluluğu esastır. Ülkenin genel siyasetinin yürütülmesinden her bakan ayrı ayrı kendi bakanlığından sorumlu olduğu gibi başbakanı karşı da sorumludur.

55. 1937 yılında yapılan değişiklikle 1924 Anayasası'na aşağıdaki ilkelerden hangisi girmiştir?

- A) Laiklik B) Halkçılık
C) Devletçilik D) Milliyetçilik
E) Cumhuriyetçilik

56. Mustafa Kemal Sofya'da aşağıdaki görevlerden hangisini yapmıştır?

- A) Ataşemiliterlik
- B) 9. Ordu Müfettişliği
- C) 19. Tümen Komutanlığı
- D) 7. Ordu Komutanlığı
- E) Yıldırım Orduları Grubu Komutanlığı

57. Aşağıdakilerden hangisi I. Dünya Savaşı sonunda imzalanan antlaşmalardan değildir?

- A) Sen Jermen
- B) Triyanon
- C) Versay
- D) Nöyyi
- E) Atina

58. Aşağıdakilerden hangisi Çukurova bölgesini Fransız ve Ermenilere karşı savunmuştur?

- A) Trakya – Paşaeli Müdafaaihukumilliyeye Cemiyeti
- B) Doğu Anadolu Müdafaaihukumilliyeye Cemiyeti
- C) Anadolu Kadınları Müdafaavatan Cemiyeti
- D) Kilikyalılar Cemiyeti
- E) Millî Kongre Cemiyeti

59. Millî Mücadele'nin amacı, gerekçesi ve yöntemi aşağıdakilerden hangisiyle belirlenmiştir?

- A) Erzurum Kongresi
- B) Sivas Kongresi
- C) Amasya Genelgesi
- D) Amasya Görüşmesi
- E) Havza Genelgesi

60. Aşağıdaki savaşlardan hangisi "Dumlupınar Meydan Savaşı" olarak da adlandırılmaktadır?

- A) I. İnönü Savaşı
- B) II. İnönü Savaşı
- C) Sakarya Meydan Savaşı
- D) Eskişehir – Kütahya Savaşları
- E) Başkomutanlık Meydan Savaşı

61. Aşağıdaki inkılaplardan hangisinin yapılmasıyla Osmanlı Devleti hukuki olarak sona ermiştir?

- A) Soyadı Kanunu'nun çıkarılması
- B) Saltanatın kaldırılması
- C) Medeni Kanunu'nun kabul edilmesi
- D) Millet Mekteplerinin açılması
- E) Türk Tarih Kurumunun kurulması

62. Tevhiditedrisat Kanunu aşağıdaki alanlardan hangisiyle ilgilidir?

- A) Eğitim
- B) Askerî
- C) Ekonomi
- D) Mimari
- E) Siyasi

63. Kanun önünde herkesin eşit olmasını, hiçbir kişi veya zümreye ayrıcalık tanınmamasını öngören Atatürk ilkesi aşağıdakilerden hangisidir?

- A) Cumhuriyetçilik
- B) Milliyetçilik
- C) Halkçılık
- D) Laiklik
- E) Devletçilik

64. Orhun Yazıtları aşağıdaki Türk devletlerinden hangisi dönemine aittir?

- A) I. Kök Türk Devleti
- B) Kutluk Devleti
- C) Asya Hun Devleti
- D) Avrupa Hun Devleti
- E) Uygur Devleti

65. Aşağıdakilerden hangisi ilk Türk devletlerinde hükümdarların kullandığı unvanlardan biri değildir?

- A) Han
- B) Hakan
- C) Kağan
- D) Sultan
- E) Tanhu

66. İslamiyeti kabul eden ilk Türk topluluğu aşağıdakilerden hangisidir?

- A) Avarlar
B) Hazarlar
C) Karluklar
D) Kırgızlar
E) Oğuzlar

67. Kutadgu Bilig adlı eseri aşağıdakilerden hangisi yazmıştır?

- A) Yusuf Has Hacip
B) Yükneklî Edip Ahmet
C) Kaşgarlı Mahmut
D) Ahmet Yesevi
E) Nizamülmülk

68. Dünyanın ilk üniversitesi olarak kabul edilen Nizamiye Medresesi aşağıdaki devletlerden hangisi döneminde açılmıştır?

- A) Emeviler
B) Abbasiler
C) Karahanlılar
D) Gazneliler
E) Büyük Selçuklular

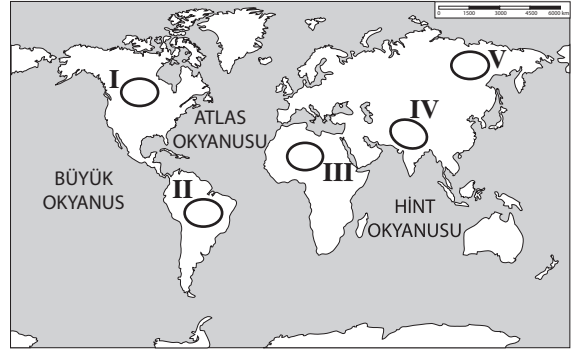
69. İlk Osmanlı akçesi aşağıdakilerden hangisi zamanında bastırılmıştır?

- A) Osman Bey
B) Orhan Bey
C) I. Murat
D) Yıldırım Bayezit
E) Kanuni Sultan Süleyman

70. Osmanlı Devleti'nde sancağa çıkma uygulaması aşağıdaki padişahlardan hangisi tarafından kaldırılmıştır?

- A) II. Murat
B) III. Mehmet
C) II. Osman
D) IV. Murat
E) Yavuz Sultan Selim

71.



Dünya'nın en yüksek zirvelerine sahip olan Himalaya dağları haritada numaralandırılarak verilen alanlardan hangisinin içinde yer almaktadır?

- A) I
B) II
C) III
D) IV
E) V

72. Aşağıda yapılan ülke-başkent eşleştirmelerinden hangisi yanlıştır?

- A) İspanya - Barselona
B) Avusturya - Viyana
C) İsviçre - Bern
D) Romanya - Bükreş
E) Sudan - Hartum

73. Aşağıdakilerden hangisi Türkiye'nin beşeri bir özelliğidir?

- A) Yüzölçümünde ova ve platolar geniş alanlar kaplar.
B) Kıyıdan iç kesimlere gidildikçe sıcaklık ortalamaları azalır.
C) Ormanların büyük kısmı kıyı bölgelerimizde yer alır.
D) Fay hatlarının ana uzanışı doğu - batı istikametindedir.
E) Okur-yazar oranı her geçen yıl yükselmektedir.

74. Bir ülkedeki aktif nüfus oranının ekonomik faaliyet kollarına göre dağılışı aşağıdakilerden hangisi hakkında daha çok bilgi verir?

- A) Yüzölçümü
B) İklim özellikleri
C) Stratejik önemi
D) Gelişmişlik düzeyi
E) Tarihsel geçmişi

75.



Dünya haritasında daire içine alınan yerde aşağıdaki su yollarından hangisi bulunmaktadır?

- A) Macellan Boğazı B) Bering Boğazı
C) Süveyş Kanalı D) Cebeli Tarık Boğazı
E) Panama Kanalı

76. Aşağıdaki akarsulardan hangisi sularını Marmara Denizi'ne boşaltır?

- A) Susurluk B) Filyos
C) Ergene D) Porsuk
E) Dalaman

77. Aşağıdaki illerin hangisinde petrol arıtma tesisi (rafineri) yoktur?

- A) Kocaeli B) Batman
C) İstanbul D) Kırıkkale
E) İzmir

78. Termessos Millî Parkı hangi ilimizin sınırları içinde yer almaktadır?

- A) İzmir B) Antalya
C) Isparta D) Adana
E) Muğla

79. Aşağıdakilerden hangisi Ceyhan Nehri üzerinde kurulu barajlarımızdandır?

- A) Altinkaya B) Menzelet
C) Hasan Polatkan D) Gökçekaya
E) Hirfanlı

80. Aşağıdakilerden hangisi atmosferde kirliliğe sebep olan en önemli faktördür?

- A) Volkanik faaliyetler B) Buzulların erimesi
C) Fosil yakıtlar D) Yağışların azalması
E) Tarımsal gübreler

81. I. Meclis hükümeti sistemi
II. Parlamenter sistem
III. Başkanlık sistemi

Yukarıda verilen temsili demokrasi türlerinden hangileri kuvvetler ayrılığını temele alır?

- A) Yalnız I B) I ve II
C) I ve III D) II ve III
E) I, II ve III

82. Kişisel hak ve özgürlüklerin korunması amacıyla devlet yetkilerinin sınırlandırılması gerektiğini savunan yaklaşım aşağıdakilerden hangisidir?

- A) Anarşizm B) Kapitalizm
C) Liberalizm D) Sosyalizm
E) Faşizm

83. Avrupa İnsan Hakları Mahkemesi ile ilgili olarak aşağıdakilerden hangisi yanlıştır?

- A) Yargıçlar, aday gösterildikleri devlet adına görev yaparlar.
B) Yargıçlar, Avrupa Konseyi Parlamenter Meclisince seçilir.
C) Mahkeme söz konusu devleti tazminata mahkûm edebilir.
D) Mahkeme taraf devletlerin sayısı kadar yargıçtan oluşur.
E) Avrupa İnsan Hakları sözleşmesi gereği kurulan bir organdır.

84. Aşağıdakilerden hangisi Türkiye'nin kurucu üye statüsünde bulunduğu uluslararası kuruluşlardan değildir?

- A) ECO B) AGİT
C) OECD D) NATO
E) UNESCO

85. Yurdun bir veya birden fazla bölgesinde veya bütününde olağanüstü hal ilan etme yetkisi aşağıdakilerden hangisine aittir?

- A) İçişleri Bakanlığı
 B) Genel Kurmay Başkanlığı
 C) Türkiye Büyük Millet Meclisi
 D) Başbakan başkanlığında toplanan Bakanlar Kurulu
 E) Cumhurbaşkanı başkanlığında toplanan Bakanlar Kurulu

86. $\frac{3}{4} - \left[\frac{2}{5} \cdot \left(\frac{1}{2} - \frac{4}{3} \right) \right]$ işleminin sonucu kaçtır?

- A) $\frac{55}{24}$ B) $\frac{25}{12}$
 C) $\frac{35}{24}$ D) $\frac{13}{12}$
 E) $\frac{19}{24}$

87. $x < y < 0 < z$ olduğuna göre aşağıdakilerden hangisi negatiftir?

- A) $\frac{z-y}{x+y}$ B) $\frac{z-y}{y-x}$
 C) $\frac{x-z}{y-z}$ D) $\frac{x-y}{x+y}$
 E) $\frac{z}{x \cdot y}$

88. Toplamları 84 olan ardışık üç çift sayıdan küçük olanı kaçtır?

- A) 22 B) 24
 C) 26 D) 28
 E) 30

89. Beş basamaklı 52 A43 sayısı 9 ile tam bölünebildiğine göre A kaçtır?

- A) 8 B) 7
 C) 6 D) 5
 E) 4

90. Dört tane 6'nın çarpımının, üç tane 3'ün toplamına oranı kaçtır?

- A) 144 B) 36
 C) $\frac{64}{9}$ D) $\frac{8}{3}$
 E) 2

91. $2^x = 5$ ve $2^y = 3$ olduğuna göre 4^{x+y} kaçtır?

- A) 30 B) 75
 C) 125 D) 225
 E) 250

92. $\sqrt{0,49} - \sqrt[3]{-0,064}$ işleminin sonucu kaçtır?

- A) 1,5 B) 1,1
 C) 0,11 D) -0,1
 E) -1

93. $2 \cdot x = 3 \cdot y = 4 \cdot z$ olduğuna göre $\frac{y+z}{x}$ kaçtır?

- A) $\frac{3}{2}$ B) $\frac{4}{3}$
 C) $\frac{5}{4}$ D) $\frac{6}{5}$
 E) $\frac{7}{6}$

94. x ve y pozitif tam sayılardır.
 $x^2 - y^2 = 25$ olduğuna göre x kaçtır?

A) 14
B) 13
C) 12
D) 11
E) 10

95. 2 katının 3 fazlası, 2 eksiğinin 3 katına eşit olan sayının 5 katı kaçtır?

A) 35
B) 40
C) 45
D) 50
E) 55

96. Yaşlarının ortalaması 24 olan yaşları birbirinden farklı dört kardeşten en küçük kardeş, en büyük kardeşten 8 yaş küçüktür.

Buna göre en büyük kardeş en çok kaç yaşında olabilir?

A) 32
B) 31
C) 30
D) 29
E) 28

97. Bir terzi 5 günde 2 takım elbise, kalfası 7 günde 2 takım elbise dikmektedir.

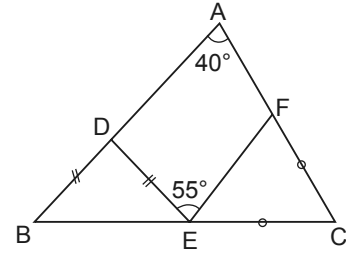
Buna göre ikisi birlikte 120 takım elbiseyi kaç günde dikerler?

A) 155
B) 160
C) 165
D) 170
E) 175

98. % 20 indirimli satış fiyatı 560 lira olan bir takım elbisenin indirimden önceki satış fiyatı kaç liradır?

A) 740
B) 700
C) 660
D) 620
E) 600

- 99.

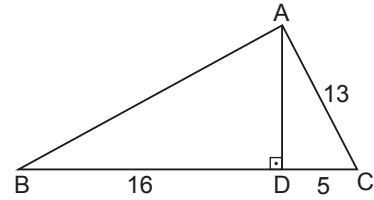


Şekildeki ABC üçgeninde $m(\widehat{BAC}) = 40^\circ$,
 $m(\widehat{DEF}) = 55^\circ$ ve $|BD| = |DE|$, $|EC| = |CF|$ 'tir.

Buna göre $m(\widehat{ABC})$ kaç derecedir?

A) 50
B) 55
C) 60
D) 65
E) 70

- 100.



Şekildeki ABC üçgeninde $[AD] \perp [BC]$ ve $|BD| = 16$ cm, $|DC| = 5$ cm, $[CA] = 13$ cm'dir.

Buna göre $|AB|$ kaç santimetredir?

A) 20
B) 22
C) 25
D) 27
E) 30

TEST BİTTİ.
CEVAPLARINIZI KONTROL EDİNİZ.

SINAV SÜRESİNCE UYULACAK KURALLAR

- 1. Adaylar, sınav kurallarına ve salon görevlilerinin tüm uyarılarına uymak zorundadırlar. Kurallara ve uyarılara uymayan adayların sınavları geçersiz sayılacaktır.**
- 2. Sınav başladıktan sonra adayların salon görevlileri ve birbirleri ile konuşmaları, kalem, silgi vb. şeyleri istemeleri yasaktır.**
- 3. Adaylar sınav süresince, sınav giriş belgesi ile birlikte geçerli kimlik belgelerinden birini (fotoğraflı nüfus cüzdanı, pasaport veya sürücü belgesini) masalarının üzerinde bulundurmamak zorundadırlar.**
- 4. Sınav evraklarını teslim etmeyen, soru kitapçıklarının sayfalarından bir kısmını eksik teslim edenlerin sınavları geçersiz sayılacaktır.**

SALON GÖREVLİLERİNCE SINAV BAŞLAMADAN ÖNCE ADAYLARA YAPILACAK SON UYARILAR

- Soracağınız bir şey varsa şimdi sorunuz, sınav başladıktan sonra sorularınıza cevap verilmeyecektir.
- Başlama zilini bekleyiniz.

Hepinize başarılar dileriz.

(Salon başkanı başlama ve bitiş saatini tahtaya yazacaktır.)

Bu kitapçığın her hakkı saklıdır. Hangi amaçla olursa olsun, kitapçığın tamamının veya bir kısmının Millî Eğitim Bakanlığı Ölçme, Değerlendirme ve Sınav Hizmetleri Genel Müdürlüğünün yazılı izni olmadan kopya edilmesi, fotoğraflarının çekilmesi, bilgisayar ortamına alınması, herhangi bir yolla çoğaltılması, yayımlanması veya başka bir amaçla kullanılması yasaktır. Bu yasağa uymayanlar, doğabilecek cezai sorumluluğu ve kitapçığın hazırlanmasındaki mali külfeti peşinen kabullenmiş sayılır.

10 EYLÜL 2017 TARİHİNDE YAPILAN
TARIM VE KIRSAL KALKINMAYI DESTEKLEME KURUMU
DENETÇİ, UZMAN, MÜTERCİM VE DESTEK PERSONELİ SEÇME SINAVI
4. GRUP: DESTEK PERSONELİ A SORU KİTAPÇIĞI CEVAP ANAHTARI

1. A
2. E
3. C
4. B
5. C
6. D
7. D
8. A
9. E
10. C
11. D
12. C
13. B
14. E
15. A
16. C
17. B
18. A
19. D
20. B
21. D
22. E
23. B
24. C
25. E

26. C
27. A
28. E
29. A
30. B
31. E
32. C
33. D
34. B
35. A
36. E
37. B
38. A
39. C
40. D
41. A
42. D
43. C
44. E
45. B
46. A
47. B
48. D
49. B
50. C

51. B
52. C
53. D
54. C
55. A
56. A
57. E
58. D
59. C
60. E
61. B
62. A
63. C
64. B
65. D
66. C
67. A
68. E
69. A
70. B
71. D
72. A
73. E
74. D
75. E

76. A
77. C
78. B
79. B
80. C
81. D
82. C
83. A
84. D
85. E
86. D
87. A
88. C
89. E
90. A
91. D
92. B
93. E
94. B
95. C
96. D
97. E
98. B
99. E
100. A