

T.C.

MİLLÎ EĞİTİM BAKANLIĞI
AÇIK İLKÖĞRETİM OKULU
2011-2012 ÖĞRETİM YILI 3. DÖNEM SINAVI
1. OTURUM: 1 TEMMUZ 2012

DERS KODU VE ADI	SORU SAYISI	SAYFA NO	DERS KODU VE ADI	SORU SAYISI	SAYFA NO	TOPLAM SORU SAYISI	SINAV SÜRESİ (DAKİKA)
(601) Türkçe - 6	20	2	(708) Din Kül. ve Ahlak Bil. - 7	20	17	260	150
(602) Matematik - 6	20	4	(806) İnkılap Tarihi ve Ata. - 8	20	19		
(603) Fen ve Teknoloji - 6	20	7	(807) İngilizce - 8	20	21		
(704) Sosyal Bilgiler - 7	20	10	(807) Almanca - 8	20	23		
(707) İngilizce - 7	20	12	(807) Fransızca - 8	20	24		
(707) Almanca - 7	20	13	(808) Din Kül. ve Ahlak Bil. - 8	20	26		
(707) Fransızca - 7	20	15					

ADAYLARIN DİKKATİNE!

1. Sınav saat **10.00**'da başlayacaktır. Sınav başladıktan sonra ilk **30** dakika dolmadan dışarı çıkmayınız.
2. Sınav sırasında sözlük, hesap cetveli veya makinesi, çağrı cihazı, cep telefonu, telsiz, radyo gibi elektronik iletişim araçlarını yanınızda bulundurmuyunuz. Bu araçları kullanmanız ve kopya çekmeye teşebbüs etmeniz hâlinde sınavınız geçersiz sayılacaktır.
3. Başvuru şartlarını taşımadığınız hâlde sınava girmeniz, kopya çekmeniz, başka adayın sınav evrakını kullanmanız, geçerli kimlik belgenizi ve sınav giriş belgenizi ibraz edemediğiniz durumlarda sınavınız geçersiz sayılacaktır.
4. Sınavın değerlendirilmesi aşamasında, bilgisayar ortamında yapılan kopya analizinde ikili veya toplu kopya tespiti hâlinde sınavınız geçersiz sayılacaktır.

CEVAP KÂĞIDI VE SORU KİTAPÇIĞI İLE İLGİLİ AÇIKLAMALAR

1. Cevap kâğıdınızdaki bilgilerin doğruluğunu kontrol ediniz ve cevap kâğıdınızı mürekkepli kalemle imzalayınız.
2. Cevap kâğıdı üzerinde kodlamalarınızı kurşun kalemle yapınız.
3. Değiştirmek istediğiniz bir cevabı, yumuşak silgiyle cevap kâğıdını örselemeden temizce siliniz ve yeni cevabınızı kodlayınız.
4. Soru kitapçığının sayfalarını kontrol ediniz, baskı hatası var ise değiştirilmesini sağlayınız.
5. Soruların çözümü için size ayrıca boş kâğıt verilmeyecektir. Soru kitapçığının içindeki boş alanları soru çözümleri için kullanabilirsiniz.
6. Her sorunun dört seçeneğinden sadece biri doğrudur. Doğru seçeneği, cevap kâğıdınızın ilgili sütununa soru numarasını dikkate alarak yuvarlağın dışına taşırmadan kodlayınız. **Soru kitapçığı üzerinde yapılan cevaplandırmalar dikkate alınmayacaktır.**
7. Cevaplamaya istediğiniz dersin sorusundan başlayabilirsiniz. Cevabını bilmediğiniz sorular üzerinde fazla zaman kaybetmeden diğer sorulara geçiniz. Zamanınız kalırsa bu sorulara daha sonra dönebilirsiniz.
8. Yanlış cevaplarınız dikkate alınmadan sadece doğru cevaplarınız üzerinden puanlama yapılacaktır.
9. Soruları ve sorulara verdiğiniz cevapları, yanınızda götürmek amacıyla kaydetmeyiniz; hiçbir şekilde dışarı çıkarmayınız.
10. **Sınav bitiminde, soru kitapçığı ve cevap kâğıdını salon görevlilerine teslim ediniz.**

BAŞLAYINIZ DENİLMEYEN SORU KİTAPÇIĞINI AÇMAYINIZ.

1. OTURUM

(601) TÜRKÇE – 6

1. Aşağıdakilerden hangisi denemenin özelliklerinden biri değildir?

- A) Kişiyi veya toplumu ilgilendiren her türlü konu üzerine yazılabilir.
- B) Çoğunlukla kendi kendine konuşuyormuş gibi kaleme alınır.
- C) Olağanüstü olaylara ve kişilere yer verilir.
- D) Konular kişisel bir anlayışla işlenir.

2. Aşağıdaki altı çizili sözcüklerden hangisi mecaz anlamda kullanılmıştır?

- A) Rakipleri çok dişli çıktı.
- B) Dikiş makinesinin kolu bozulmuş.
- C) Nezle olduğu için burnu çok akıyor.
- D) Selden köprünün ayakları zarar görmüş.

3. “Kalpten kalbe bir yol vardır, görülmez.” cümlesinde numaralandırılmış sözcüklerin hangisinde ünsüz yumuşaması vardır?

- 1 2 3 4
- A) 1 B) 2 C) 3 D) 4

4. “Belli etmeden iş çevirmek, ortalığı karıştırmak” anlamına gelen deyim aşağıdakilerden hangisidir?

- A) Ecel terleri dökmek
- B) Ayıkla pirincin taşını
- C) Yerinde yeller esmek
- D) Saman altından su yürütmek

5. Aşağıdaki sözcüklerden hangisi kalınlık-inceciklik uyumuna uyar?

- A) İhtiyar B) Bilezik
- C) Otobüs D) Semaver

6. Ayakkabısının bağı çözülmüş. Bağa girdik, üzüm topladık.

Bu cümlelerde altı çizili sözcükler arasındaki anlam ilişkisi aşağıdakilerden hangisidir?

- A) Eş seslilik B) Yakın anlamlılık
- C) Eş anlamlılık D) Zıt anlamlılık

7. Aşağıdakilerin hangisinde özel isim yoktur?

- A) Ankara büyük bir şehirdir.
- B) Murat Bey bizi beklememiş.
- C) Bugün Anıtkabir'i ziyaret ettik.
- D) Hastaneye giderken karanfil aldı.

8. “Güllerle dolu bir bahçe gördük” cümlesindeki altı çizili sözcük, ismin hangi hâlinde?

- A) Belirtme B) Yönelme
- C) Yalın D) Bulunma

9. Annesine çok değerli bir hediye almış Kıymetli eşyalarını bir kutuya yerleştirdi.

Bu cümlelerde altı çizili sözcükler arasındaki anlam ilişkisi aşağıdakilerin hangisinde vardır?

- A) Hızlı-yavaş B) Pahalı-ucuz
- C) Mutlu-mutsuz D) Armağan-hediye

1. OTURUM

10. Uzak çok uzağız şimdi ışıktan,
Çocuk sesinden, gül ve sarmaşıktan,
Dönmeyen gemiler olduk açıktan,
Adımızı soran, arayan var mı?
(Ahmet Kutsi Tecer)

Bu şiirde aşağıdaki duygulardan hangisi yoktur?

- A) Özlem
B) Umutsuzluk
C) Sabırsızlık
D) Karamsarlık

11. “Hepimiz bu ülkenin çocukları değil miyiz?”
cümlesindeki zamir çeşidi aşağıdakilerden hangisidir?

- A) Belgisiz zamir
B) İşaret zamiri
C) Kişi zamiri
D) Soru zamiri

12. Aşağıdakilerden hangisi bir yazıda ele alınan konunun örnekler, yorumlar, karşılaştırmalar ve açıklamalarla genişletildiği bölümdür?

- A) Giriş
B) Gelişme
C) Tema
D) Sonuç

13. Öyle insanlar vardır ki elli yaşına gelmiştir de hâlâ kendini tanımaz. Aslında kendini tanımak, pek o kadar kolay bir iş de değildir. Bir görüşe göre insanın üç kişiliği varmış: Biri herkesin zannettiği kişilik, bir diğeri insanın kendisinin olduğu kişilik ve sonuncusu da gerçek kişilik. İşte o gerçek kişiliği bulun. Kendinize başkalarının gözüyle bakmaya çalışın. Tarafsız olmaya özen gösterin. Hatta fikrine güvendiğiniz arkadaşlarınıza ve yakınlarınıza sorun, bakalım onlar sizin hakkınızda neler düşünüyor. Beğenmediğiniz yanlarınızı değiştirmeye çalışın, değiştiremeyeceklerinizi kabullenin.

Bu metinden aşağıdakilerin hangisi çıkarılabilir?

- A) İnsanlar kendini olduğu gibi kabul eder.
B) İnsanın başkalarını tanıması zor bir iştir.
C) Elli yaşına kadar insanlar kendini tanıyamaz.
D) Gerçek kişilik değişime açık olmakla kazanılır.

14. Aşağıdaki altı çizili sözcüklerden hangisi bir varlığı nitelemektedir?

- A) Mavi kazaklı çocuk benim oğlum.
B) Kırmızı en sevdiğim renktir.
C) O, her olaydan ders çıkarır.
D) Birçoğu, bu yemeği sevdi.

15. Aşağıdaki cümlelerin hangisinde bağlaç yoktur?

- A) Kendine ve bana dondurma almış.
B) Bugün gelmeyecekmiş çünkü hastaymış.
C) Emekli oluncaya kadar köylerde, kasabalarda çalıştı.
D) Gelirken bana bir gazete ile iki ekmek aliver.

16. Sevgi yaşamının gücü. Kitapları, insanları, ağaçları seversiniz. Sevgi sizi büyütür. Geliştirir, güçlendirir. Onlar da sizi sever, bunu bilirsiniz. Sevdiğinizizi duyarsınız ve güçlenirsiniz. Hayatla bağlarınız gelişir, zenginleşir. Sevgi özel bir yeti mi? Sanmıyorum. Sevginin her insanda bulunan, gelişmeye açık bir duygu olduğunu düşünüyorum. Sevgiyle yaşamının, çalışmanın, üretmenin, yaratmanın gücünü anlayabilseydik, yaşayabilseydik...

Bu parçada sevgi ile ilgili aşağıdakilerden hangisine değinilmiştir?

- A) Sevgi insana güç verir.
B) Sevgi özel bir yetenektir.
C) Bencil insan sevgiden uzaktır.
D) İnsanı sadece insan olduğu için sevmeliyiz.

17. Aşağıdakilerin hangisinde “de, da”nın yazımı ile ilgili bir yanlışlık yapılmıştır?

- A) Küçük kız kapı da kalmış.
B) Elindeki bardağı da düşürdü.
C) Onu beklemesem de olurmuş.
D) Bu gazeteyi aldığımı da söylersin.

1. OTURUM

18. Aşağıdaki cümlelerde altı çizili sözcüklerden hangisi iyelik eki almıştır?

- A) Kitabı geri verdim.
- B) Çantası kaybolmuş.
- C) Arabayı tamir ettiler.
- D) Çocukları parka götürdü.

19. "ile" sözcüğü aşağıdaki cümlelerin hangisinde edattır?

- A) Yemeğe oturması ile kalkması bir oldu.
- B) Antalya'ya yarın otobüs ile gideceğiz.
- C) Bu dergi ile şu kitabı çekmeceye koy.
- D) Sınıflar ile koridorlar tertemizdi.

20. Aşağıdakilerin hangisinde belirtili isim tamlaması kullanılmıştır?

- A) Vatan sevgisini yüreğinde hissederdi.
- B) Gelirken bize Çorum leblebisi getirmiş.
- C) Telefon numaralarını aklımda tutamam.
- D) Ağacın dalları pencereye iyice yaklaşmıştı.

(602) MATEMATİK – 6

1. 6 ile tam bölünebilen her sayı için, aşağıdakilerden hangisi doğrudur?

- A) 2 ve 3 ile tam bölünebilir.
- B) 2 ve 4 ile tam bölünebilir.
- C) 3 ve 4 ile tam bölünebilir.
- D) 3 ve 5 ile tam bölünebilir.

2. Uzunlukları 36 m ve 48 m olan iki ip, en az kaç eş parçaya ayrılabilir?

- A) 5
- B) 7
- C) 9
- D) 12

3. 36 kişilik bir sınıfın $\frac{4}{9}$ 'u basketbol, geriye kalanı ise voleybol oynamaktadır.

Buna göre, bu sınıfta kaç öğrenci voleybol oynamaktadır?

- A) 16
- B) 20
- C) 24
- D) 26

4. $a = \frac{1}{3}$, $b = \frac{3}{4}$, $c = \frac{1}{12}$ olduğuna göre;

a, b, c kesirlerinin küçükten büyüğe doğru sıralanışı aşağıdakilerden hangisidir?

- A) $c < a < b$
- B) $a < b < c$
- C) $b < a < c$
- D) $c < b < a$

5. Bir terzi, 46 metrelik bir kumaşın önce 12,4 metresini daha sonra ise 23,7 metresini kullanıyor.

Terzinin geriye kaç metre kumaşı kalmıştır?

- A) 19,9
- B) 13,6
- C) 10,46
- D) 9,9

1. OTURUM

6. $a = 16,36$, $b = 16,3$, $c = 16,43$ olduğuna göre;

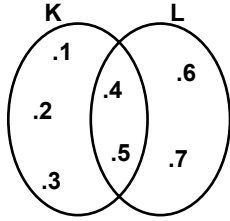
a , b , c ondalık kesirlerinin küçükten büyüğe doğru sıralanışı aşağıdakilerden hangisidir?

- A) $a < b < c$ B) $a < c < b$
C) $c < a < b$ D) $b < a < c$

7. 7 kilosu 84 TL olan kuru kayısının, 4 kilosu kaç liradır?

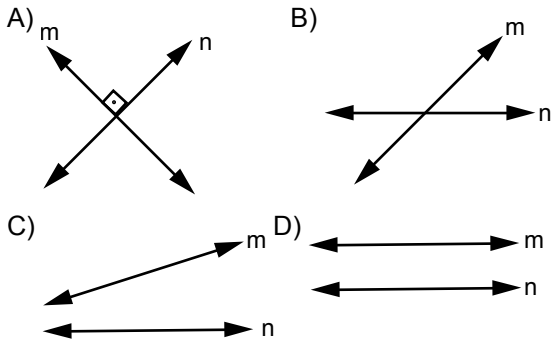
- A) 24 B) 36 C) 48 D) 60

8. Verilen şemaya göre $(K \cap L) \cup (L \setminus K)$ aşağıdakilerden hangisine eşittir?

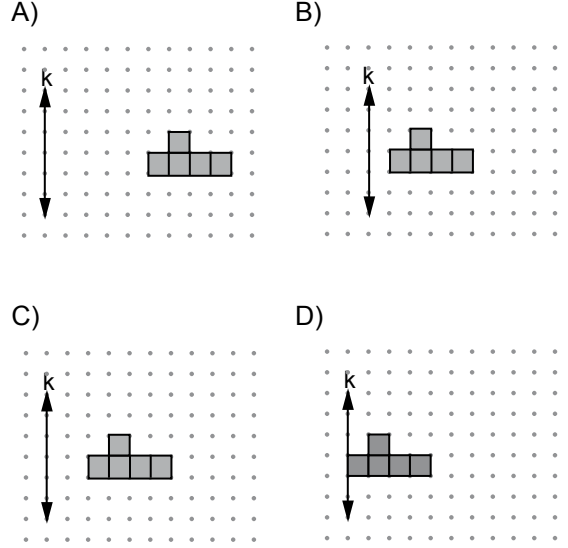
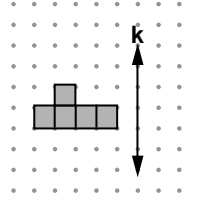


- A) K B) L
C) $K \setminus L$ D) $K \cup L$

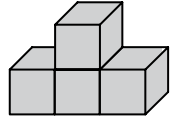
9. Paralel m ve n doğruları aşağıdakilerden hangisidir?



10. Şekilde, noktalı kâğıt üzerinde bir geometrik cisim ve bir k doğrusu verilmiştir. Geometrik cismin sağa 6 birim ötelenişi aşağıdakilerden hangisidir?



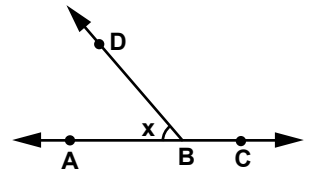
11. Şekildeki eş küplerden oluşan cismin kaç yüzeyi görünmektedir?



- A) 11 B) 10 C) 9 D) 8

12. Şekilde; A, B, C noktaları doğrusaldır.

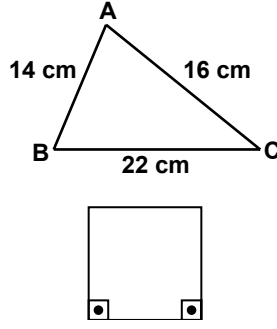
CBD açısının ölçüsü, bütünleri olan açının ölçüsünün 5 katı ise, x kaç derecedir?



- A) 30 B) 50 C) 60 D) 80

1. OTURUM

13. Şekildeki ABC üçgeninin çevre uzunluğu, bir karenin çevre uzunluğuna eşit olduğuna göre, karenin bir kenarının uzunluğu kaç santimetredir?



- A) 13 B) 10 C) 8 D) 6

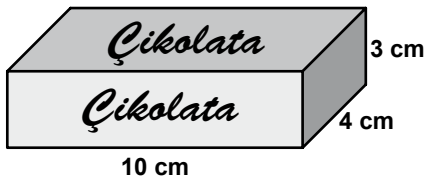
14. Şekilde; ABCD bir dikdörtgenel bölge ve $|AD| = 5 \text{ cm}$ 'dir.

Dikdörtgenin çevre uzunluğu 30 cm olduğuna göre, alanı kaç santimetrekaredir?



- A) 15 B) 25 C) 50 D) 100

15. Şekilde ayrıt uzunlukları verilen dikdörtgenler prizması şeklindeki çikolata kutusunun hacmi kaç santimetreküptür?



- A) 150 B) 120 C) 90 D) 60

16. Aşağıdaki tabloda bir manavın sattığı meyvelerin fiyatları verilmiştir.

Tablo: Manavın Sattığı Meyvelerin Fiyatları

Meyve adı	Kilogram fiyatı
Elma	2,5 TL
Nar	3 TL
Portakal	2 TL
Üzüm	4,5 TL

Buna göre, 3 kilo elma ve 2 kilo üzüm alan bir kişi kaç lira öder?

- A) 7 B) 12 C) 13,5 D) 16,5

17. Ali'nin torbasında 2 kırmızı, 4 mavi ve 6 sarı bilyesi (misket) vardır.

Torbadan rastgele çektiği bir bilyenin (misket), mavi olma olasılığı kaçtır?

- A) $\frac{3}{4}$ B) $\frac{4}{7}$ C) $\frac{2}{5}$ D) $\frac{1}{3}$

18. Bir kovada 20 litre su vardır. Hacmi 500 cm^3 olan şişelere doldurulacaktır.

Kaç şişe gerekir?

- A) 10 B) 20 C) 40 D) 100

19. $6a + 3b = 39$ cebirsel ifadesinde $a = 2$ için b 'nin değeri kaçtır?

- A) 9 B) 13 C) 17 D) 27

20. Hasan'ın yaşı, Melis'in yaşının 3 fazlasının 2 katına eşittir.

Hasan'ın yaşına ilişkin cebirsel ifade aşağıdakilerden hangisidir?

- A) $x + 6$ B) $2x + 3$
C) $3x + 2$ D) $2x + 6$

1. OTURUM

(603) FEN ve TEKNOLOJİ – 6

1. Hücre organeli Görevi
I- Kloroplast → Besin üretmek
II- Mitokondri → Oksijen üretmek
III- Koful → Madde depo etmek
Yukarıdaki eşleştirmelerden hangileri doğrudur?

- A) Yalnız II
B) I ve II
C) I ve III
D) I, II ve III

2. Aşağıdakilerden hangileri anne adayının dikkat etmesi gereken davranışlardır?

- I- Bol ve rahat elbiseler giymelidir.
II- En az 8 saat uyumalıdır.
III- Yürüyüş gibi hafif sporlar yapmalıdır.

- A) Yalnız I
B) I ve II
C) II ve III
D) I, II ve III

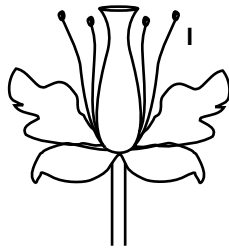
3.

Yumurta → Larva → İribaş → Yavru canlı

Yukarıda hayat döngüsü verilen canlı aşağıdakilerden hangisidir?

- A) Güvercin
B) Alabalık
C) Kurbağa
D) Kelebek

4. Yanda I ile gösterilen kısım aşağıdakilerden hangisidir?

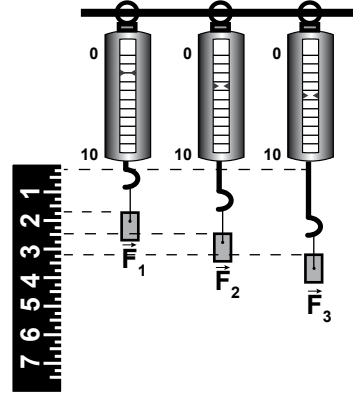


- A) Erkek organ
B) Dişi organ
C) Taç yaprak
D) Çanak yaprak

5. Aşağıdakilerden hangisinin meyvesi sebze olarak tüketilir?

- A) Kavun
B) Karpuz
C) Salatalık
D) Havuç

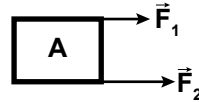
6. Düzeneklerde özdeş dinamometrelere asılan cisimler ve yaylardaki esneme miktarları gösterilmiştir.



Buna göre \vec{F}_1 , \vec{F}_2 ve \vec{F}_3 kuvvetleri arasındaki ilişki hangisinde doğru olarak verilmiştir?

- A) $\vec{F}_1 = \vec{F}_2 = \vec{F}_3$
B) $\vec{F}_1 < \vec{F}_2 < \vec{F}_3$
C) $\vec{F}_1 > \vec{F}_2 > \vec{F}_3$
D) $\vec{F}_1 = \vec{F}_2 > \vec{F}_3$

7.



Şekilde A cismine etkiyen \vec{F}_1 ve \vec{F}_2 'nin bileşkesinin değeri ve yönü ile ilgili aşağıdakilerden hangisi doğrudur?

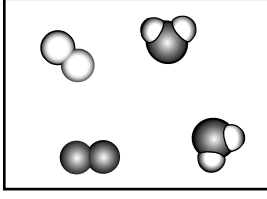
Bileşke Değeri

Bileşke Yönü

- A) $\vec{F}_1 + \vec{F}_2$ \vec{F}_1 ve \vec{F}_2 ile aynı
B) $\vec{F}_1 - \vec{F}_2$ \vec{F}_1 ve \vec{F}_2 ile aynı
C) $\vec{F}_1 + \vec{F}_2$ \vec{F}_1 ve \vec{F}_2 ile ters
D) $\vec{F}_1 - \vec{F}_2$ \vec{F}_1 ve \vec{F}_2 ile ters

1. OTURUM

8.



Karışım Modeli

Aşağıdaki ifadelerden hangisi şekildeki karışım modeli için doğrudur?

- A) Toplam dört atom vardır.
- B) İki farklı atomdan oluşmuştur.
- C) Atomik yapıda element içerir.
- D) Üç farklı bileşik yapıli molekül içerir.

9. Aşağıdaki olaylardan hangisi fiziksel bir deęişim deęildir?

- A) Tuzun suda çözünmesi
- B) Şekerin suda çözünmesi
- C) Suyun donarak buz haline gelmesi
- D) Sütün mayalanarak yoęurt haline gelmesi

10.



Şekildeki kaplarda suyun bulunduğu hâllerin molekül dağılımları verilmiştir.

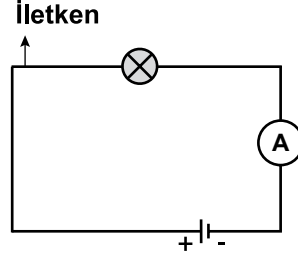
Buna göre kaplardaki suyun hâl durumları hangisindeki gibidir?

- | <u>I. Kap</u> | <u>II. Kap</u> | <u>III. Kap</u> |
|---------------|----------------|-----------------|
| A) Buz | Su | Buhar |
| B) Buhar | Su | Buz |
| C) Buhar | Buz | Su |
| D) Su | Buhar | Buz |

11. Aşağıdakilerden hangisi iletken bir maddedir?

- A) Tahta
- B) Kâğıt
- C) Plastik
- D) Metal ataş

12.

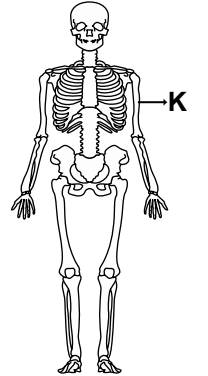


Şekildeki elektrik devresinde iletken olarak sadece boyları farklı olan bakır teller kullanılarak ampulün parlaklığı gözleniyor.

Buna göre hangi boydaki iletkenle yapılan devrede ampulün parlaklığı daha az olur?

- A) $\overline{8 \text{ mm}}$
- B) $\overline{5 \text{ mm}}$
- C) $\overline{4 \text{ mm}}$
- D) $\overline{6 \text{ mm}}$

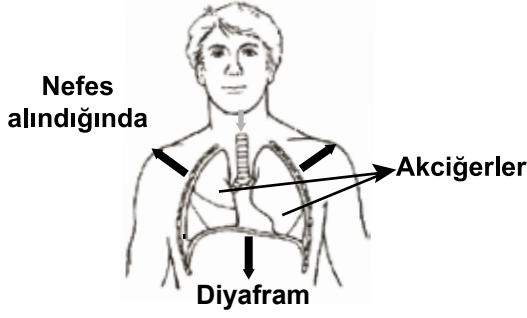
13. Yandaki insan iskeletinde K ile gösterilen kemiğin adı aşağıdakilerden hangisidir?



- A) Uyluk kemięi
- B) Kol Kemięi
- C) Kaval Kemięi
- D) Pazı Kemięi

1. OTURUM

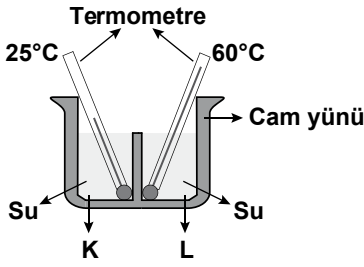
14. Nefes alınması sırasında akciğer ve diyaframda meydana gelecek değişim resimdeki gibidir.



Resme göre aşağıdakilerden hangisi söylenemez?

- A) Diyafram kasının düzleştiği
- B) Akciğerlerin hacimce genişlediği
- C) Göğüs kafesinin kubbeleştiği
- D) Kaburgalar arası kasların gevşediği

15.

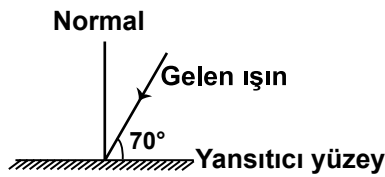


Oda sıcaklığındaki kabın K ve L bölümlerinde bulunan su sıcaklıkları termometrelerle düznedeki gibi ölçülüyor.

Belli bir süre sonra aşağıdakilerden hangisinin olması beklenir?

- A) K bölümündeki su sıcaklığının azalması
- B) L bölümündeki su sıcaklığının artması
- C) L bölümündeki su sıcaklığının azalması
- D) K bölümündeki su sıcaklığının sabit kalması

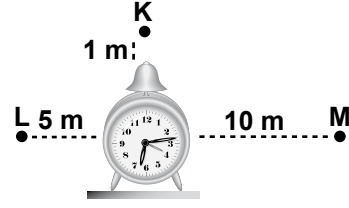
16.



Yansıtıcı yüzeye 70° lik açı ile gelen ışının yansıyan ışınla arasındaki açı kaç derecedir?

- A) 20
- B) 40
- C) 70
- D) 140

17.



Şekildeki saat zilinin sesi K, L ve M noktalarında farklı şiddetlerde hissediliyor.

Bu durum ile ilgili olarak aşağıdakilerden hangisi test edilmek istenmiştir?

- A) Sesin yayılması için maddesel ortamın gerekli olduğu
- B) Ses şiddetinin, kaynağa olan uzaklığa bağlı olduğu
- C) Ses iletim hızının maddenin cinsine bağlı olduğu
- D) Sesin soğurabilir özellikte olduğu

18. Ses ile ilgili aşağıdaki ifadelerden hangisi yanlıştır?

- A) Sadece düz yüzeylerden yansır.
- B) Nesnelerin titreşimi sonucu oluşur.
- C) Maddenin özelliğine göre yankılanır.
- D) Yankısı az olan madde ile kirliliği azaltılır.

19. Tortul kayalar aşağıdaki özelliklerden hangisine sahiptir?

- A) Organik yapıda olma
- B) Fosil bulundurma
- C) Kristal yapıda olma
- D) Tabakasız yapıda olma

20. Uzun süreç içerisinde taşlaşarak günümüze kadar ulaşmış; kemik, kabuk gibi canlı kalıntılarına da izlerine ne denir?

- A) Traverten
- B) Maden
- C) Fosil
- D) Kayaç döngüsü

1. OTURUM

(704) SOSYAL BİLGİLER – 7

1. Aşağıdaki davranışlardan hangisi insanlar arası iletişimi olumsuz yönde etkiler?

- A) Selam vermek
- B) Hâl hatır sormak
- C) “Günaydın” demek
- D) Yüksek sesle konuşmak

2. Aşağıdaki şehirlerimizden hangisinin büyüüp gelişmesi diğerlerine göre farklı bir nedene dayanır?

- A) Kocaeli
- B) İstanbul
- C) Antalya
- D) Kayseri

3. UNICEF ve Milli Eğitim Bakanlığı işbirliği ile yürütülen “Haydi Kızlar Okula” kampanyasının başlatılmasında aşağıdaki bölgelerden hangilerine öncelik verilmiştir?

- A) Doğu Anadolu ve Güneydoğu Anadolu
- B) İç Anadolu ve Marmara
- C) Akdeniz ve Ege
- D) Karadeniz ve İç Anadolu

4. Anadolu’da ilk kubbeli medreseleri yaptırarak Türk mimarisine yeni bir tarz kazandıran beylik aşağıdakilerden hangisidir?

- A) Saltuklular
- B) Mengücekliler
- C) Artuklular
- D) Danişmentliler

5. Batman Çayı üzerindeki Malabadi Köprüsü hangi Anadolu Türk beyliği döneminde yapılmıştır?

- A) Artuklular
- B) Danişmentliler
- C) Saltuklular
- D) Mengücekliler

6. Osmanlı Devleti’nin toprak kaybettiği ilk antlaşma aşağıdakilerden hangisidir?

- A) Pasarofça
- B) Karlofça
- C) Küçük Kaynarca
- D) Vasvar

7. Avrupa standartlarına göre III. Selim Döneminde kurulan ordu aşağıdakilerden hangisidir?

- A) Nizamı- Cedid
- B) Eşkinçi Ocağı
- C) Sekban-ı Cedid
- D) Yeniçeri Ocağı

8. Aşağıdaki savaşlardan hangisi Türkiye Selçukluları ile Moğollar arasında yapılmıştır?

- A) Katvan
- B) Köseadağ
- C) Çirmen
- D) Malazgirt

9. Enderun, hangi Osmanlı padişahı döneminde açılmıştır?

- A) II. Murat
- B) II. Mehmet
- C) Yıldırım Bayezit
- D) Kanuni Sultan Süleyman

1. OTURUM

10. İlk Osmanlı medresesi aşağıdakilerden hangisi döneminde açılmıştır?

- A) I. Murat B) Osman Bey
C) Orhan Bey D) Çelebi Mehmet

11. Kâğıdı ilk bulup kullanan uygarlık aşağıdakilerden hangisidir?

- A) Mısır B) Çin C) Sümer D) Yunan

12. Astronomi bilgilerini sentezleyerek on üç kiptan oluşan "Büyük Bilişim" adlı eseri yazan kimdir?

- A) Fergani B) Ali Kuşçu
C) Batlamyus D) Uluğ Bey

13. Tarihin babası olarak adlandırılan bilim insanı aşağıdakilerden hangisidir?

- A) Herodot B) Pisagor
C) Tales D) Sokrat

14. Sanayi İnkılabı Avrupa'da ilk defa hangi ülkede başladı?

- A) Almanya B) İngiltere
C) Fransa D) İtalya

15. Türkiye Büyük Millet Meclisinin çıkardığı kanunların anayasaya uygunluğunu denetleyen yargı organı aşağıdakilerden hangisidir?

- A) Yargıtay B) Sayıştay
C) Danıştay D) Anayasa Mahkemesi

16. Ülkemizde Sosyal Güvenlik Kurumunun varlığı Türkiye Cumhuriyeti Devleti'nin hangi niteliğinin göstergesidir?

- A) Laik Devlet B) Sosyal Devlet
C) Demokratik Devlet D) Hukuk Devleti

17. Osmanlı'da devletin gelir ve giderlerinden sorumlu olan divan üyesi aşağıdakilerden hangisidir?

- A) Kazasker B) Nişancı
C) Şeyhülislam D) Defterdar

18. Aşağıdaki ülkelerden hangisi I. Balkan Savaşı'nda Osmanlı Devletine karşı savaşmamıştır?

- A) Yunanistan B) Romanya
C) Bulgaristan D) Karadağ

19. Birinci Dünya Savaşı'nda aşağıdaki ülkelerden hangisi İttifak Devletleri içinde yer almamıştır?

- A) Rusya
B) Almanya
C) Bulgaristan
D) Avusturya-Macaristan

20. Osmanlı Devleti; Romanya, Sırbistan ve Karadağ'ın bağımsızlığını aşağıdaki antlaşmalardan hangisi ile kabul etmiştir?

- A) Edirne Antlaşması
B) Lozan Antlaşması
C) Berlin Antlaşması
D) Uşi Antlaşması

1. OTURUM

(707) İNGİLİZCE – 7

1 - 20. sorularda boş bırakılan yerlere uygun gelen kelime ya da ifadeyi işaretleyiniz.

1. Usually in winter, the temperature is zero.

- A) opposite B) behind
C) below D) from

2. The meeting is at 9 o'clock. Don't

- A) be late B) write a letter
C) open your mouth D) read a newspaper

3. You must your teeth twice a day.

- A) visit B) speak C) drink D) brush

4. We can't buy that flat it is too expensive.

- A) when B) while
C) because D) before

5. People smoke cigarette in public buildings.

- A) mustn't B) have to
C) couldn't D) can

6., please. It's too hot.

- A) Write a letter B) Speak English
C) Open the window D) Read newspaper

7. I'm, he won't come to the meeting.

- A) think B) worry
C) promise D) afraid

8. If I knew the answer of the question,

- A) I would lend you some.
B) I would tell it to you.
C) I would have a party.
D) I would visit them.

9. Maria's hair style is different Susan's.

- A) to B) as C) from D) than

10. Cemil was ill he couldn't go to school.

- A) before B) after C) while D) so

11. She decorated the room

- A) myself B) herself
C) himself D) itself

12. A kilo of iron is as as a kilo of cotton.

- A) heavy B) famous
C) old D) lucky

13. I didn't cola last night, but I a cup of coffee.

- A) drank / drank B) drank / drink
C) drink / drank D) drink / drink

14. Look at the clouds!

- A) I'm going to be a doctor.
B) He's going to study Maths.
C) We're going to travel by train.
D) It's going to rain.

1. OTURUM

15. My mother is the kitchen.

- A) in B) at C) on D) to

16. My girlfriend loves flowers . I bought some flowers yesterday.

- A) her B) him C) it D) me

17. I've got a car is red.

- A) because B) which
C) so D) why

18. A: My History isn't good.

B:

- A) Let's study together!
B) Shall we play tennis?
C) Let's watch TV!
D) Why don't you see a doctor?

19. A:

B: Yes, I did.

- A) Are you going to drink tea?
B) Did you play football yesterday?
C) Do you always wear trousers?
D) Are you listening to the news?

20. A: I miss my village a lot.

B:

A: Good idea!

- A) Let's buy two hamburgers for lunch!
B) Why don't you go there this weekend?
C) Why don't you learn Spanish?
D) Let's not go anywhere!

(707) ALMANCA – 7

1 - 19. sorularda boş bırakılan yerlere uygun gelen kelime ya da ifadeyi işaretleyiniz.

1. ist das?

- Das ist Jürgen.

- A) Wer B) Wo C) Was D) Wie

2. Wie alt bist du?

- Ich bin Jahre alt. (39)

- A) neunundzwanzig B) neununddreißig
C) dreundneunzig D) dreunddreißig

3. Wie geht es?

- Danke es geht uns gut.

- A) dir B) euch C) uns D) mir

4. Hast du Mann mit dem Fahrrad gesehen?

- A) der B) dem C) den D) das

5. Was ist das?

- Das ist die Tasche alten Dame.

- A) eine B) einer
C) einen D) einem

6. Gabriel hat Geburtstag. Wir haben ein Geschenk ihn gekauft.

- A) in B) bei C) für D) mit

1. OTURUM

7. Wann kommst du nach Italien?
- Ich komme 12. August.

- A) in B) bei C) um D) am

8. Wer eine Schokolade haben?

- A) wollen B) wollt
C) will D) willst

9. Der Bus fährt um 07.00 Uhr von Konya

- A) ab B) in C) eine D) auf

10. Was macht die Mutter?
- Sie (alışveriş yapıyor)

- A) kauft ein B) raumt auf
C) sieht fern D) kommt an

11. Wo kocht man?

- A) Schlafzimmer B) Küche
C) Wohnzimmer D) Garage

12. Wo bist du gestern

- A) sei B) bin
C) gewesen D) gehabt

13. Damals ich ein Auto gehabt.

- A) bin B) sein
C) haben D) habe

14. du ein Glas Apfelsaft?
- Ja bitte.

- A) Wollen B) Wollt
C) Willst D) Will

15. Wen hat Zeynep gesehen?
- Sie hat Vater gesehen.

- A) dein B) deinem
C) deiner D) deinen

16. Wann sind die Sommerferien in der Türkei?
- Vom Juni bis zum September.

- A) neun / dritten B) neunten / dritten
C) neuen / siebte D) elften / sieben

17. Seit wann lebt Sie in Schweden?
- Sie lebt seit 6 Jahren in Schweden.

- A) schon B) am C) in D) um

18. Wo hat Hans sein Auto geparkt?
- Auf Parkplatz.

- A) der B) die C) das D) dem

19. Wohin gehen Sie?
- Ich gehe in Stadt.

- A) die B) der C) das D) dem

20. Kurallı bir cümle oluşturunuz.

Geburtstag / ich kaufe ihr Blumen / Brigitte / hat Heute

- 1 2 3 4

- A) 2 / 4 / 3 / 1 B) 1 / 3 / 2 / 4
C) 4 / 2 / 1 / 3 D) 3 / 4 / 1 / 2

1. OTURUM

(707) FRANSIZCA – 7

1 - 15. sorularda boş bırakılan yerlere uygun gelen kelime ya da ifadeyi işaretleyiniz.

1. Tous les jours, il à 8h..

- A) se réveille B) se réveillent
C) se réveiller D) te réveilles

2. A: Où habitent vos parents?

B: Ils à Ankara.

- A) habite B) habites
C) habitent D) habitons

3. répond au téléphone?

- A) Quand B) A quelle
C) Où D) Qui

4. J'..... mon petit déjeuner.

- A) aime B) ai appelé
C) ai pris D) ai travaillé

5. Je veux de fleurs.

- A) une portion B) une litre
C) un tas D) un bouquet

6. A: Je veux du lait.

B: combien le litre?

- A) Ça coûte B) Quand
C) Quelle D) Où

7. Je prends de beurre.

- A) pas B) fraîche
C) beaucoup D) grand

8. S'il fait beau dimanche, nous à la campagne.

- A) irai B) irons
C) voulons D) achetons

9. Si mon ami nous au cinéma.

- A) vient / irons B) est / achetons
C) cherche / buvons D) mange / réussirons

10. La semaine prochaine, il..... du sport.

- A) faire B) fera C) fait D) font

11. Ağrı est chaud qu' Antalya.

- A) comme B) moins
C) jamais D) pas

12. L'avion est rapide la voiture.

- A) celui / qui B) jamais / qui
C) pas / que D) plus / que

13. J'..... de mon ami.

- A) avez parlé B) ont parlé
C) ai parlé D) avons parlé

1. OTURUM

14. Hier soir, tu n'..... rien

- A) as / mangé B) avons / mangé
C) avez / mangé D) ont / mangé

15. Je chercher mon livre de français.

- A) venir B) vais C) lire D) oublier

16 - 18. sorularda verilen karşılıklı konuşmada boş bırakılan yere gelecek uygun ifadeyi işaretleyiniz.

16. A: Qu'est-ce que tu veux; pain ou dessert?

B:

- A) Dessert, s'il vous plait.
B) C'est une fleur.
C) Ça fait 20F.
D) Ça va.

17. A:

B: A 23 heures du soir.

- A) Qui est Michel?
B) Où habite-t-elle?
C) Quand est-ce que vous dormez?
D) Qu'est-ce que c'est?

18. A: Où est-ce que vous êtes nées?

B:

- A) Je suis venu à 9 heures.
B) J'ai treize ans.
C) Ali habite à Manisa.
D) Je suis née à Zonguldak en 1970.

19. • Jale

- 25 ans
• Journaliste

Yukarıda verilen bilgilere göre aşağıdaki ifadelerden doğru olanı işaretleyiniz.

- A) Elle s'appelle Jale.
B) J'ai 12 ans.
C) Je suis avocate.
D) J'aime mon amie.

20. "Il n'achète pas un livre." cümlesinin Türkçe karşılığı aşağıdakilerden hangisidir?

- A) O, çok güzel konuşur.
B) O, yemek yemiyor.
C) Bugün hava çok güzel.
D) O, kitap satın almıyor.

1. OTURUM

(708) DİN KÜLTÜRÜ ve AHLAK BİLGİSİ – 7

1. Allah'ın peygamberlerine gönderdiği ilahî söz-
lere; emir, yasak ve tavsiyeleri kapsayan ilahî
bilgilere ne ad verilir?

- A) Kur'an
C) Vahiy
B) Sünnet
D) Te'vil

2. • Furkan

- Zikr
- Tenzil

Verilen kavramlar hakkında aşağıdakilerden
hangisi doğrudur?

- A) Kur'an'ın isimlerindedir.
B) Allah'ın sıfatlarındandır.
C) Meleklerin isimlerindedir.
D) Peygamberimizin özelliklerindedir.

3. “İnkâr edenler görmüyorlar mı, gökler ve yer
yapışık iken onları ayırdığımızı?(...)” (Enbiya
suresi, 30. ayet)

Verilen ayet aşağıdakilerden hangisi arasında-
ki ilişkiye örnek oluşturur?

- A) Allah - İnsan
C) İnsan - Evren
B) Allah - Evren
D) İnsan - İnsan

4. Kişinin kendisini büyük görüp başkalarını kü-
çümsemesi anlamına gelen davranış aşağıda-
kilerden hangisidir?

- A) Kıskançlık
C) İftira
B) Kibir
D) Gıybet

5. Allah'ın affetmeyeceğini bildirdiği davranış
aşağıdakilerden hangisidir?

- A) İmkânı olduğu hâlde kurban kesmemek
B) Farz olduğu hâlde hacca gitmemek
C) Ramazan orucunu bilerek bozmak
D) Kul hakkı yemek

6. Hac ve umre ibadeti için Mekke'ye giden
kimselerin Safa ve Merve tepeleri arasında
yedi kez gidip gelerek yaptıkları ibadete ne ad
verilir?

- A) İhram
C) Tavaf
B) Sa'y
D) Vakfe

7. Aşağıdakilerden hangisi haccın farzlarından
değildir?

- A) Şeytan taşlamak
B) Tavaf etmek
C) İhrama girmek
D) Vakfe yapmak

8. Kâbe ile ilgili olarak aşağıdakilerden hangisi
yanlış bir bilgidir?

- A) Mekke'dedir.
B) Müslümanların kiblesidir.
C) İçerisinde peygamberimizin kabri vardır.
D) İlk olarak Hz. İbrahim döneminde inşa edilmiştir.

9. Hac ibadetini yerine getiren Müslümanların
kurban kestikleri ve şeytan taşıladıkları yer
aşağıdakilerden hangisidir?

- A) Mina
C) Safa
B) Merve
D) Müzdelife

1. OTURUM

10. Aşağıdakilerden hangisi haccın insan davranışları üzerindeki etkilerinden biri değildir?

- A) Kardeşlik, yardımlaşma ve dayanışma duygularını geliştirmesi
- B) Eşitlik ve adalet duygularını geliştirmesi
- C) Kişiyi sabırlı olmayı öğretmesi
- D) Temizlik bilincini geliştirmesi

11. Dana ve sığır gibi büyükbaş hayvanların kurban edilebilmesi için kaç yaşını doldurmuş olması gerekir?

- A) 1
- B) 2
- C) 3
- D) 4

12. Tabiat olaylarını gerçekleştirmekle görevli melek aşağıdakilerden hangisidir?

- A) Cebrail
- B) İsrail
- C) Azrail
- D) Mikâil

13. Aşağıdakilerden hangisi cinler ve meleklerin ortak özelliklerindendir?

- A) Cinsiyetleri yoktur.
- B) Günah işlemezler.
- C) Gözle görülmezler.
- D) Allah'a isyan etmezler.

14. Kıyamet gününde aşağıdakilerin hangisinden sonra insanlar dirilecek ve mahşer meydanında toplanacaktır?

- A) Sûr'a ilk kez üflendiğinde
- B) Sûr'a ikinci kez üflendiğinde
- C) Kişinin ölümünden hemen sonra
- D) Kişilerin sorgulanmalarının sonunda

15. Arkeolojik kazılarda ortaya çıkartılan mezar kalıntılarında günlük yaşama ait çeşitli eşyaların bulunması aşağıdakilerden hangisi ile açıklanabilir?

- A) Ölüm korkusu
- B) Kul hakkının ihlali
- C) Sonsuz yaşama arzusu
- D) Ahirette hesaba çekilme endişesi

16. İslam'a göre halkın hizmetine verilmek üzere okul, çeşme ve köprü gibi eserler yapmak aşağıdakilerden hangisinin kapsamındadır?

- A) Zekât
- B) Fidyeye
- C) Fitre
- D) Sadaka-i cariyeye

17. "Hani bir vakit Lokman oğluna öğüt vererek dedi ki: Oğulcuğum! Sakın Allah'a ortak koşma! Çünkü ortak koşmak şüphesiz ki büyük bir haksızlıktır." (Lokman suresi, 13. ayet)

Bu ayette, çocukların eğitimi ile ilgili olarak aşağıdakilerden hangisine yer verilmemiştir?

- A) Nezaket
- B) Şefkat
- C) Ödül
- D) Telkin

18. Verilen şekil aşağıdaki dinlerden hangisine ait bir semboldür?



Yedi kollu şamdan

- A) Musevilik
- B) Hristiyanlık
- C) Şamanizm
- D) Budizm

1. OTURUM

19. Hz. Musa'nın Allah'tan aldığı ilke ve emirleri kapsayan dine verilen isim aşağıdakilerden hangisidir?

- A) Hristiyanlık B) Mecusilik
C) İslamiyet D) Yahudilik

20. "Havari" aşağıdakilerin hangisine verilen isimdir?

- A) Habeşistan'a hicret eden Müslümanlara
B) Hz. İsa'ya inanan az sayıdaki insana
C) Hz. Musa'nın esaretten kurtardığı İsrailoğulları'na
D) İslam öncesi dönemde Allah'ın birliğine inananlara

(806) İNK. TARİHİ ve ATATÜRKÇÜLÜK – 8

1. II. Meşrutiyetin ilan edilmesinde aşağıdaki cemiyetlerden hangisi etkili olmuştur?

- A) İttihat ve Terakki B) Vatan ve Hürriyet
C) Millî Kongre D) Teali İslam

2. Aşağıdakilerden hangisi Mustafa Kemal'in yaptığı askerî görevlerden biri değildir?

- A) Hareket Ordusu Kurmay Başkanlığı
B) Yıldırım Orduları Grubu Komutanlığı
C) Genelkurmay Başkanlığı
D) Sofya Ataşemiliterliği

3. 31 Mart Olayı aşağıdaki Osmanlı padişahlarından hangisinin tahttan indirilmesine neden olmuştur?

- A) II. Mahmut B) II. Murat
C) III. Selim D) II. Abdülhamit

4. Aşağıdakilerden hangisi Mondros Ateşkes Antlaşması'nda Vilayat-ı Sitte olarak geçen illerden biri değildir?

- A) Van B) Erzincan
C) Erzurum D) Diyarbakır

5. Aşağıdakilerden hangisi I. Dünya Savaşı sonunda imzalanan antlaşmalardan biri değildir?

- A) Versay B) Nöyyi
C) Triyanon D) Uşi

1. OTURUM

6. Aşağıdakilerden hangisi I. Dünya Savaşı'na İttifak Devletleri yanında katılmıştır?

- A) Bulgaristan B) Yunanistan
C) Romanya D) Portekiz

7. Mudanya Ateşkes görüşmelerine Türk temsilcisi olarak gönderilen devlet adamı aşağıdakilerden hangisidir?

- A) Kazım Karabekir Paşa
B) Ali Fuat Paşa
C) Fevzi Paşa
D) İsmet Paşa

8. Mustafa Kemal Paşa hangi savaştan sonra mareşallik rütbesini almıştır?

- A) Çanakkale Savaşı
B) Trablusgarp Savaşı
C) Sakarya Meydan Muharebesi
D) Başkomutan Meydan Muharebesi

9. Başkomutan Mustafa Kemal Paşa, Kurtuluş Savaşı sırasında ordunun ihtiyaçlarını karşılamak için aşağıdakilerden hangisini yayınlamıştır?

- A) Misakımillî Kararları'nı
B) Amasya Genelgesi'ni
C) Tekâlif-i Milliye Emirleri'ni
D) Teşkilat-ı Esasiye Kanunu'nu

10. • I. İnönü Savaşı
• II. İnönü Savaşı
• Sakarya Savaşı

Türk orduları yukarıdaki savaşları hangi devletle yapmıştır?

- A) İngiltere B) Yunanistan
C) İtalya D) Fransa

11. Türkiye'nin kendi karasularında egemenlik kurmasını sağlayan kanun aşağıdakilerden hangisidir?

- A) Kabotaj Kanunu
B) Takrir-i Sükûn Kanunu
C) Tevhid-i Tedrisat Kanunu
D) Teşvik-i Sanayi Kanunu

12. Yeniliklere açık, toplumun ihtiyaçlarına göre gelişen bir eğitimin hedeflenmesi eğitimde hangi Atatürk ilkesinin benimsendiğinin bir göstergesidir?

- A) Cumhuriyetçilik B) Milliyetçilik
C) Halkçılık D) İnkılapçılık

13. Türk kadını;

- 3 Nisan 1930'da kabul edilen Belediyeler Kanunu ile seçmen olma hakkını,
- 26 Ekim 1933'te muhtar seçme ve köy ihtiyar heyetine seçilme hakkını,
- 5 Aralık 1934'te çıkarılan bir yasa ile de milletvekili seçme ve seçilme hakkını elde etmiştir.

Bu bilgilere dayanarak Türk kadınının hangi alandaki haklarına kavuştuğu söylenebilir?

- A) Siyasi B) Askerî
C) Dinî D) İktisadi

14. Şeyh Said İsyanı aşağıdaki siyasi partilerden hangisinin kapatılmasına neden olmuştur?

- A) Serbest Cumhuriyet Fırkası
B) Terakkiperver Cumhuriyet Fırkası
C) Hürriyet ve İtilaf Fırkası
D) Cumhuriyet Halk Fırkası

1. OTURUM

15. Atatürk bir fabrika gezisinde fabrikada duyulan sesler için "İşte halka canlılık veren gerçek musiki budur" sözü ile aşağıdakilerden hangisine vurgu yapmıştır?

- A) Yurt gezilerinin halka heyecan verdiğine
- B) Gezi ve denetlemenin önemli olduğuna
- C) Sanayileşmenin toplum üzerindeki etkisine
- D) Nitelikli iş gücüne ihtiyaç duyulduğuna

16. Millettin bireyleri arasında ayrıcalık tanımayan, millî gelirin adaletli dağıtılmasını esas alan Atatürk ilkesi aşağıdakilerden hangisidir?

- A) Laiklik
- B) Halkçılık
- C) Devletçilik
- D) Cumhuriyetçilik

17. Hatay ilini dışarıda bırakan Türkiye-Suriye sınırının belirlendiği antlaşma hangisidir?

- A) Londra
- B) İstanbul
- C) Kars
- D) Ankara

18. Aşağıdakilerden hangisi Sadabat Paketi'ne üye olan devletlerden birisidir?

- A) Pakistan
- B) Mısır
- C) Irak
- D) Suriye

19. Dünya ortak miras listesinde bulunan Mostar Köprüsü hangi ülkede yer alır?

- A) Suriye
- B) Bulgaristan
- C) Yunanistan
- D) Bosna Hersek

20. NATO, aşağıdaki devletlerden hangisinin izlediği yayılmacı politikaya karşı kurulmuştur?

- A) İngiltere
- B) Sovyetler Birliği
- C) Almanya
- D) Fransa

(807) İNGİLİZCE – 8

1 - 20. sorularda boş bırakılan yerlere uygun gelen kelime ya da ifadeyi işaretleyiniz.

1. We have been here 8 o'clock.

- A) since
- B) until
- C) for
- D) so far

2. I've had my breakfast.

- A) yet
- B) for
- C) ever
- D) already

3. China is the country in the world.

- A) most gentle
- B) most crowded
- C) wisest
- D) newest

4. Mount Ağrı is the mountain in Turkey.

- A) gentlest
- B) simplest
- C) quietest
- D) highest

5. Kaan is the most person I've ever met.

- A) hardworking
- B) crowded
- C) comfortable
- D) expensive

6. We've studied Maths two hours.

- A) yet
- B) for
- C) since
- D) then

7. I've eaten sushi. I don't know its taste.

- A) already
- B) just
- C) never
- D) ever

1. OTURUM

8. The old hotel is in the city center is being repaired by the professional architects.

- A) whose B) whom
C) who D) which

9. There is a of bread on the table.

- A) loaf B) jar C) cup D) bottle

10. I was walking in the street, the children were riding a bicycle.

- A) Why B) How C) As D) Where

11. Ali can't play basketball. He is too to play basketball.

- A) expensive B) short
C) high D) difficult

12. Don't forget to buy a packet of salt. We've got only at home.

- A) a few B) many
C) a little D) a lot of

13. She can solve the problem. She is to solve it.

- A) intelligent enough B) too stupid
C) big enough D) too old

14. She when she was driving.

- A) has gone to the cinema
B) saw an accident
C) had eaten sushi
D) is drinking cola

15. There are 7 in a week.

- A) hours B) months
C) years D) days

16. My brother was watching TV I was studying.

- A) while B) what
C) which D) who

17. I prefer walking to running.

- A) I like running very much.
B) I don't walk in the park.
C) I don't like running.
D) I run in the park.

18. A: Can you give me that book, please? The shelf is for me to reach.

B: Of course.

- A) too low B) high enough
C) low enough D) too high

19. Can : I'm very hungry!

Sinem :

Can : Let's go to the restaurant.

- A) Neither do I. B) So can I.
C) So am I. D) Neither did I.

20. A: are they?

B: They are 200 TL.

- A) How much B) How long
C) How far D) How many

1. OTURUM

(807) ALMANCA – 8

1 - 19. sorularda boş bırakılan yerlere uygun gelen kelime ya da ifadeyi işaretleyiniz.

1. Guten Ali. (sabah saat 08.00)

- A) Abend B) Morgen
C) Übermorgen D) Nacht

2. geht es euch?

- Danke gut.

- A) Was B) Wo C) Wie D) Wer

3. Woher kommst du?

- Ich komme Kroatien.

- A) in B) aus C) bei D) um

4. Für wen ist das Geschenk?

- Es ist für

- A) dich B) dein C) mein D) dir

5. Kennt ihr den Mann?

- Nein, wir kennen nicht.

- A) ihm B) ihr C) mich D) ihn

6. Ich lebe in Deutschland, ich habe hier eine Arbeit.

- A) denn B) dem C) daher D) zum

7. Das Fahrrad gehört mir.

- Das ist Fahrrad.

- A) mich B) mein C) mir D) ich

8. Trefft ihr euch mit Ahmet?

- Nein, wir treffen nicht.

- A) unsere B) uns
C) euch D) mich

9. Carlos sich damals ein schönes Auto.

- A) kaufen B) hat gekauft
C) kaufte D) kaufts

10. Die Mutter im Supermarkt eingekauft.

- A) hatten B) hast
C) haben D) hat

11. Ich erinnere mich, du ihr ein Geschenk an ihrem Geburtstag.

- A) geben B) het gegeben
C) gabst D) gibst

12. Es regnete und das Zimmer wurde nass. Ihr das Fenster schließen.

- A) konnte B) solltet
C) möchten D) musstest

13. Das Kind besteht die Prüfung bestimmt.

- A) schön B) kluge
C) ältesten D) dick

14. Die Katze ist als der Hund.

- A) kleiner B) klein
C) dick D) schnellere

1. OTURUM

15. Die Uhr = 30 TL
Die Brille = 20 TL
Der Ball = 10 TL
Der Ball ist

- A) am billigsten B) billigen
C) im billigsten D) billiger als

16. Das Auto gehört kleinen Kind.


- A) der B) dem C) das D) die

17. Wo ist der Stift?
- Er ist dem Tisch.



- A) über B) neben C) unter D) in

18. Der Hund steht den Katzen.



- A) unter B) zwischen
C) in D) auf

19. Wo ist Karin?
- Sie ist Arzt.

- A) bei B) beim C) in D) vom

20. Kurallı bir cümle oluřturunuz.

Ist krank / der Mann / zum Arzt / und geht

1 2 3 4

- A) 1 / 2 / 3 / 4 B) 2 / 1 / 4 / 3
C) 3 / 1 / 4 / 2 D) 4 / 2 / 1 / 3

(807) FRANSIZCA – 8

1 - 15. sorularda boş bırakılan yerlere uygun gelen kelime ya da ifadeyi işaretleyiniz.

1. J'..... deux filles et un garçon.

- A) ai B) êtes C) ont D) sommes

2. Tu à la maison.

- A) suis B) est C) es D) êtes

3. Vous avez d'argent.

- A) beaucoup B) cinq
C) grande D) très

4. S'il fait beau, vous à l'école à pied.

- A) va B) allons C) iront D) irez

5. Je ma robe bleue quand j'ai vu Zeynep.

- A) portons B) portes
C) portais D) portez

6. La chemise est chic le pull.

- A) plus / plus B) plus / que
C) aussi / pour D) plus / pour

7. C'est une fille fait du ski.

- A) quand B) avec C) où D) qui

8. Nous turc.

- A) parlons B) partons
C) parlez D) parlent

1. OTURUM

9. Demain, nous pour l'Italie.

- A) partirons B) partez
C) pouvez D) partent

10. Pourquoi allez-vous Paris?

- A) en B) à C) au D) de

11. Ma mère travaille une banque.

- A) beaucoup B) déjà
C) chez D) dans

12. Elle est belle que sa mère.

- A) ces B) devant
C) pas D) aussi

13. Demain matin, je tôt.

- A) me lève B) lève
C) me lèverai D) levons

14. Voilà deux crayons.
..... est noir. Celui-là est rouge.

- A) Celles B) Ceux
C) Celui-ci D) Ça

15. Ayşe répond: Je n'ai pas compris.
Elle répond

- A) qu'elle aime sa ville.
B) qu'elle n'a pas compris.
C) qu'elle travaille beaucoup.
D) qu'elle écoute la musique.

16 - 19. sorularda verilen karşılıklı konuşmada boş bırakılan yere gelecek uygun ifadeyi işaretleyiniz.

16. A: Quand partez-vous à İzmir?

B:

- A) Nous habitons à İzmir.
B) Je viens d'Istanbul.
C) Le mardi prochain.
D) Nous sommes allés à Istanbul.

17. A: Tu te couches tard ce soir?

B:

- A) Je me réveille tôt.
B) J'aime me coucher tard.
C) Il se couche tard ce soir.
D) Non, je ne me couche pas tard.

18. A: Comment as-tu réussi à l'examen?

B:

- A) J'aime manger.
B) J'ai réussi en travaillant beaucoup.
C) J'écoute la radio.
D) Elle dort souvent.

19. A: Quand est-ce que vous dormez?

B:

- A) Nous dormons à 23 heures du soir.
B) C'est l'amie de Pierre.
C) Elle habite en France.
D) Je parle italien.

20. "Vous devez parler français." cümlesinin emir kipi aşağıdakilerden hangisidir?

- A) Partons à Istanbul.
B) Buvez du vin.
C) Parlez français.
D) Regarde à la TV.

1. OTURUM

(808) DİN KÜL. ve AHLAK BİL. – 8

1. Aşağıdakilerden hangisi Hz. Muhammed'in insan sevgisine verdiği öneme en iyi örnektir?

- A) Necran Hristiyanlarının Mescid-i Nebi'de ibadet etmelerine müsaade etmesi
- B) Savaşta ganimet olarak getirilen Tevrat nüshalarını sahiplerine iade etmesi
- C) Çevre ülkelere İslam'a davet mektupları göndermesi
- D) Önünden geçen Yahudi cenazesi için ayağa kalkması

2. Hz. Muhammed'in Hılfu'l-Fudul cemiyetinde görev almasının asıl nedeni aşağıdakilerden hangisidir?

- A) Müslümanları tek çatı altında toplamak
- B) Haksızlığa uğrayanlara yardım etmek
- C) Mekke'nin ileri gelenleri arasında yer almak
- D) Mekke'nin ticaret kervanlarına hakim olmak

3. Aşağıdakilerden hangisi işlerini danışarak yapan birisi için söylenemez?

- A) Başkalarıyla daha uyumlu çalışır.
- B) Yeni şeyler öğrenme fırsatı bulur.
- C) Hedefine ulaşmakta zorlanır.
- D) Hata yapma ihtimali azalır.

- 4. • “*Sen elbette yüce bir ahlak üzeresin.*” (Kalem suresi, 4. ayet)
- “*Ben ancak güzel ahlakı tamamlamak için gönderildim.*” (Hadis-i Şerif)
- “*O'nun (Peygamberimizin) ahlakı Kur'an idi.*” (Hz. Aişe)

Verilen ifadelerden aşağıdakilerden hangisi çıkarılamaz?

- A) Hz Muhammed'in ahlakının Kur'an'dan önce şekillendiği
- B) Hz Muhammed'in güzel ahlaka katkıda bulunduğu
- C) Hz. Muhammed'in ahlakî erdemleri öğretmekle görevli olduğu
- D) Hz. Muhammed'in Kur'an'ı davranışlarına yansıttığı

5. Aşağıdakilerden hangisi kültür hakkında söylenemez?

- A) Evrenseldir. B) Değişkendir.
- C) Toplumsaldır. D) Birleştiricidir.

6. Tevekkül kavramı aşağıdakilerden hangisi ile ilişkili değildir?

- A) Güvenmek B) Çalışmak
- C) Dua etmek D) Düşünmek

7. Mevlid olarak bilinen ve asıl adı Vesiletü'n-Necat olan eser aşağıdakilerden hangisine aittir?

- A) Hoca Ahmet Yesevi
- B) Süleyman Çelebi
- C) Hacı Bektaş Veli
- D) Yunus Emre

1. OTURUM

8. Aşağıdakilerden hangisi dinî motifli örf ve adetlerimize örnek teşkil etmez?

- A) Törenle asker uğurlamak
- B) Muharrem ayında aşure dağıtmak
- C) Erkek çocuklarını sünnet ettirmek
- D) İftar yemeği vermek

9. Ayete'l-Kürsî olarak bilinen ayet aşağıdakilerden hangisiyle başlar?

- A) Huvallahüllezi lâ ilâhe illa hû...
- B) Amenerrasülü bima ünzile ileyhi...
- C) Allahümme rabbic alni mukimes salati...
- D) Allahü la ilahe illa hüvel hayyül kayyûm...

10. Kur'an-ı Kerim'de bir çok ayette: '*Düşünmez misiniz?*', '*akletmez misiniz?*' buyrulmaktadır. Bir ayette de: "*Akıl ve anlayış sahibi o kimse-ler ki ... göklerin ve yerin yaratılışı üzerinde düşünürler. Ve derler ki: Ey Rabbimiz! Sen bunları boşuna yaratmadın.*" buyrulmaktadır. (Âl-i İmran suresi, 190-191. ayetler)

Metinde verilen bilgiler kişiyi aşağıdakilerden hangisine yönlendirmez?

- A) Büyüklerimizden gördüğümüz şekilde inanmaya
- B) Allah'ın varlığının delilleri üzerinde düşünmeye
- C) Düşünerek bilinçli ve şuurlu olarak Allah'a inanmaya
- D) İnsanın sorumluluk sahibi bir varlık olduğu düşüncesine

11. Kur'an-ı Kerim, cahiliye döneminde Arapların inançlarının ve bazı davranışlarının yanlış olduğunu beyan etmiştir. Buna karşılık onlar ise "*...atalarımızdan böyle gördük, böyle yapıyoruz...*" (Bakara suresi, 170. ayet.) şeklinde cevap vermişlerdir.

Buna göre cahiliye toplumu hakkında aşağıdakilerden hangisi söylenebilir?

- A) Yeniliklere ve bilime açık oldukları
- B) Bilgiye dayalı bir yaşam sürdürdükleri
- C) Taklit ve taassubun hakim olduğu
- D) Davranışlarının İslam'la örtüştüğü

12. İnsan ve iradesi hakkında aşağıda verilen bilgilerden hangisi yanlıştır?

- A) İradesiyle yaptığı işlerden sorumlu tutulmuştur.
- B) Yanlış ve doğruyu, güzeli ve çirkini ayırt edebilir.
- C) Serbestçe dileme ve dilediği her şeyi sınırsızca yapabilme gücü ve özgürlüğü vardır.
- D) Akli, iradesi, düşünmesi ve konuşması gibi özellikleriyle üstün bir varlıktır.

13. Aşağıdakilerden hangisi "Amentü" olarak bilinen duada yer almaz?

- A) Öldükten sonra dirilme
- B) Allah'ın varlığı
- C) Kaza ve kader
- D) Salih amel

14. Aşağıdakilerden hangisi "iman" kavramının sözlük anlamları arasında yer almaz?

- A) Gönülden bağlanma
- B) Kabul etme
- C) Dua etme
- D) Güvenme

1. OTURUM

15. “İnsan ölünce yaptığı bütün işler sona erer. Ancak üç şeyin sevabı devam eder...”

Aşağıdakilerden hangisi Hz. Muhammed’in bu sözünün devamında bahsettiği üç şey içinde yer almaz?

- A) Sadaka-i cariye
- B) Kendisine dua eden evlat
- C) İnsanların faydalanacağı bilimsel eser
- D) Tevekkül ederek geçen bir ömür

16. • Bilgisizlik

- Taklit
- Fikir ve inançlarında ısrarcı olma
- Araştırmaksızın ve düşünmeksizin inanıp bağlanma

Verilen bu özellikler aşağıdaki kavramlardan hangisi ile ifade edilir?

- A) Tevekkül
- B) Taassub
- C) Tefekkür
- D) Takdir

17. Aşağıdakilerden hangisi inançla ilgili bir yorum biçimidir?

- A) Hanefîlik
- B) Şafilik
- C) Eş’arîlik
- D) Caferîlik

18. İslam’ın tevekkül anlayışına uygun olan düşünce aşağıdakilerden hangisidir?

- A) Çalışmasam da başaracağıma inanıyorum.
- B) Çok çalıştım, Allah’a güveniyorum.
- C) Çalışmadım ancak şansıma her zaman güvenirim.
- D) Kendime güvenim sonsuz, kesin kazanırım.

19. “Kim kazanmazsa bu dünyada bir ekmek parası Dostunun yüz karası, düşmanın maskarası”

M. Akif Ersoy

Bu mısralarda vurgulanan düşünce aşağıdakilerden hangisidir?

- A) Onurlu bir yaşam için çalışmak gerektiği
- B) Tembellerin başarılı olamayacağı
- C) İnsanların mesleklerini en iyi şekilde icra etmesinin gerektiği
- D) Çalışmayan kişilerin çevresindekilere muhtaç olacağı

20. Din, akıl sahibi insanları kendi istek ve arzuları ile dünyada ve ahirette iyiliğe, doğruluğa ve mutluluğa ulaştıran ilahî kurallar bütünüdür.

Bu tanımда dinin hangi özelliğine yer verilmiştir?

- A) Akıl sahibi insanlara seslenmesi
- B) İnsanları iyilik ve doğruluğa yönlendirmesi
- C) Kaynağının Allah olması
- D) Kaza ve kader inancını içermesi

TEST BİTTİ.

CEVAPLARINIZI KONTROL EDİNİZ.

SINAV SÜRESİNCE UYULACAK KURALLAR

1. Adaylar, sınav kurallarına ve salon görevlilerinin tüm uyarılarına uymak zorundadırlar. Kurallara ve uyarılara uymayan adayların sınavları geçersiz sayılacaktır.
2. Sınav başladıktan sonra adayların salon görevlileri ve birbirleri ile konuşmaları, kalem, silgi vb. şeyleri istemeleri yasaktır.
3. Adaylar sınav süresince, sınav giriş belgesi ile birlikte kimlik belgelerinden birini (nüfus cüzdanı, pasaport veya sürücü belgesini) masalarının üzerinde bulundurmamak zorundadırlar.
4. Sınav evraklarını teslim etmeyen, soru kitapçıklarının sayfalarından bir kısmını eksik teslim edenlerin sınavları geçersiz sayılacaktır.

SALON GÖREVLİLERİNCE SINAV BAŞLAMADAN ÖNCE ADAYLARA YAPILACAK SON UYARI

- Soracağınız bir şey var mı? Varsa, şimdi sorunuz.
- Sınav başladıktan sonra sorularınıza cevap verilmeyecektir.
- Başlama zilini bekleyiniz.
- Hepinize başarılar dileriz.

(Salon başkanı başlama ve bitiş saatini tahtaya yazacaktır.)

Bu kitapçığın her hakkı saklıdır. Hangi amaçla olursa olsun, kitapçığın tamamının veya bir kısmının Millî Eğitim Bakanlığı Yenilik ve Eğitim Teknolojileri Genel Müdürlüğünün yazılı izni olmadan kopya edilmesi, fotoğraflarının çekilmesi, bilgisayar ortamına alınması, herhangi bir yolla çoğaltılması, yayımlanması veya başka bir amaçla kullanılması yasaktır. Bu yasağa uymayanlar, doğabilecek cezai sorumluluğu ve kitapçığın hazırlanmasındaki mali külfeti peşinen kabullenmiş sayılır.

**1 TEMMUZ 2012 TARİHİNDE YAPILAN
AÇIK İLKÖĞRETİM OKULU 2011-2012 ÖĞRETİM YILI 3. DÖNEM SINAVI
1. OTURUM CEVAP ANAHTARI**

TÜRKÇE – 6

1. C
2. A
3. B
4. D
5. B
6. A
7. D
8. C
9. D
10. C
11. A
12. B
13. D
14. A
15. C
16. A
17. A
18. B
19. B
20. D

FEN ve TEKNOLOJİ – 6

1. C
2. D
3. C
4. A
5. C
6. B
7. A
8. B
9. D
10. C
11. D
12. A
13. D
14. D
15. C
16. B
17. B
18. A
19. B
20. C

İNGİLİZCE – 7

1. C
2. A
3. D
4. D
5. A
6. C
7. D
8. B
9. C
10. D
11. B
12. A
13. C
14. D
15. A
16. A
17. B
18. A
19. B
20. B

FRANSIZCA – 7

1. A
2. C
3. D
4. C
5. D
6. A
7. C
8. B
9. A
10. B
11. B
12. D
13. C
14. A
15. B
16. A
17. C
18. D
19. A
20. D

MATEMATİK – 6

1. A
2. B
3. B
4. A
5. D
6. D
7. C
8. B
9. D
10. B
11. C
12. A
13. A
14. C
15. B
16. D
17. D
18. C
19. A
20. D

SOSYAL BİLGİLER – 7

1. D
2. C
3. A
4. D
5. A
6. B
7. A
8. B
9. A
10. C
11. B
12. C
13. A
14. B
15. D
16. B
17. D
18. B
19. A
20. C

ALMANCA – 7

1. A
2. B
3. B
4. C
5. B
6. C
7. D
8. C
9. A
10. A
11. B
12. C
13. D
14. C
15. D
16. B
17. A
18. D
19. A
20. D

**DİN KÜLTÜRÜ ve AHLAK
BİLGİSİ – 7**

1. C
2. A
3. B
4. B
5. D
6. B
7. A
8. C
9. A
10. D
11. B
12. D
13. C
14. B
15. C
16. D
17. C
18. A
19. D
20. B

**1 TEMMUZ 2012 TARİHİNDE YAPILAN
AÇIK İLKÖĞRETİM OKULU 2011-2012 ÖĞRETİM YILI 3. DÖNEM SINAVI
1. OTURUM CEVAP ANAHTARI**

**İNKILAP TARİHİ ve
ATATÜRKÇÜLÜK – 8**

1. A
2. C
3. D
4. B
5. D
6. A
7. D
8. C
9. C
10. B
11. A
12. D
13. A
14. B
15. C
16. B
17. D
18. C
19. D
20. B

İNGİLİZCE – 8

1. A
2. D
3. B
4. D
5. A
6. B
7. C
8. D
9. A
10. C
11. B
12. C
13. A
14. B
15. D
16. A
17. C
18. D
19. C
20. A

ALMANCA – 8

1. B
2. C
3. B
4. A
5. D
6. A
7. B
8. B
9. C
10. D
11. C
12. B
13. B
14. A
15. A
16. B
17. C
18. B
19. B
20. B

FRANSIZCA – 8

1. A
2. C
3. A
4. D
5. C
6. B
7. D
8. A
9. A
10. B
11. D
12. D
13. C
14. C
15. B
16. C
17. D
18. B
19. A
20. C

**DİN KÜLTÜRÜ ve AHLAK
BİLGİSİ – 8**

1. D
2. B
3. C
4. A
5. A
6. D
7. B
8. A
9. D
10. A
11. C
12. C
13. D
14. C
15. D
16. B
17. C
18. B
19. A
20. D