

5.
SINIF



T.C.
MİLLÎ EĞİTİM BAKANLIĞI

KİTAPÇIK TÜRÜ

B

DEVLET PARASIZ YATILILIK VE BURSLULUK SINAVI SORU KİTAPÇIĞI
5. SINIF
3 MAYIS 2009 Saat: 10.00

Adayın Adı ve Soyadı :
Aday Numarası (T.C. Kimlik No) :

DİKKAT: 1. Soru kitapçıklarını kontrol ederek, baskı hatası olan kitapçığın değiştirilmesi için salon görevlilerine başvurunuz.
2. Soru kitapçığının ön ve arka yüzündeki açıklamaları okuyunuz.
3. Sınavda hesap makinesi, cep telefonu ve çağrı cihazı kullanılması yasaktır. Bu cihazları sınav başlamadan önce salon başkanına teslim ediniz.

CEVAP KÂĞIDI İLE İLGİLİ AÇIKLAMA

1. Cevap kâğıdı üzerine yazacağınız yazı ve yapacağınız işaretlemelerde kurşun kalemden başka kalem kullanmayınız.
2. **Cevap kâğıdındaki olan bilgilerin size ait olup olmadığını kontrol ediniz.** Cevap kâğıdı kullanılmayacak durumdaysa veya size ait değilse verilecek yedek cevap kâğıdına, kimliğinizle ilgili bilgileri, salon başkanının açıklamalarına göre yazınız.
3. **Kitapçık türünü cevap kâğıdınızın ilgili bölümüne mutlaka işaretleyiniz.**
4. Cevap kâğıdında **TÜRKÇE, MATEMATİK, FEN ve TEKNOLOJİ** ve **SOSYAL BİLGİLER** testleri için dört ayrı bölüm bulunmaktadır. Cevaplarınızı cevap kâğıdındaki ilgili sütunlara aşağıdaki örnekte olduğu gibi yuvarlağı, dışına taşırmadan işaretleyiniz.
Yanlış karalamalarınızı düzeltirken yuvarlağın içini temizce siliniz.

ÖRNEK KODLAMA:

(A) (B) (C) (D)

SORU KİTAPÇIĞI İLE İLGİLİ AÇIKLAMA

1. Bu soru kitapçığında; **TÜRKÇE testinde 25, MATEMATİK testinde 25, FEN ve TEKNOLOJİ testinde 25 ve SOSYAL BİLGİLER testinde 25** olmak üzere toplam **100** soru bulunmaktadır. Kitapçığın tümü için verilen cevaplama süresi **120** dakikadır.
2. Her sorunun dört seçeneğı vardır. Dört seçenektan sadece bir tanesi doğru cevaptır. Doğru bulduğunuz seçeneğı cevap kâğıdında o soru için ayrılan yerde bularak işaretleyiniz.
3. Size ayrı bir karalama kâğıdı verilmeyecektir. Soru kitapçığının içindeki boş alanları karalama yapmak için kullanabilirsiniz.
4. Cevabını bilmediğiniz sorular üzerinde fazla zaman kaybetmeden diğer sorulara geçiniz. Zamanınız kalırsa bu sorulara daha sonra dönebilirsiniz.
5. Puanlamada her soru grubu için yanlış cevap sayısının **üçte biri, doğru cevap sayısından çıkarılarak** geçerli cevaplara karşı gelen ham puan tespit edilecektir. Bu nedenle rastgele cevaplama yapmayınız.
6. Sınavın bitiminde cevap kâğıdınızı ve soru kitapçığınızı salon sorumlularına teslim etmeyi unutmayınız.

BAŞLAYINIZ DENİLMEDEN SORU KİTAPÇIĞINIZI AÇMAYINIZ.

1. Aşağıdaki altı çizili kelimelerden hangisi “çoğu kez” anlamında kullanılmıştır?

- A) Senin söylediklerine tamamen inanmak istiyorum.
- B) Büyükanem genellikle akşamları kitap okurdu.
- C) Bir kelime bile sevdiğimiz insanı bazen kırabilir.
- D) Geceyi oldukça rahat geçireceğimizi umarım.

2. “Aralık” sözcüğü, aşağıdaki cümlelerin hangisinde “iki nesne arasındaki açıklık” anlamıyla kullanılmıştır?

- A) İki masa arasında bir metre aralık var.
- B) Bir aralık yazdıklarıma göz atar mısın?
- C) Başkan, bir aralık ortadan kayboldu.
- D) O aralık, arkadaşlarımdan biri kitabımı alivermişti.

3. Aşağıdaki cümlelerin hangisinde altı çizili sözcük mecaz anlamda kullanılmıştır?

- A) Geniş çöl ufukları arasında çadırlarımızı kurduk.
- B) Aşağı katı sakın ve daha sıcak olduğu için seçtik.
- C) Kardeşimin eliyle arkadaşına mektup yolladım.
- D) Dün gece bir kâğıt parçasına alınacakları yazdım.

4. Aşağıdakilerin hangisinde “perde” kelimesi terim anlamıyla kullanılmıştır?

- A) Yağmur bulutları, güneşi perdeledi.
- B) Küçük odanın perdesini yeni diktiriyordu.
- C) Okudukça zihnindeki esrar perdesi aralandı.
- D) Oyunun son perdesi herkesi hüzünlendirdi.

5. “Evin arkasında bahçe var.” cümlesindeki altı çizili sözcüğün zıt anlamlısı aşağıdakilerin hangisinde vardır?

- A) Beş on kişi tren garının önünde toplandık.
- B) Yukarı çıkmak için yerinden yavaşça kalktı.
- C) Taşın üstünden inip arabanın yanına vardı.
- D) Yazının gerisi yarın yayımlanacak.

6. (1) Bir çöplüğü eşelerken
(2) Horoz inci bulmuş yerden
(3) Ötmeye başlamış birden
(4) Demiş şunu alan var mı?

Numaralandırılmış dizelerden hangisi kesinlikle hayal ürünüdür?

- A) 1
- B) 2
- C) 3
- D) 4

7. “İnsanlara dikkatli, özenli, ölçülü ve sevgi dolu davranmayı ailemden öğrendim.”

Böyle söyleyen bir yazar, aşağıdakilerden hangisiyle nitelenebilir?

- A) Saygılı
- B) Çekingen
- C) Dürüst
- D) Yardımsever

8. Aşağıdakilerin hangisinde “abartma” vardır?

- A) Her gün iki saat kitap okurdu.
- B) Çıkan fırtına sonucu birçok evin çatısı uçtu.
- C) Yazdığı bir kitapla bütün dünyayı etkiledi.
- D) Kartal, ağacın tepesinde uzun süre dönüp durdu.

9. “Ekmeden biçilmez.” atasözünü açıklayan cümle aşağıdakilerden hangisidir?

- A) Emek harcanmadan verim alınmaz.
- B) Herkesin kendine özgü bir çalışma biçimi vardır.
- C) Bazı işler, yardım alınmadan başarılamaz.
- D) Her sorunun bir çözümü vardır.

10. 1. uzun
2. hayatın
3. yaşanmasında değil
4. yaşanmasındadır
5. değeri
6. iyi

Numaralandırılmış sözcüklerle anlamlı ve kurallı bir cümle oluşturulduğunda sıralama nasıl olur?

- A) 1 - 2 - 5 - 3 - 6 - 4
- B) 2 - 5 - 1 - 3 - 6 - 4
- C) 2 - 5 - 6 - 4 - 3 - 1
- D) 1 - 2 - 6 - 5 - 3 - 4

11. “Para kazanmayı hiç sevmiyordu hepsiz para harcamaya bayılıyordu.” cümlesinde boş bırakılan yere aşağıdakilerden hangisi getirilmelidir?

- A) ama
- B) çünkü
- C) yani
- D) bu yüzden

12. Aşağıdakilerin hangisinde öznel bir yargı vardır?

- A) Çocukların bisiklet bindiği meydanı, otopark yapmışlar.
- B) Kutusunda duran, yayı gevşemiş bir keman gibiydim.
- C) Yağmurla gelen fırtına evlerin çatılarını uçurdu.
- D) Öğretmenim, ilk uçaklar yapılırken kuşların örnek alındığını söyledi.

13. Aşağıdaki cümlelerin hangisinde “karşılaştırma” söz konusudur?

- A) Seni bu başarından dolayı kutlarım.
- B) Çalışıyorsunuz diye yanınıza girmedim.
- C) Okulu bitirmene biz de senin kadar sevindik.
- D) Doğruyu söylediğim için bana kızıyorlardı.

14. “Bu güzellikleri görmek için Uzungöl’e gün doğarken gelmelisin.”

Bu cümlede aşağıdaki sorulardan hangisinin cevabı yoktur?

- A) Niçin
- B) Ne zaman
- C) Nasıl
- D) Nereye

15. (1) Kitapla eğer yaşıyorsanız daha pek küçük iken dost olmamışsanız yaşlılık günlerinizde onu sevip onunla arkadaş olmanız pek mümkün değildir. (2) Sizi eğlendiren, güldüren, düşündüren, sizi alıp başka âlemlere götüren kitaplar vardır. (3) Gerçekten de yaşlı insanların çoğu türlü sebeplerle çocukluklarında kitapla arkadaşlık kuramadıklarından bugün de kitaptan uzak kalmışlardır. (4) Bu yüzden de dünyanın bütün yaşlılarından daha yalnız kalıyorlar.

Numaralandırılmış cümlelerden hangisi, bu paragrafın anlam bütünlüğünü bozmaktadır?

- A) 1
- B) 2
- C) 3
- D) 4

16. Tarih öncesinde insanlar, biraz merakla biraz da korkarak, geceleri gökyüzünü seyretmişlerdir. Bugün ise pek çok insan, şehirlerde yaşadığından geceleri ender olarak gökyüzüne bakmaktadır. Sonuç olarak, ay ve yıldızların ifade ettiği çeşitli anlamlar günümüz insanı tarafından artık unutulmuştur.

Bu parçada aşağıdakilerin hangisine deği-nilmemiştir?

- A) Günümüzde, insanların önemli kısmının şehirlerde yaşadıklarına
- B) Şehirlerde yaşayan insanların gökyüzüne çok az baktıklarına
- C) Tarih öncesi insanların yönlerini bulmak için gökyüzünden yararlandıklarına
- D) Tarih öncesinde yaşamış insanların yıldızları kaygıyla seyrettiklerine

17. Boğaz gemilerinin İstanbul manzarasına asıl büyük katkıları, bacalarından çıkan dumanlardı. En çok da rüzgâra göre değişen bu karanlık kömür dumanlarını, yaptığım Boğaz manzaralarına eklemeyi severdim.

Bu paragrafın yazarı hakkında aşağıdakilerden hangisi kesinlikle söylenebilir?

- A) Resim yaptığı
- B) İstanbul'da yaşadığı
- C) Gemilerde çalıştığı
- D) Boğaz rüzgârını sevdiği

18. Sıkıntımızı unutmak, donuk hayatımıza biraz renk, biraz ışık vermek, daracık dünyamızda bulamadığımız şeyleri yaşamak için tek çare kitaplara sarılmaktır.

Bu parçaya göre aşağıdakilerden hangisi kitapların bir özelliği değildir?

- A) İnsanlara yol göstermeleri
- B) Farklı yaşamları konu edinmeleri
- C) Hoşça vakit geçirmeyi sağlamaları
- D) Kuşaktan kuşağa aktarılmaları

19. Zaman geçiyor. Bizler zamanın içinde yüzdüğümüz hâlde zamanın geçişini değil de, geçtikten sonra, sadece geçmiş olduğunu hissedebiliyoruz. Ama zaman daha geçmeden, henüz geçerken, onun geçişini âdeta gözle görür gibi bilinçli ve uyanık bir şekilde hissedebildiğimiz gün, öyle geliyor ki bana, bizden habersiz geçmiş zamanın bizde oluşturabileceği bütün acı sürprizleri ortadan kaldırmış olacaktır.

Bu parçada yazar, zamanın geçişini hissedebilmeyi aşağıdakilerin hangisiyle anlatmıştır?

- A) Zamanı planlı yaşamayla
- B) Bir işi farkında olarak ve bilerek yapmayla
- C) Yaşamın sürprizlerine hazırlıklı olmayla
- D) Yaşananlardan ders çıkarmayla

20. Yazdıklarımın çok, okuduklarıma bağlıyım. Bir kitabım yayımlanmaya görsün, bir daha okumam. Oysa on kez okuduğum kitaplar vardır. Kendi kitabımdan bir şey öğrenemem. Başkalarının kitabından ise çok şey öğrenebilirim.

Bu paragrafın yazarı aşağıdaki sorulardan hangisine cevap vermiştir?

- A) Yazmaya başlamadan önce ne kadar kitap okursunuz?
- B) Okuduğunuz kitaplarla eserleriniz arasında benzerlik var mı?
- C) Hangi tür kitaplardan daha çok şey öğreniyorsunuz?
- D) Sizin için okumak mı daha önemli yazmak mı?

21. Çiçek açmış ağaçlara bak ne güzel;
Gel bizim olsun serçelerin neşesi!
Gel seninle kırlara açılalım gel!
Neler vadetmiyor akarsuyun sesi!

Cahit Sıtkı Tarancı

Bu şiirde şairin içinde bulunduğu duyguyu aşağıdakilerden hangisi anlatmaktadır?

- A) Mutlu olmaktan doğan ve dışa vurulan sevinç
- B) Bir şeyi görme ve ona kavuşma isteği
- C) Kurulan hayallerin peşinde koşma isteği
- D) Bir şeyin gerçekleşeceğine duyulan inanç

22. Aşağıdakilerin hangisinde “da, de” nin yazımıyla ilgili bir yanlılık yapılmıştır?

- A) Bahar aylarında buralara gezici sirkler gelir.
- B) Tren garında resim sergisi açılacakmış.
- C) Bugün evde değilsiniz diye size uğramadık.
- D) Önce peki dedi, sonrada vazgeçti.

23. “Düş - rüya” kelimeleri arasındaki anlam ilişkisinin benzeri aşağıdakilerin hangisinde vardır?

- A) Gökyüzü - gezegen
- B) Elektrik - lamba
- C) Rüzgâr - yel
- D) Müzik - ses

24. Aşağıdaki cümlelerin hangisinde “portakal” sözcüğü nitelenmiştir?

- A) Bu portakalı senin için aldım.
- B) Kardeşim portakal suyunu çok sever.
- C) Yarın portakal bahçesine gideceğiz.
- D) Küçük portakal daha tatlıydı.

25. “Çiçek saksılarını koymaya veya çiçek yetiştirmeye ayrılmış yer.” anlamında bir kelime yapmak için “çiçek” kelimesine aşağıdakilerden hangisi eklenmelidir?

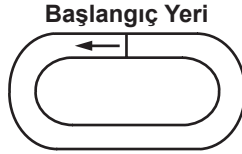
- A) -çi
- B) -lik
- C) -li
- D) -siz

**TÜRKÇE TESTİ BİTTİ.
MATEMATİK TESTİNE GEÇİNİZ.**

1. Gökhan ve Can ellerindeki her bir simidin satışından 30 Kr kazanmaktadır. Gökhan 15, Can 21 simit sattığına göre, Can'ın Gökhan'dan kaç kuruş fazla kazandığı aşağıdaki işlemlerden hangisi ile bulunur?

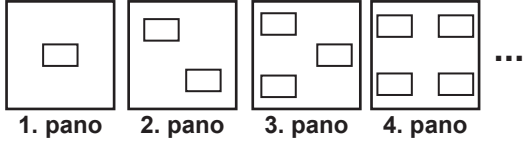
- A) $(30 \times 21) - (30 \times 15)$
 B) $(30 \times 15) + (30 \times 21)$
 C) $(30 \times 15) \times 21$
 D) $(15 \times 21) - 30$

2. Şekildeki koşu parkurunun 1 tur uzunluğu 425 m'dir. Bu parkurda yapılacak olan 2500 metrelik bir koşunun bitiş yeri, başlangıç yerine göre nerede olur?



- A) 375 m gerisinde
 B) Üzerinde
 C) 40 m ilerisinde
 D) 50 m gerisinde

- 3.



Bir okulun koridorunda yukarıdaki gibi, her birinde bir öncekinden bir fazla resim olacak şekilde 9 pano bulunmaktadır. Panolar da toplam kaç resim sergilenmektedir?

- A) 36
 B) 45
 C) 50
 D) 54

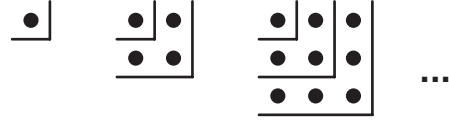
4. Bir iş adamı bankaya olan borcunun onbinler basamağındaki rakamı 1 eksik, yüzler basamağındaki rakamı 2 eksik görmüş ve buna göre ödeme yapmıştır. Banka bu iş adamından kaç TL daha ödeme yapmasını talep edecektir?

- A) 300
 B) 1200
 C) 10200
 D) 90800

5. Ayşe 799 sayısı ile bir başka doğal sayının çarpımının tahmini sonucunu 400 000 buluyor. Gerçek sonuç tahmininden daha küçük olduğuna göre, Ayşe 799'u aşağıdakilerden hangisi ile çarpmış olabilir?

- A) 592
 B) 548
 C) 519
 D) 491

- 6.



1. adım
 2. adım
 3. adım

Noktalar ile oluşturulan yukarıdaki örüntü aynı kurala göre devam ettirilirse 8. adımda elde edilen şekilde kaç nokta olur?

- A) 49
 B) 56
 C) 64
 D) 72

- 7.

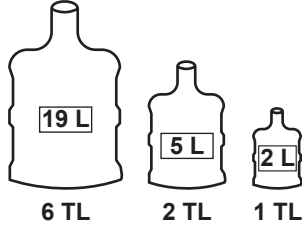
Tablo: Atletlerin Atlama Mesafeleri

Atletler	Atlanılan mesafe (m)
Yiğit	7,18
Yusuf	7,8
Can	7,08

Yukarıdaki tablo, uzun atlama dalında yapılan yarışma sonunda ilk üçe giren atletlerin atladıkları mesafeleri göstermektedir. Bu yarışmada 1., 2. ve 3. olan atletlerin isimleri aşağıdakilerden hangisindeki gibidir?

- | | 1. | 2. | 3. |
|----------|-------|-------|----|
| A) Yiğit | Yusuf | Can | |
| B) Yusuf | Yiğit | Can | |
| C) Yiğit | Can | Yusuf | |
| D) Can | Yiğit | Yusuf | |

8.



Şekildeki su kaplarının aldıkları su miktarları ile satış fiyatları verilmiştir. 27 TL ile en fazla kaç litre su alınabilir?

- A) 54 B) 79 C) 83 D) 95

9. Yalçın 1 paket fıındığın $\frac{1}{5}$ 'ini Pelin'e, $\frac{3}{5}$ 'ünü Beril'e veriyor. Geri kalan 18 fıındığı da kendisi yediğine göre bir pakette kaç tane fıındık vardır?

- A) 60 B) 72 C) 90 D) 108

10. Bir mağazada satılan şapka, eldiven ve atkının satış fiyatları yandaki tabloda verilmiştir. Bu ürünlerin üçüne 45,99 TL ödeyen müşteriye kaç TL indirim yapılmıştır?

Ürün	Satış Fiyatı (TL)
Şapka	17,99
Eldiven	13,50
Atkı	19,99

- A) 5,31 B) 5,49 C) 7,31 D) 7,49

11. Bir sınıf gezisi için öğrencilere Alanya, Ürgüp, Çanakkale ve Amasra'dan hangilerine gitmek istedikleri soruluyor. Öğrencilerin $\frac{1}{4}$ 'i Alanya'ya, $\frac{1}{8}$ 'i Ürgüp'e, $\frac{5}{12}$ 'i Çanakkale'ye, $\frac{5}{24}$ 'i Amasra'ya gitmek istediklerini belirtiyor. En çok tercih edilen yer aşağıdakilerden hangisidir?

- A) Çanakkale B) Ürgüp
C) Alanya D) Amasra

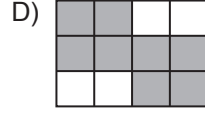
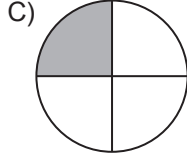
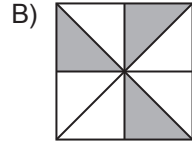
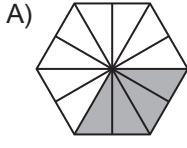
12. Bir torbadaki bilyelerin $\frac{1}{4}$ 'i sarı, $\frac{3}{8}$ 'ü yeşildir. Geriye kalan bilyeler mavi veya kırmızı renkli olduğuna göre, mavi bilyeler torbadaki bilyelerin kaçta kaç olamaz?

- A) $\frac{1}{2}$ B) $\frac{1}{4}$ C) $\frac{1}{8}$ D) $\frac{1}{16}$

13. Bir mağaza aynı fiyata sattığı pantolonlardan bir tane alana ikinci pantolonu yarı fiyatına satıyor. 2 pantolon alan bir müşteri 66 TL ödediğine göre sadece bir pantolon alan müşteri kaç TL öder?

- A) 11 B) 22 C) 33 D) 44

14. Aşağıdaki modellerden hangisinde boyalı kısmın belirttiği kesir $\frac{12}{18}$ kesrine denktir?



15. Eni 21 cm, boyu 33 cm olan dikdörtgen şeklindeki bir fotoğraf aynı oranda büyütülecektir. Fotoğrafın boyunun 44 cm olması için eni kaç santimetre olmalıdır?

A) 28 B) 32 C) 54 D) 56

16.

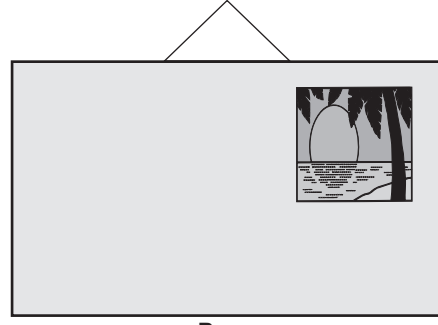
Tablo: Meryem'in Matematik Dersinden Aldığı Notlar

Sınavlar	1.	2.	3.	4.	5.
Aldığı Not	75	80	90	98	?

Yukarıdaki tabloda Meryem'in matematik dersinin ilk dört sınavından aldığı notlar verilmiştir. Meryem 5. sınavından kaç alırsa not ortalaması 85 olur?

A) 80 B) 82 C) 88 D) 90

17.

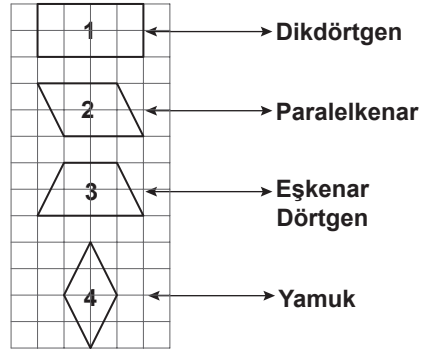


Pano

Alanı 6300 cm^2 olan bir panoya, çevre uzunluğu 120 cm olan, kare şeklinde bir resim asılmıştır. Panoda kaç santimetreka-relik boş alan kalmıştır?

A) 4500 B) 4800
C) 5400 D) 5900

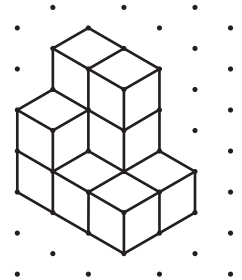
18.



Yukarıdaki eşleştirmelerin doğru olması için kaç numaralı dörtgenlerin yerleri değiştirilmelidir?

A) 1 ve 2 B) 2 ve 3
C) 2 ve 4 D) 3 ve 4

19. Görünümü yandaki izometrik kâğıt üzerinde verilen yapı kaç tane birim küpten oluşmuştur?

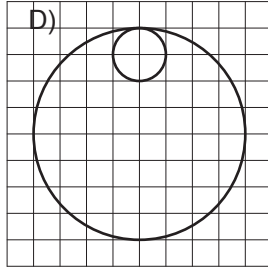
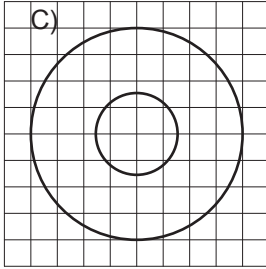
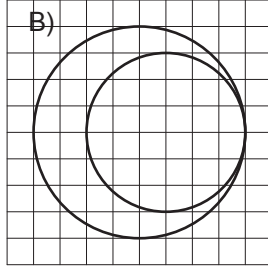
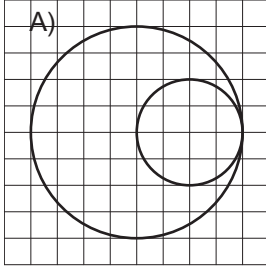


A) 8 B) 9 C) 10 D) 11

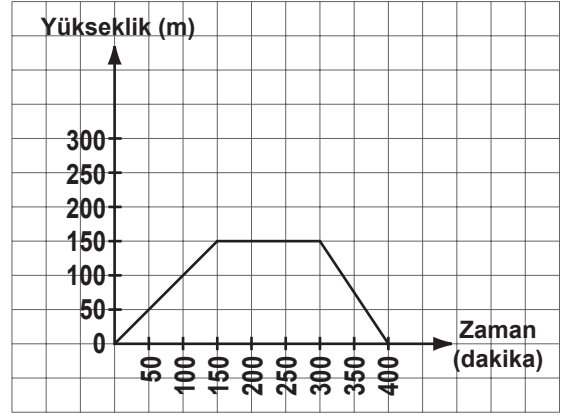
20. TRT Çocuk kanalındaki bir çocuk programı 10.40'ta başlayıp 11.50'de bitiyor. Program süresince 5'er dakikalık 3 reklam arası verildiğine göre, bu çocuk programı reklamsız yayınlansaydı kaç dakika sürerdi?

- A) 45 B) 55 C) 70 D) 95

21. Aşağıdakilerden hangisinde çemberlerden birinin yarıçapı, diğerinin çapına eşittir?



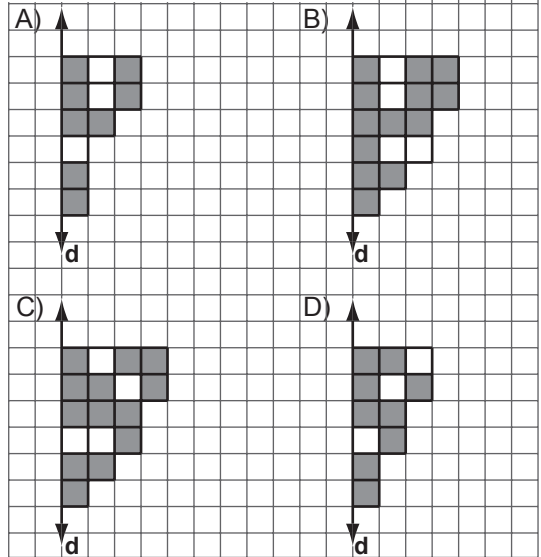

22.



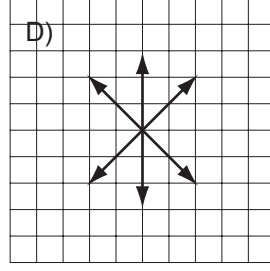
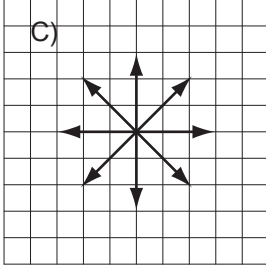
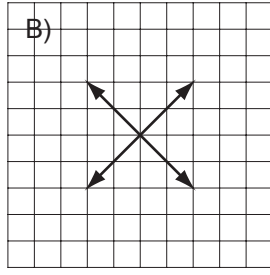
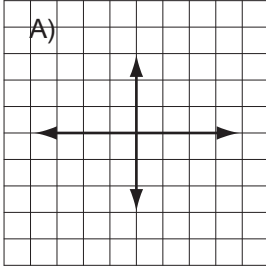
Bir dağcının bulunduğu yüksekliğin zamana göre değişimini veren grafik yukarıda verilmiştir. Grafiğe göre, dağcı ile ilgili olarak aşağıdakilerden hangisi doğrudur?

- A) Tırmanış süresi, iniş süresinden 50 dakika fazladır.
 B) İnmeye başlamadan önce 200 dakika dinlenmiştir.
 C) En fazla 300 m yüksekliğe çıkmıştır.
 D) İniş süresi, dinlenme süresinden fazladır.

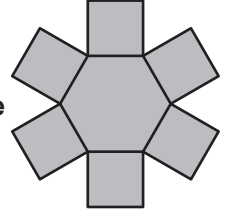
23. Yandaki şeklin d doğrusuna göre simetriği aşağıdakilerden hangisidir?



24. Karenin tüm simetri doğruları aşağıdakilerden hangisinde gösterilmiştir?



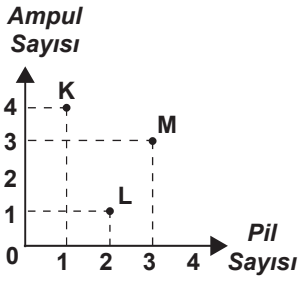
25. Verilen şekil düzgün altıgenel ve karesel bölgelerden oluşturulmuştur. Altıgenel bölgenin çevre uzunluğu 24 cm olduğuna göre, şeklin çevre uzunluğu kaç santimetredir?



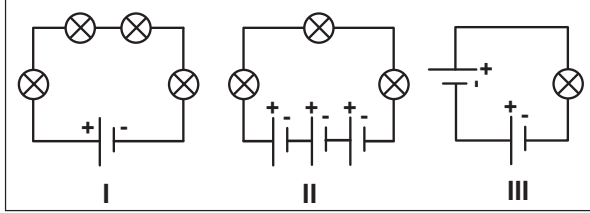
- A) 64 B) 72 C) 84 D) 96

MATEMATİK TESTİ BİTTİ.
FEN VE TEKNOLOJİ TESTİNE GEÇİNİZ.

1.



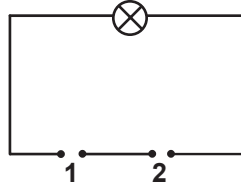
K, L ve M elektrik devrelerinin ampul sayısı - pil sayısı grafiği yukarıda verilmiştir.



Buna göre K, L, M devrelerinin I, II ve III'te verilen devreler ile eşleştirilmesi hangisinin doğru olarak verilmiştir?

	K	L	M
A)	I	III	II
B)	I	II	III
C)	III	II	I
D)	II	I	III

2. Şekildeki elektrik devresinde 1 ve 2 nolu boşluklara hangi seçenektekiler bağlandığında ampul ışık vermez?




	1	2
A)		
B)		
C)		
D)		

3. Bir gün içerisinde hem gece hem gündüz yaşanır. Bu durum aşağıdakilerden hangileri sonucunda oluşmaktadır?

- I- Dünya'nın Güneş'e olan uzaklığı
- II- Dünya'nın kendi etrafında dönmesi
- III- Dünya'nın Güneş etrafında dönmesi

- A) Yalnız I
- B) Yalnız II
- C) I - II
- D) I - III

4.



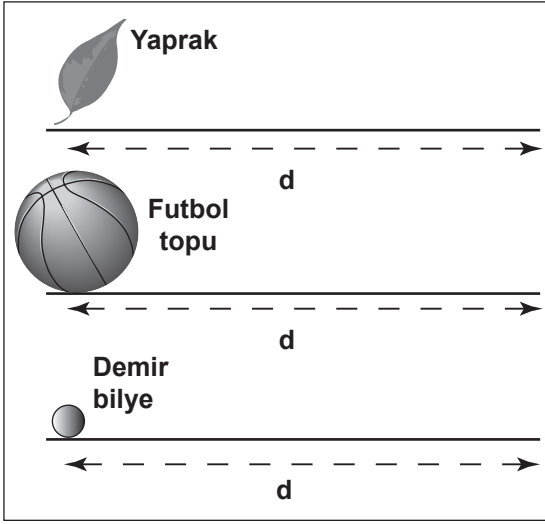
Okuldan çıkan Ali, babasına doğru yürürken babası I ve II fotoğraflarını çekiyor. Bu iki fotoğrafa göre aşağıdaki ifadelerden hangisi yanlıştır?

- A) I'de Ali okula daha yakındır.
- B) II'de Ali okula daha uzaktır.
- C) I'de Ali babasına daha uzaktır.
- D) II'de Ali babasına daha uzaktır.

5. Aşağıdaki durumların hangisinde sürtünme kuvvetinin sağladığı yarar söz konusu değildir?

- A) Yazı yazmak
- B) Paraşütle atlamak
- C) Frene bastığımızda aracı durdurmak
- D) Dişlilerin parçalarını yağlamak

6.



Şekildeki yaprak, futbol topu ve demir bilyenin d mesafesine götürülmesi için aşağıdakiler yapılıyor.

- I- Yaprak, saç kurutma makinesinin rüzgârı ile hareket ettiriliyor.
- II- Futbol topu, başka bir top çarptırılarak hareket ettiriliyor.
- III- Demir bilye, mıknatıs ile etkilenerek hareket ettiriliyor.

Buna göre yukarıdakilerin hangilerinde temas gerektirmeyen kuvvetler söz konusudur?

- A) Yalnız I
- B) Yalnız III
- C) I - II
- D) II - III

7. Aşağıdaki cümleler temas gerektiren ve gerektirmeyen kuvvetler tablosuna hangisindeki gibi işaretlendiğinde doğru olarak geçirilmiş olur?

- 1. Elimizden bıraktığımız bozuk parayı yerin çekmesi
- 2. Vincin tuğlaları yukarı çekmesi
- 3. Mıknatısın toplu iğneleri çekmesi

A)

	Temas gerektiren	Temas gerektirmeyen
1		*
2	*	
3		*

B)

	Temas gerektiren	Temas gerektirmeyen
1	*	
2		*
3	*	

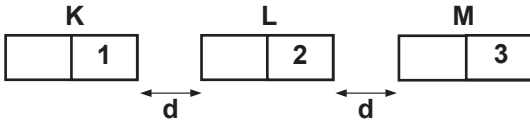
C)

	Temas gerektiren	Temas gerektirmeyen
1		*
2		*
3	*	

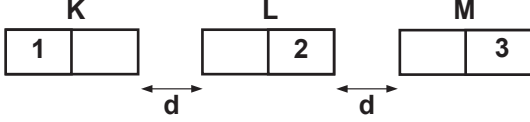
D)

	Temas gerektiren	Temas gerektirmeyen
1	*	
2	*	
3		*

8.



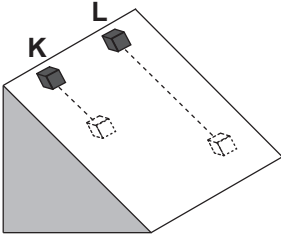
Özdeş K, L, M mıknatıslarından K ve M sabitlenmiş olup L mıknatısı serbesttir. Bu mıknatıslar yukarıdaki gibi konulduklarında L hareket ederek K mıknatısına yapışıyor. Bu mıknatıslar;



şeklindeki gibi konulduklarında L mıknatısı için aşağıdaki ifadelerden hangisi doğru olur?

- A) K'ya yapışır.
- B) M'ye yapışır.
- C) Yerinde kalır.
- D) K ve M mıknatıları arasında gidip gelir.

9. Özdeş K ve L cisimleri; L'nin tabanına yağ sürülerek şekildeki eğik düzlem üzerinde serbest bırakılıyor. K çok yavaş kayarken L hızlıca kayarak zemine ulaşıyor.




Buna göre aşağıdakilerin hangileri L'nin hareketini kolaylaştıran etkiyle benzerlik gösterir?

- I- Karda kızak ile yokuştan kayılması
- II- Karda araba tekerleklerine zincir takılması
- III- Buzlu yollara tuz serpilmesi

- A) Yalnız I
- B) Yalnız III
- C) I - II
- D) II - III

10.


Neşe öğretmen, şekildeki özdeş kaplarda bulunan aynı sıcaklıktaki suları özdeş ısıtıcılarla eşit süre ısıtıyor ve öğrencilerden kaplardaki suyun sıcaklıkları hakkında yorum yapmalarını istiyor.



Öğrencilerin yaptığı yorumlardan hangisi doğrudur?

- A) I. kaptaki suyun sıcaklığı daha düşüktür.
- B) II. kaptaki suyun sıcaklığı daha düşüktür.
- C) Kaplardaki maddeler aynı olduğundan sıcaklıkları eşittir.
- D) Kaplardaki maddelerin miktarları farklı olduğundan birşey söylenemez.

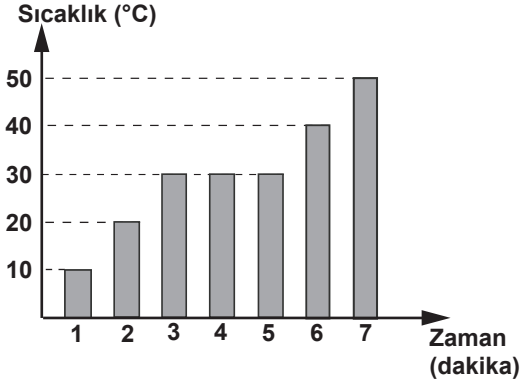
11.



Resme göre aşağıdakilerden hangisi doğrudur?

- A) Ali daha çok ısınır.
- B) Efe daha az ısınır.
- C) Efe daha çok ısınır.
- D) Her ikisi de eşit ısınır.

12. Katı bir maddenin ısıtılmasına ait sıcaklık - zaman grafiği şekilde verilmiştir.



Grafik aşağıdakilerden hangisi hakkında bilgi vermez?

- A) Eriyen maddenin miktarı
B) Erimeye başladığı zaman
C) Erime sıcaklığı
D) Erimenin bittiği zaman

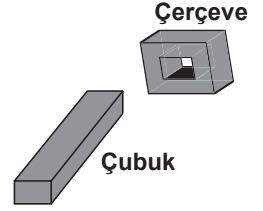
13.

1	2	3
Erime	Yoğuşma	Donma
4	5	6
Buharlaştırma	Kaynama	Isınma

Buhardan buza dönüşüm sırasında yukarıda verilen olaylardan hangileri sırasıyla gerçekleşir?

- A) 1 - 4 - 6
B) 2 - 3 - 5
C) 4 - 5
D) 2 - 3

14. Şekildeki çubuk ve çerçeve aynı metalden yapılmıştır. Aynı sıcaklıkta iken çubuk, çerçeveden geçmemektedir. Çubuğun çerçeveden geçebilmesi için aşağıdakilerden hangisi yapılmalıdır?



- A) Metal çerçeve ısıtılmalıdır.
B) Metal çubuk ısıtılmalıdır.
C) Her ikisi de soğutulmalıdır.
D) Metal çerçeve soğutulmalıdır.

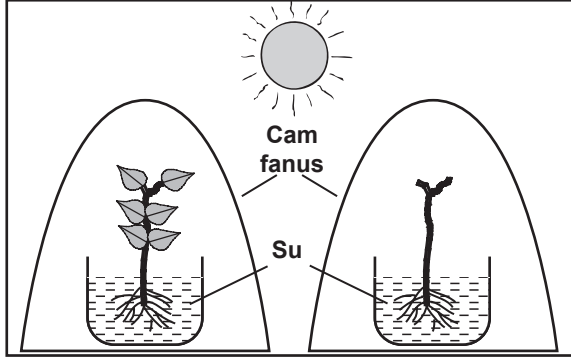
15. Sıcaklık ve hacimleri eşit X ve Y katılarının kütleleri birbirinden farklıdır. Buna göre aşağıdakilerden hangisi kesinlikle doğrudur?

- A) Suda yüzerler.
B) Yoğunlukları aynıdır.
C) X ve Y farklı maddelerdir.
D) Suda batarlar.

16. Bakkaldan aldığı sütün kutusu üzerinde "Pastörize edilmiştir." yazısını gören Serhat aşağıdakilerden hangisini düşünmüştür?

- A) Sütün yağının alındığını
B) Sütün içine vitamin ve mineral katıldığını
C) Sütün mikroplardan arıtıldığını
D) Sütün dondurulup tekrar sıvı hâle getirildiğini

17. Serpil, birbirinin aynı iki fasulye fidesinden birinin yapraklarını koparıp aşağıdaki düzeneği hazırlıyor.



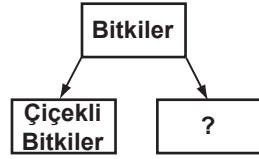
Serpil, aşağıdaki konulardan hangisiyle ilgili gözlem yapacaktır?

- A) Sıcaklığın bitki büyümesine etkisi
B) Yaprakların bitki terlemesine etkisi
C) Büyük yapraklı bitkilerin ne kadar fotosentez yaptığı
D) Kök ve gövdede besin depo edilmesi

18. Yanda bitkilerle ilgili sınıflandırma şeması verilmiştir.

Buna göre şemada “?” yerine yazılacak bitkiler aşağıdaki özelliklerden hangisine sahip olamaz?


- A) Fotosentez yapma
B) Solunum yapma
C) Tohumla üreme
D) Terleme yapma



19. ▲ canlısı, ● canlısı ile beslenir.
● canlısı, ■ canlısı ile beslenir.
■ canlısı, fotosentez yaparak besin üretir.
Yukarıdaki bilgilere göre bu canlıların oluşturduğu besin zinciri hangisidir?

- A) ▲ → ● → ■
B) ■ → ● → ▲
C) ● → ▲ → ■
D) ■ → ▲ → ●

20. Mehmet, bazı memeli hayvanları aşağıdaki gibi iki gruba ayırmıştır.



Memeli Hayvanlar

Mehmet, bu gruplamayı yaparken hayvanların hangi özelliklerine dikkat etmiştir?

- A) Beslenme şekillerine
B) Yavrularının bakımına
C) Çoğalma şekillerine
D) Yaşadıkları yere

21. Dişleri tam ve sağlıklı olan Selma, yıkanmış elmayı ısırıp iyice çiğnedi ve yuttu.

Bu işlemde aşağıdakilerden hangisi öncelikle görev almıştır?

- A) Kesici dişler
B) Büyük azı dişleri
C) Küçük azı dişleri
D) Yirmi yaş dişleri

1. 1 Kasım 1928'de yeni Türk alfabesi olarak Latin harflerinin kabul edilmesinde aşağıdakilerden hangisi etkili olmamıştır?

- A) Türk dilinin yapısına uygun olması
- B) Okuma ve yazmayı kolaylaştırması
- C) Okur yazar sayısını arttıracak olması
- D) Tarihimizden gelen millî bir alfabe olması

2. 1926 yılında kabul edilen Kabotaj Kanunu ile aşağıdakilerden hangisi sağlanmıştır?

- A) Aşar vergisinin kaldırılması
- B) Kadınlara belediye seçimlerine katılma hakkının tanınması
- C) Denizlerimizde gemi işletme hakkının Türk vatandaşlarına verilmesi
- D) Halkın devlet yönetiminde söz sahibi olması

3. I- Saltanatın kaldırılması
II- Soyadı Kanunu'nun kabul edilmesi
III- Çeşitli fabrikaların açılması
IV- Kanun önünde bütün vatandaşların eşit olması

Yukarıdakilerden hangisi Atatürk'ün "Cumhuriyetçilik" ilkesi ile ilişkilendirilebilir?

- A) I
- B) II
- C) III
- D) IV

4. Aşağıdakilerden hangisi Atatürkçü Düşünce Sistemi için söylenemez?

- A) Akla ve bilime dayanır.
- B) Bölgesel barışı yeterli görür.
- C) Vicdan ve düşünce hürriyetine saygılıdır.
- D) Millî birlik ve bütünlüğe önem verir.

5. Yanda resmi verilen Orhun Anıtları, günümüzde hangi ülkededir?

- A) İran
- B) Çin
- C) Türkmenistan
- D) Moğolistan



6. Aşağıda verilenlerin hangisinde neden-sonuç ilişkisi yoktur?

- A) Türk Medenî Kanunu kabul edildi. — Resmî nikâh zorunlu hâle geldi.
- B) Ağırılık ve uzunluk ölçülerinde değişiklik yapıldı. — Türkiye'nin ekonomik alandaki faaliyetleri kolaylaştı.
- C) Tevhid-i Tedrisat Kanunu kabul edildi. — Ankara başkent yapıldı.
- D) Cumhuriyet ilan edildi. — Yeni Türk devletinin yönetim şekli belirlendi.

7. Atatürk'ün ölümüyle ilgili aşağıda verilen bilgilerden hangisi doğrudur?

- A) 57 yaşında vefat etmiştir.
- B) İstanbul'dan alınan cenazesi Savarona yatı ile İzmit'e getirilmiştir.
- C) İzmit'e getirilen cenazesi daha sonra kara yolu ile Ankara'ya getirilmiştir.
- D) Çankaya Köşkü'nde geçici bir kabir yapılmıştır.

8.

Atatürkçülüğün Temel Esasları		Atatürk İlkeleri
I	Millî dil	Milliyetçilik
II	Akılcılık prensibi	Laiklik
III	Millî kültürün geliştirilmesi	İnkılapçılık
IV	Millî tarih bilinci	Cumhuriyetçilik

Yukarıdaki tabloda Atatürkçülüğün temel esasları ile ilişkili olduğu Atatürk ilkeleri eşleştirilmiştir.

Bu eşleştirmelerden hangisi ya da hangileri yanlıştır?

- A) Yalnız I
B) Yalnız IV
C) II - III
D) I - III

9.

- I- Vali
II- Başbakan
III- Muhtar
IV- Büyükşehir Belediye Başkanı

Verilenlerden hangisi ya da hangileri, halk tarafından seçilerek göreve gelen yöneticilerden değildir?

- A) Yalnız I
B) Yalnız IV
C) I - III
D) II - III - IV

10. Aşağıdaki tarım bitkilerinden hangisinin Türkiye ekonomisindeki payı daha azdır?

- A) Pamuk
B) Tütün
C) Buğday
D) Muz

11. 17 Ağustos 1999'da Marmara Bölgesi'nde meydana gelen, çok sayıda can ve mal kaybına neden olan doğal afet aşağıdakilerden hangisidir?

- A) Deprem
B) Heyelan
C) Çığ
D) Sel baskını

12.



Türkiye'de buğdayın hasat edilme zamanı (sıcaklığın azalmasına bağlı olarak) batıdan doğuya gidildikçe gecikir.

Buna göre haritadaki illerden hangisinde buğday daha önce hasat edilir?

- A) Manisa
B) Eskişehir
C) Sivas
D) Ağrı

13.

Köyümüzde şekerpancarı yetiştiriyor, elde ettiğimiz ürünleri en yakındaki Turhal Şeker Fabrikası'na satıyoruz. Fabrikada işlenen pancar, şeker hâline geldikten sonra satılmak üzere bakkal veya marketlere gönderiliyor.

Parçada hangi ekonomik faaliyetten söz edilmemiştir?

- A) Tarım
B) Turizm
C) Ticaret
D) Sanayi

14.

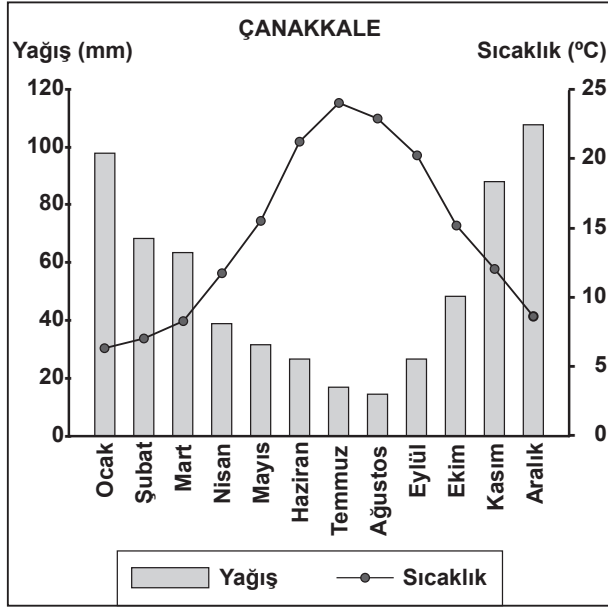
Fiziki haritalarda kullanılan mavi renk ve tonları aşağıdakilerden hangisini gösterir?

- A) Dağ ve tepeleri
B) Ova ve platoları
C) Deniz, göl ve akarsuları
D) Orman, çayır ve meraları

15. Yağışın yetersiz olduğu kurak bölgelerdeki kırsal alanlarda görülen toprak evler aşağıdaki bölgelerimizden hangisinde daha yaygındır?

- A) Ege Bölgesi
- B) Akdeniz Bölgesi
- C) Marmara Bölgesi
- D) Güneydoğu Anadolu Bölgesi

16.



Yukarıda Çanakkale'nin yağış ve sıcaklık grafiği verilmiştir. Buna göre en fazla yağış hangi mevsimde düşmektedir?

- A) Kış
- B) İlkbahar
- C) Sonbahar
- D) Yaz

17. İnsanların dinlenmek, eğlenmek ve gezme-görmek amacıyla bir yerden başka bir yere giderek yaptıkları ekonomik etkinliğe ne ad verilir?

- A) Ticaret
- B) Turizm
- C) Madencilik
- D) Ormancılık

18. Çok çeşitli iklim özelliklerine sahip bir ülke için aşağıdakilerden hangisi söylenebilir?

- A) Denize kıyısı olduğu
- B) Kuzey Yarım Küre'de yer aldığı
- C) Çok çeşitli bitki türüne sahip olduğu
- D) Hayvancılığın en önemli ekonomik faaliyet olduğu

19. Aşağıdakilerden hangisi Türkiye Cumhuriyeti Devleti'nin merkezî yönetim birimlerinden biri değildir?

- A) Cumhurbaşkanı
- B) Başbakan
- C) Bakanlar
- D) Vali

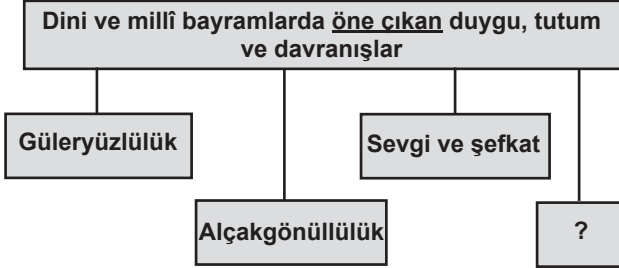
20. Herkes sağlıklı ve dengeli bir çevrede yaşama hakkına sahiptir.

Aşağıdakilerden hangisi bu hakkımızın bize yüklediği sorumluluklardan biridir?

- A) Kişisel eşyalarımızı korumak
- B) Tehlikelerden kaçınmak
- C) Doğal güzellikleri korumak
- D) Sosyal etkinliklerde bulunmak

DİN KÜLTÜRÜ VE AHLAK BİLGİSİ DERSİNİ OKUYANLAR AŞAĞIDAKİ SORULARA CEVAP VERECEKLER. OKUMAYANLAR BUNUN YERİNE, AYNI NUMARALI SOSYAL BİLGİLER SORULARINI CEVAPLAYACAKLAR.

21.



Soru işareti konulan yere aşağıdakilerden hangisi getirilmelidir?

- A) Çalışkanlık
B) Emin olmak
C) Paylaşmak
D) Adaletli olmak

22. • Namaz, insanı kötülüklerden uzaklaştırır.
• Oruç, sabretmeyi öğretir.
• Zekât, insana paylaşma, cömertlik ve yardımseverlik gibi davranışları kazandırır.
• Hac insanlara, birbirlerine eşit ve kardeşçe yaklaşmayı öğretir.

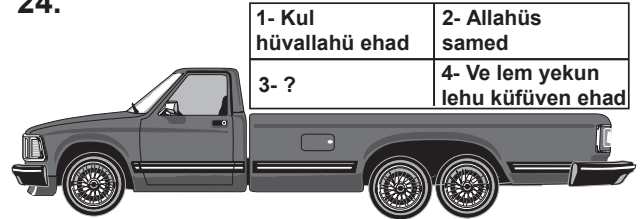
Bu bilgilerin tümünü aşağıdakilerden hangisine kanıt olarak gösterebiliriz?

- A) İbadetlerin davranışları güzelleştirdiğine
B) İbadetlerin insanın Allah ile iletişim kurma yolu olduğuna
C) Namaz, oruç, zekât ve hac dışında da ibadetler bulunduğu
D) İbadetlerin sahip olduğumuz nimetleri iyi kullanmayı öğrettiğine

23. Aşağıdakilerin hangisinde farz olan bir ibadetten söz edilmiştir?



24.



Yukarıdaki araç hareket için yükünün tamamlanmasını bekliyor. Size göre yükü tamamlamak için 3 numaralı kasaya aşağıdakilerden hangisi konulmalıdır?

- A) Fiddünyâ haseneten
B) Ve kınâ azâbennâr
C) Lem yelid ve lem yüled
D) Ve ersele aleyhim tayran ebâbîl

25. • Evrendeki düzen, hiçbir şeyin rastlantı sonucu ortaya çıkmadığını göstermektedir.
• Evrendeki varlıkların kendi kendilerini var etme güçleri yoktur.

Bu bilgilerin ikisini de iyi değerlendiren kimse, aşağıdakilerden hangisine ulaşır?

- A) Varlıklardaki düzen, onların kendi kendilerini var ettiklerini gösterir.
B) Evrenin varlığının bir başlangıcı yoktur.
C) Evrendeki yasalar rastlantı sonucu ortaya çıkmıştır.
D) Evren bir yaratıcı tarafından planlı biçimde var edilmiştir.

DİN KÜLTÜRÜ VE AHLAK BİLGİSİ DERSİNİ OKUMAYANLAR, AŞAĞIDAKİ SOSYAL BİLGİLER SORULARINA CEVAP VERECEKLER. OKUYANLAR CEVAP VERMEYECEK.

21. Serap, anne ve babasından izin alarak izci kamplarından birine katılıyor. Burada hem doğayı tanıyor hem de hoşça vakit geçiriyor.

Yukarıdaki açıklamada Serap'ın yerine getirdiği belirtilen roller hangisinde birlikte verilmiştir?

- A) Öğrenci - İzci
B) Abla - Çocuk
C) Çocuk - İzci
D) Öğrenci - Abla

22. Karadeniz Bölgesi'ne ait aşağıdaki özelliklerden hangisinin oluşumunda bölgede görülen iklimin etkisi yoktur?

- A) Taşkömürü yataklarının yer almasında
B) Çay üretilen tek bölge olmasında
C) Heyelan olaylarının sık yaşanmasında
D) Gür ve sık orman örtüsüne sahip olmasında

23. İnsanların doğada yaptıkları değişiklikler sonu beşeri unsurlar ortaya çıkar.

Buna göre aşağıdakilerden hangisi beşeri unsura örnek gösterilir?

- A) Çoruh Nehri
B) Atatürk Barajı
C) Van Gölü
D) Erciyes Dağı

24. Aşağıdakilerden hangisi buluş yapmak için çalışan bir bilim insanının sahip olması gereken özelliklerden değildir?

- A) Özgüven
B) Gözlemcilik
C) Karamsarlık
D) Araştırmacılık

25. I- Şapka giyilmesi hakkında kanunun kabul edilmesi

II- Maden Tetkik ve Arama Enstitüsünün (MTA) kurulması

III- Millet Mekteplerinin açılması

Yukarıda verilenlerin eğitim, toplumsal ve ekonomik alanlarla ilişkisi, aşağıdakilerin hangisinde doğru olarak sıralanmıştır?

	Eğitim	Toplumsal	Ekonomik
A)	II	I	III
B)	II	III	I
C)	I	III	II
D)	III	I	II

TEST BİTTİ.

CEVAPLARINIZI KONTROL EDİNİZ.

Soracağınız bir şey var mı? Varsa, şimdi sorunuz; sınav başladıktan sonra sorularınıza cevap verilmeyecektir. Hazır mısınız? Sınav, okulun bütün salonlarında aynı anda başlayacağı için başlama zili ni beraberce bekleyelim. Hepinize başarılar dileriz.

(Salon başkanı başlama ve bitiş saatini tahtaya yazacaktır.)

Bu kitapçığın her hakkı saklıdır. Hangi amaçla olursa olsun, kitapçığın tamamının veya bir kısmının Millî Eğitim Bakanlığı Eğitim Teknolojileri Genel Müdürlüğünün yazılı izni olmadan kopya edilmesi, fotoğraflarının çekilmesi, bilgisayar ortamına alınması, herhangi bir yolla çoğaltılması, yayımlanması veya başka bir amaçla kullanılması yasaktır. Bu yasağa uymayanlar, doğabilecek cezai sorumluluğu ve kitapçığın hazırlanmasındaki mali külfeti peşinen kabullenmiş sayılır.

TÜRKÇE	MATEMATİK	FEN ve TEKNOLOJİ	SOSYAL BİLGİLER
1. B	1. A	1. A	1. D
2. A	2. D	2. C	2. C
3. C	3. B	3. B	3. A
4. D	4. C	4. D	4. B
5. A	5. D	5. D	5. D
6. D	6. C	6. B	6. C
7. A	7. B	7. A	7. A
8. C	8. C	8. C	8. B
9. A	9. C	9. A	9. A
10. B	10. B	10. B	10. D
11. A	11. A	11. C	11. A
12. B	12. A	12. A	12. A
13. C	13. D	13. D	13. B
14. C	14. D	14. A	14. C
15. B	15. A	15. C	15. D
16. C	16. B	16. C	16. A
17. A	17. C	17. B	17. B
18. D	18. D	18. C	18. C
19. B	19. D	19. B	19. D
20. D	20. B	20. D	20. C
21. A	21. A	21. A	21. C
22. D	22. A	22. A	22. A
23. C	23. C	23. B	23. B
24. D	24. C	24. D	24. C
25. B	25. B	25. C	25. D