

8.
SINIF



T.C.
MİLLÎ EĞİTİM BAKANLIĞI

A
KİTAPÇIK TÜRÜ

SEVİYE BELİRLEME SINAVI (GÖRME ENGELLİLER)
9 HAZİRAN 2012 **Saat: 10.00**

Adı ve Soyadı:

DERS ADI	SORU SAYISI	TOPLAM SORU SAYISI	SINAV SÜRESİ (DAKİKA)
TÜRKÇE	23	100	120+30=150
MATEMATİK	20		
FEN ve TEKNOLOJİ	20		
SOSYAL BİLGİLER	20		
İNGİLİZCE	17		

SALON GÖREVLİLERİNİN DİKKATİNE!

1. Salon görevlisi olarak sınav başlamadan önce, özel eğitime ihtiyacı olan öğrenciler için hazırlanan uygulama kılavuzunu okuyarak, belirtilen açıklamalar doğrultusunda hareket ediniz.
2. Öğrenciyi, sınav başladıktan sonra ilk 30 dakika dolmadan dışarı çıkarmayınız.
3. Öğrencinin, sınav sırasında sözlük, hesap makinesi, saat fonksiyonu dışında özellikleri bulunan saat veya çağrı cihazı, cep telefonu, telsiz, radyo ve bilgisayar özelliği bulunan elektronik cihazları yanınızda bulundurmasına izin vermeyiniz. Bu araçları kullanması veya kopya çekmeye teşebbüs etmesi hâlinde sınavın geçersiz sayılacağını hatırlatınız.
4. Sınavla ilgili soruları ve sorulara verdiği cevapları not etmeyiniz, ettirmeyiniz.
5. Öğrenci, geçerli kimlik belgesini ibraz edemediği durumda sınava almayınız.

CEVAP KÂĞIDI VE SORU KİTAPÇIĞI İLE İLGİLİ AÇIKLAMALAR

1. Cevap kâğıdındaki bilgilerin doğruluğunu kontrol ediniz ve cevap kâğıdını öğrenciye imzalattırınız.
2. Cevap kâğıdındaki bilgiler öğrenciye ait değilse veya cevap kâğıdı kullanılmayacak durumdaysa Bina Sınav Komisyonundan temin edeceğiniz yedek cevap kâğıdına öğrencinin kimliğiyle ilgili bilgileri yazınız ve kodlayınız.
3. Cevap kâğıdı üzerindeki kodlamaları kurşun kalemle yapınız.
4. Öğrencinin değiştirmek istediği bir cevabı, yumuşak silgiyle cevap kâğıdını örselemeden temizce siliniz ve yeni cevabını kodlayınız.
5. Kitapçık türünü cevap kâğıdındaki ilgili alana kodlayınız. Bu kodlamayı yapmadığınız veya yanlış yaptığınız takdirde öğrencinin sınavının değerlendirilmesi doğru yapılamayacaktır.
6. Cevap kâğıdında **Türkçe, Matematik, Fen ve Teknoloji, Sosyal Bilgiler ve İngilizce** testleri için beş ayrı sütun bulunmaktadır. Öğrencinin doğru cevap olarak kabul ettiği seçeneği, cevap kâğıdının ilgili sütununa aynı soru numarasını dikkate alarak yuvarlağın dışına taşımadan kodlayınız.
7. **Soru kitapçığı üzerinde yapılan cevaplandırmalar dikkate alınmayacaktır.**
8. Soru kitapçığının sayfalarını kontrol ediniz, baskı hatası var ise değiştirilmesini sağlayınız.
9. Cevabını bilmediği sorular üzerinde fazla zaman kaybetmeden diğer sorulara geçmesi için öğrenciyi uyarınız. Zamanı kalırsa bu sorulara daha sonra dönebileceğini hatırlatınız.
10. Puanlama; her test için yanlış cevap sayısının **üçte biri, doğru cevap sayısından çıkarılarak** elde edilecek geçerli cevaplar üzerinden yapılacağı için öğrencinin cevap kâğıdı üzerinde rastgele cevaplama yapma isteğinde bulunması hâlinde kendisini uyarınız.
11. Öğrenciye, sınavın bitiminden bir saat sonra kitapçığını okul yetkililerinden alabileceğini hatırlatınız.

BAŞLAYINIZ DENİLMEYEN SORU KİTAPÇIĞINIZI AÇMAYINIZ.

1. Karagöz : Geçenlerde bir beslenme uzmanına gittim.
 Hacivat : Eee, ne dedi?
 Karagöz : Ekmeği kesmen lazım, dedi.
 Hacivat : Sen ne yaptın peki?
 Karagöz : Ekmeği keserek yemeye başladım tabii ki. Fakat tam üç ay oldu bir gram bile zayıflayamadım. Bir tuhafılık var ama, dur bakalım!
 Hacivat : İlahi Karagöz'üm, gel sana şuradan bir ekmeğe daha alalım!

Bu diyalogda “kesmek” sözcükleri hangi anlamlarda kullanılmıştır?

- A) Kararlaştırmak – Bölerek ayırmak
 B) Yoksun bırakmak – Parçalara ayırmak
 C) Geçiş önlmek – Makaslamak
 D) Son vermek – Dibinden ayırmak

2. “Biraz yün satmak istiyorum.” demişti çoban, tüccara. Tüccar, ikindiye kadar beklemesini söyledi. O da mağazanın önündeki kaldırıma oturup heybesinden bir kitap çıkardı.
 – Çobanlar kitap okumaz ki, dedi tüccar.
 – Kitaplar, koyunlardan daha öğreticidir, diye yanıtladı genç çoban.

Bu metindeki altı çizili cümlede, aşağıdaki anlam özelliklerinden hangisi vardır?

- A) Önsezi
 B) Öz eleştiri
 C) Ön yargı
 D) Öngörü

3. Evet, böyle çiniler çok güzeldir. (1)Bu narçiçeği kırmızıları, bu kar beyazları, bu çimen yeşilleri gerçekten bulunmaz şeylerdir. (2)Ne olurdu ayrı ayrı panolar hâlinde yapılmasalardı da bir duvar, bir tek desenin devamı olsaydı. (3)Çünkü bir panodan öbürüne geçerken bırakılan boşluklar gözünü yoruyor. (4)Sonra birinin kırdığı ritmi öbürü ele alamıyor, onun için başka başka kumaşlardan dikilmiş bir elbise izlenimi uyandırıyor.

Bu parçada yazarın çiniler hakkındaki düşüncesi, numaralandırılmış cümlelerin hangisinde değişmeye başlamıştır?

- A) 1 B) 2 C) 3 D) 4

4. İnsan tarafından fark edilmediği sürece, doğanın bütün unsurları anlamdan yoksundur. Gül, ancak bir bakış onu izleyerek içine çektiğinde gerçek bir gül olabilir. Akşam kızıllığı, ancak bir insan gözünün retinasında yansıdığı zaman harikadır.

Bu metnin ana düşüncesine en yakın dize-ler, aşağıdakilerden hangisidir?

- A) Güzelliğin on par'etmez (para etmez)
 Bu bendeki aşk olmasa.
 Âşık Veysel
 B) Yedi iklim dört köşeyi dolandım
 Meğer dünya her tarafta bir imiş.
 Dadaloğlu
 C) Taştın yine deli gönül
 Sular gibi çağlar mısın?
 Yunus Emre
 D) Sev seni seveni zay'etme (kaybetme) emek
 Sevenin sözünden geçici olma.
 Karacaoğlu

5. Şiir okuma, bir tür besteleme ve besteyi yorumlama işidir. Bir şarkı nasıl farklı tarz-
larda söylenebilirse şiirin seslendirilmesi
de yorumcudan yorumcuya değişir. Şiir
okumak, eğitime dayalı bir beceri işidir. Bu
yüzden her şair, şiiri güzel okuyamaz. Şiir
yorumcusu vurgu, telaffuz, duraklama gibi
ses eğitimi gerektiren temel bilgi ve beceri-
lere sahip olmalıdır.

Bu parçada aşağıdakilerin hangisine
değinilmemiştir?

- A) Şiir okumanın bir eğitim gerektirdiğine
B) Bir şiirin farklı şekillerde yorumlanabileceğine
C) Bazı şairlerin şiirleri kötü okuyabileceğine
D) Şiiri, başarılı bir şekilde yorumlayabilmek
için hissetmek gerektiğine

6. Kerime onu görünce çok mutlu oldu, iyi
arkadaş olacaklarını düşünerek elini uzun
uzun sıktı. Vildan bu el sıkışa karşılık
vermemekle birlikte elini de çekmedi. Evet,
eli bu sıkışa cevap vermemişti ama, biraz
mahzun olmakla beraber sessiz gülümse-
mesiyle de sevinçli görünmeye çalışmıştı.

Bu parçadaki olayla ilgili olarak aşağıdaki-
lerden hangisi söylenemez?

- A) Vildan, Kerime'yi kırmaktan kaçınmıştır.
B) Kerime, bu tanışmaya oldukça sevinmiştir.
C) Kerime'yle tanışmayı Vildan istemiştir.
D) İkisi de beden dilini kullanmıştır.

7. Ben bundan sonra yalnız müzikten bir şey-
ler ümit edebilirim. Hayatımı onun etrafında
oluşturmaktan başka hiçbir çarem yoktur.
Bunu on yıldır düşünüyorum. Gecikmesi
hiçbir şey ifade etmez. Ben ancak müzik ile
şiir dünyamı kurabilir, yani kendime bir iç
dünya hazırlayabilirim!

Bu paragrafa göre, yazarın altı çizili düşün-
ceye varmasının asıl sebebi aşağıdakiler-
den hangisidir?

- A) Müzik üzerine eğitim almış olması
B) Sanatın çeşitli dallarıyla ilgilenmesi
C) Artık zaman kaybetmekten kaçınması
D) Şiirini müzik aracılığıyla oluşturabileceğine
inanması

8. Orhan Veli'nin şiirleri, herkesin kullandığı
deyimlerin -o kapalı kutuların- içinden kim-
selerin ummadığı anlamlar çıkarma usta-
lığıdır. O, kuru söze öyle bir takla attırır ki,
dizelerinin içinden ılgıt ılgıt bahar rüzgârı
esiyor; deniz kokusu, martı sesleri geliyor
sanırsınız.

Bu parçadaki altı çizili sözle Orhan Veli şiirle-
rinin hangi özelliği daha çok vurgulanmıştır?

- A) Sadeliği
B) Tutarlılığı
C) Özgünlüğü
D) Akıcılığı

9. K: Aile hayatının bendeki en eski hatıralarından biri de gece okumalarıdır.

L: Sonra ablam, babamın işareti üzerine eline bir kitap alır, gaz lambasının yanına oturur, dün gece bıraktığı yerden okumaya başlardı.

M: Her akşam yemek bitince babam kahvesini içer, bizimle sohbet ederdi.

N: Geceleri aile arasında okunan romanlardan ve kahramanlık hikâyelerinden çok etkilendiğimi hatırlıyorum.

“K, L, M, N” harfleriyle gösterilen cümleler, olayların oluş sırasına göre nasıl sıralanmalıdır?

- A) N, L, M, K
B) K, N, M, L
C) K, L, N, M
D) N, K, L, M

10. Orası öyle, ama anılarım kâğıt üzerinde daha bir görkemli duruyor. Böylece etkisi daha da artacak, kişiliğim hakkında daha doğru bir yargıya varabileceğim; buna bir de üslup güzelliği eklenecek. Ayrıca, içimi dökmekle belki rahatlayacağım. Akıldan çıkmayan anılardan, yazmakla kurtulacağım.

Yazar, bu metinle aşağıdaki soruların hangisine cevap vermiştir?

- A) Neden anılarınızı ille de yazmak istiyorsunuz; anılarınızı kâğıda dökmeden, zihninizden geçirmekle yetinemez miydiniz?
B) Peki ama bütün bunları yazarak büyük bir okuyucu kitlesine hitap edebilecek kadar iddialı mısınız?
C) Okurlarınızın olmayacağını öngördüğünüze göre niçin yazıyorsunuz?
D) İnsan hiç değilse kendisiyle içli dışlı olabilir mi, gerçekleri kendisiyle çelişmeden yazabilir mi?

11. İskandinavya'ya geçmek üzere yine o temiz trenlerle Abo Limanı'na gittik. Kıyıda küçük bir vapur bizi bekliyordu, bindik; bütün yolcular da bindi. Küpeşteye dayanarak, ayrıldığımız toprağın acısıyla, etrafımızı seyredip duruyoruz. Vapur kalkacak, halat çekilecek. Üstü başı düzgün, temiz bir genç, cebinden bir çift eldiven çıkardı. Çabucak ellerine geçirdi, eğildi, vapurun halatını çözdü.

Bu metnin dil ve anlatımıyla ilgili olarak aşağıdakilerden hangisi söylenebilir?

- A) Ana fikir “tanık gösterme”yle desteklenmiştir.
B) Devrik cümlelerden yararlanılmıştır.
C) Deyimlerle zenginleştirilmiştir.
D) Olmuş veya olabilecek olaylar anlatılmıştır.

12. İnsanın kendisini dünyanın henüz ilk gününde hissetmesine neden olabilecek ürpertici bir sessizlik vardı ve kar bir ağacın yarı aydınlık gölgesinde ince ince yağlıyordu.

Bu parçada bir söz sanatı kullanılmıştır. Bu sanatın göstergesi aşağıdakilerden hangisidir?

- A) “Kar”a insan özellikleri yüklenmesi
B) “Sessizlik”in anlatımında aşırıılığa gidilmesi
C) “Ağacın gölgesi”nin “kar”a benzetilmesi
D) Yazarın “sessizlik” ve “kar” üzerine konuşması

13. Farklı yazarlara ait olan A ve B metinleri, İstanbul'un fethedilmesini anlatmaktadır:

A { Büyük toplar hazır olunca Sultan Mehmet o topları çektirerek İstanbul'a getirtti. Kurulan toplar her bir taraftan Hisar'ın burçlarını, bedenlerini dövmeye başladı.

B { O yılan vücutlu, ejder ağızlı toplar ki, her biri kaleleri yıkan, burçları deviren dev gibi toplarmış... Zaferleri elinde tutan askerler, kabarmış uçsuz bucaksız bir deniz gibi kalenin kara yönünü çevirmiş. Bu ejder başlı toplar, İstanbul'un duvar ve kapılarını, âşıkların inleyen gönülleri gibi parça parça etmiş.

Bu iki metne göre aşağıdaki sorulardan hangisi cevaplanabilir?

- A) Aynı olay değişik şekillerde anlatılabilir mi?
B) İnsanlar yaşadıkları olaylardan niçin etkilenir?
C) Tarihî olayları anlatmanın zorlukları nelerdir?
D) Güncel ile geçmiş olaylar arasında ilişki kurulabilir mi?

14. Bir araştırmaya göre 7-18 yaş arasındaki her 30 çocuktan sadece biri sol beynini yeterince kullanabiliyor. Diğer çocuklarsa sol beyinleri yeterince gelişmediği için derslerinde başarısızlık, dikkat eksikliği, kendini ifade edememe gibi olumsuzluklarla karşılaşabiliyor. Bunun başlıca nedeni genetik faktörün dışında sağlıksız beslenme. Fakat dikkat edilmesi gereken başka noktalar da var: çocukların kendilerini ifade etmelerine izin vermek, söz dağarcıklarını zenginleştirmek; onları gazete okumaya ve belgesel izlemeye özendirmek.

Bu metinde belirtilen "sorun"un en etkili çözümü aşağıdakilerden hangisidir?

- A) Çocukları, belgeseller gibi bilgilendirici programları izlemeye özendirmek
B) Çocukların günün belirli saatlerinde beslenmelerini sağlamak
C) Sağlıklı beslenmenin yanında çocukların çeşitli etkinlikler yapmalarını sağlamak
D) Söz dağarcıklarını zenginleştirmek amacıyla çocuklar için okuma saatleri düzenlemek

15. Bir gün anlaşılır şiir;
Çoğu gitti, azı kaldı.
Ekmek gibi azizleşir;
Çoğu gitti, azı kaldı.

Necip Fazıl Kısakürek, bu dizelerinde "şiir"le ilgili olarak aşağıdakilerden hangisini vurgulamıştır?

- A) Çoğu insan tarafından önemli görüldüğünü
B) İleride, gerçek değerini kazanacağını
C) Kişiyi yüce duygulara ulaştırdığını
D) Büyük bir çabayla yazıldığını

16. Nicedir bulutlar bu şehre uğramıyordu. Oysa işte, deniz önce açıklardan itibaren kabarıyor. Rüzgâr geliyor sonra. Fırtına çok geçmeden patlayacak. Bulutlar ufka yaklaşıyor. Ufuk görünmez oluyor. Muazzam bir sis kütlesi, denizin üstünden gelmeye başlıyor, göz göre göre...

Bu paragraf, konusu dikkate alındığında aşağıdakilerin hangisiyle tamamlanmalıdır?

- A) Güneş batmak için dağların arkasına koşuyor; kırmızısı, ufukları "gül"e boyuyor.
B) Dalgalar yorgunluktan artık kumsala gidip gelmiyor, denizi sütlüman bir hava bürüyor.
C) Şehrin yaşlıları havayı koklayarak "Nihayet geliyor." diyor. Hatta en tecrübesizler bile bunu anlıyor. Yağmur başlıyor.
D) Gemiler yalpalasalar da yolcu taşımaya devam ediyorlar. Fakat ne demiş yazar: "Hiçbir gemi, bizi bir kitap kadar uzaklara götürmez."

Aşağıda bir metnin giriş, gelişme ve sonuç bölümleri A, B ve C harfleriyle belirtilerek karışık olarak verilmiştir. 17, 18 ve 19. soruları bu paragraflara göre yanıtlayınız.

A Okayev'in filmlerinden sadece birini, "Kar Leoparının Soyu"nu seyrededim. Sinema Televizyon Merkezi'nin o güzel salonunda, bir avuç sinema meraklısıyla birlikte yaşadığımız o görsel şöleni keşke anlatabilsem. Okayev, büyüklüğünü filmin her karesinde hissettiriyordu.

B Filmin etkisinden biraz olsun sıyrılmaya başladığımda Okayev'in "Cemile"nin yazarı Cengiz Aytmatov kadar neden bilinmediğini düşündüm. Ünlü bir edebiyatçı, "Cemile" için "Dünyanın en güzel aşk hikâyesi." demeseydi yine de tanır mıydık Aytmatov'u? O zaman Okayev'den ve onun "Kar Leoparının Soyu" filminden neden hâlâ habersiziz?

C Halit Refiğ Bey, beni bir film gösterimine davet ediyordu. Heyecanlıydı. Adı pek duyulmamış olsa da bence, rahatlıkla Tarkovsky ve Akira Kurosawa gibi yönetmenlerle kıyaslanabilecek bir seviye gösteren Kırgız yönetmen Tölömüş Okayev'i, bütün dostlarına tanıtmak niyetindeydi.

17. Metnin "giriş, gelişme ve sonuç" sırası aşağıdakilerin hangisinde verilmiştir?

- A) B, C, A B) B, A, C
C) C, A, B D) C, B, A

18. Yazara göre, Kırgız yönetmen Tölömüş Okayev'den çoğu insanın habersiz olmasının nedeni aşağıdakilerden hangisidir?

- A) Ünlü bir edebiyatçı tarafından dikkat çekilmemiş olması
B) Filmlerinde, kendi kültürel değerlerini işlemekle yetinmesi
C) Cengiz Aytmatov'dan sonra sanata başlaması
D) Birçok ülkede filmlerinin gösterilmiyor olması

19. Bu metinde yazarın, Okayev hakkındaki görüşü aşağıdakilerden hangisidir?

- A) Çağın sorunlarına filmleriyle çözüm getirdiği
B) Film yaparken eleştirilerden yararlandığı
C) Filmlerinde insan ilişkilerini öne çıkardığı
D) Başarılı bir sinema yönetmeni olduğu

20. Oyun ve oyuncaklarla başım o kadar hoş değildi. Oynamam için babamın beni zorladığını hâlâ hatırlarım. Fakat kitaplarla vakit geçirmek için teşvik edilmeye ihtiyacım yoktu. Babam da kitaplarına zarar vermediğimi anlayınca onları bana emanet edebilmişti.

Bu parçanın türü aşağıdakilerden hangisidir?

- A) Makale B) Tiyatro
C) Biyografi D) Anı

21. Van Gogh'un, ünlü tablolarından biri olan "Moonrise"ı tam olarak ne zaman yaptığı
- 1
- bilinmiyordu. Bunu çözmek için iki gök bilimci, sanatçının resmi yaparken durduğu yeri saptayıp ayın konumuna dikkat ettiler.
- 2
- 1889 yılında hangi günlerde o noktada
- 3
- görölmüş olduğunu hesapladılar. Bunun sonucunda tablonun 13 Temmuz 1889'da
- 4
- saat 21.08'de yapılmış olduğunu belirlediler.
- Bu metindeki numaralandırılmış sözcüklerin hangisinde, büyük harflerin yazımıyla ilgili bir yanlışlık yapılmıştır?
- A) 1 B) 2 C) 3 D) 4

22. Eserini tamamlamak için ne kadar çabaladığını şimdi herkes biliyordu.
- Bu cümlede aşağıdaki öğelerden hangisi yoktur?
- A) Özne B) Zarf tamlayıcısı
C) Belirtili nesne D) Yer tamlayıcısı

23. Aşağıdaki cümlelerin hangisinde, yüklem eksikliğinden kaynaklanan bir anlatım bozukluğu vardır?
- A) Elmanın yarısını ben, yarısını da Çiğdem yedi.
B) Mobilyalarınız, ücretsiz evinize teslim edilir.
C) Önümde oturan çocuk, annesine sessizce fısıldıyordu.
D) Yiyemediği yemekler güç kaybetmesini sağladı.

**TÜRKÇE TESTİ BİTTİ.
MATEMATİK TESTİNE GEÇİNİZ.**

1. 1 ton kullanılmış kâğıt ile 18 çam ağacı kurtarılabilmektedir. Türkiye genelinde bir yılda 8 tam onda bir çarpı, 10 üssü 5 adet çam ağacının kurtarılması hedeflenmektedir. Buna göre, hedefe ulaşmak için bir yılda kaç ton kullanılmış kâğıt geri dönüşüme kazandırılmalıdır?

- A) 4 tam onda 5 çarpı 10
 B) 4 tam onda 5 çarpı 10 üssü 2
 C) 4 tam onda 5 çarpı 10 üssü 3
 D) 4 tam onda 5 çarpı 10 üssü 4

2. Aşağıdaki sayıların en büyüğü hangisidir?

- A) 4 karekök 5 B) karekök 72
 C) 3 karekök 6 D) 2 karekök 17

3. Beş katlı dairesel düğün pastasında her kattaki pastanın yarıçap uzunluğu, bir üstündekinin yarıçap uzunluğunun 2 katıdır. En üstteki pastanın yarıçap uzunluğu 2 üssü 3 santimetre olduğuna göre, en alttaki pastanın yarıçap uzunluğu kaç santimetredir?

- A) 2 üssü 10 B) 2 üssü 8
 C) 2 üssü 7 D) 2 üssü 5

4. Bir kare piramidin açınımında oluşan çokgensel bölgeler, aşağıdakilerin hangisinde verilmiştir?

- A) 1 dikdörtgensel bölge, 2 üçgensel bölge
 B) 1 karesel bölge, 3 üçgensel bölge
 C) 1 üçgensel bölge, 4 karesel bölge
 D) 1 karesel bölge, 4 üçgensel bölge

5. Bir mimar bir kenarı 3a metre olan kare şeklindeki arsada, her birinin kenar uzunluğu 2b metre olan belli sayıda karesel bölge belirlemiştir. Arsada geri kalan bölgenin alanı, parantez içinde 3a eksi 4b çarpı, parantez içinde 3a artı 4b metrekare olduğuna göre, belirlenen karesel bölgelerin sayısı kaçtır?

- A) 8 B) 4 C) 3 D) 2

6. Ahmet, kenarlarından ikisinin uzunluğu 17 metre ve 10 metre olan üçgen biçimindeki bahçesinin çevresini çit ile çevirmiştir.

Ahmet'in kullandığı çitin uzunluğu, metre olarak aşağıdakilerden hangisi olabilir?

- A) 30 B) 34 C) 40 D) 54

7. Bir ABC üçgeninin kenar uzunlukları 6 santimetre, 8 santimetre ve 10 santimetredir. Bu üçgene benzer olan KLM üçgeninin en kısa kenarının uzunluğu 30 santimetre olduğuna göre, en uzun kenarının uzunluğu kaç santimetredir?

- A) 36 B) 40 C) 46 D) 50

8. Seda'nın matematik dersi dönem sonu puanı, ilk sınavda aldığı puanın iki katından 4 eksiktir. Dönem sonu puanı 50 ve üzeri olan öğrenci, o dersten başarılı olmaktadır.

Matematikten dönem sonunda başarılı olan Seda'nın ilk sınavdaki puanı en az kaçtır?

- A) 28 B) 27 C) 26 D) 25

9. Apsisi eksi 2, ordinatı 3 olan noktanın orijin etrafında saat yönünde 90 derece dönme altındaki görüntüsünün koordinatları aşağıdakilerden hangisidir?

- A) apsisi 3, ordinatı 2
B) apsisi 3, ordinatı eksi 2
C) apsisi eksi 2, ordinatı 3
D) apsisi 2, ordinatı eksi 3

10. Aşağıdakilerden hangisi, sıfır tam yüzde kırk beş (45 devrediyor) ile sıfır tam binde dörtyüz elli iki (452 devrediyor) devirli ondalık kesirleri arasında yer alır?

- A) sıfır tam binde 451
B) sıfır tam binde 453
C) sıfır tam binde 455
D) sıfır tam binde 457

11. A dar açısının ölçüsü x derece olan bir dik üçgenin hipotenüs uzunluğu 10 santimetredir. $\sin x$ eşittir $\frac{3}{5}$ olduğuna göre, A açısının karşısındaki kenarın uzunluğu kaç santimetredir?

- A) 8 B) 6 C) 5 D) 4

12. Aşağıdakilerden hangisi yapıldığında, taban ayrıntının uzunluğu 8 santimetre, yüksekliği 12 santimetre olan kare dik prizma şeklindeki kutunun hacmi yarıya iner?

- A) Bütün ayrıntı uzunlukları ikişer santimetre azaltıldığında
B) Taban ayrıntı uzunlukları dörder santimetre azaltıldığında
C) Bütün ayrıntı uzunlukları yarıya indirildiğinde
D) Yüksekliği 6 santimetre azaltıldığında

13. Eser, kare dik prizma biçiminde ve ayrıtlarından birinin uzunluğu 30 santimetre olan bir teneke kutunun yan yüzlerini boyuyor. Boyanan yüzeyin alanı 1680 santimetrekare olduğuna göre, bu kutunun diğer farklı ayrıtının uzunluğu kaç santimetredir?

- A) 14 B) 21 C) 25 D) 28

14. Biri silindir, diğeri küp şeklinde olan iki kap, tamamen su ile doludur. Silindir şeklindeki kabın taban çapının ve yüksekliğinin uzunlukları, küpün bir ayrıt uzunluğuna eşittir.

Buna göre, silindir şeklindeki kapta, küpte bulunan suyun kaçta kaç kadar su bulunmaktadır? (pi yerine 3 alınız.)

- A) Dörtte üçü B) Üçte ikisi
C) İki bir D) Altıda biri

15. Bir kavanozda bulunan özdeş şekerlerden 11'i limonlu, 8'i elmalı, 9'u çilekli ve 12'si muzludur.

En az kaç şeker çıkarılırsa, kavanozda kalan şekerlerin çeşitlerine göre çekilme olasılıkları eşit olur?

- A) 7 B) 8 C) 9 D) 10

16. Bir öğrenci bir haftalık sürede 2 gün seçerek radyo tiyatrosu dinleyecektir.

Bu seçimi kaç farklı şekilde yapabilir?

- A) 50 B) 42 C) 21 D) 14

17. Üç yol ağzında bulunan bir tavşan, bu yollardan rastgele birine yöneliyor. Bu üç yolun her biri, devamında iki dar yola ayrılıyor. Tavşan yol ayrımına geldiğinde iki dar yoldan birini rastgele seçerek yoluna devam ediyor.

Tavşanın, dar yollardan birinde bekleyen kaplumbağa ile karşılaşma olasılığı nedir?

- A) 1 bölü 2 B) 1 bölü 3
C) 1 bölü 6 D) 1 bölü 9

18. Alanı 36 metrekare olan kare şeklindeki bir oyun bahçesi, ihtiyaç üzerine büyütülerek alanı 100 metrekare olan kare şeklindeki bahçeye dönüştürülüyor.

Yeni oluşturulan bahçenin bir kenarı, öncekinden kaç metre daha uzundur?

- A) 16 B) 12 C) 8 D) 4

19. Bir yarışma programında, verilen her doğru cevaba artı 3 puan, her yanlış cevaba eksi 2 puan verilmektedir.

Bu yarışmaya katılan Aysun, sorulan 5 sorunun tümünü cevaplamıştır. Yarışma sonunda 10 puan aldığına göre, Aysun kaç soruyu doğru cevaplamıştır?

- A) 2 B) 3 C) 4 D) 5

20. Aşağıda denklemleri verilen doğrulardan hangisinin eğimi 1 bölü 2'dir?

- A) x eksi $2y$ eşittir eksi 4
B) $4x$ eksi $2y$ eşittir 7
C) $3x$ artı $6y$ eşittir 5
D) eksi $2x$ eksi y eşittir 6

**MATEMATİK TESTİ BİTTİ.
FEN VE TEKNOLOJİ TESTİNE GEÇİNİZ.**

1. Aşağıda basınç ile ilgili bazı örnekler verilmiştir:

I- Çivinin tahtaya daha kolay girmesi için ucunun sivri yapılması

II- Elimize batmaması için raptiyenin baş kısmının geniş yapılması

III- Dağ bisikletinin toprağa saplanmaması için geniş tekerlekli yapılması

Bu örneklerden hangileri basıncı azaltmak için yapılmıştır?

A) Yalnız I
C) I ve III

B) Yalnız II
D) II ve III

2. Selin, ipe dinamometreye bağladığı K cisminin tamamını ağızına kadar su dolu bir kaba batırduğunda dinamometrenin gösterdiği değer havadakine göre 10 Newton (Nivton) azaldığını fark etti. Daha sonra K'nin taşıdığı suyun tamamını tarttığında suyun ağırlığının da 10 Newton (Nivton) olduğunu fark etti.

Buna göre Selin, kaldırma kuvveti ile ilgili;

I- Cisimlerin daldırıldığı sıvının yoğunluğuna göre değişir.

II- Yönü yukarı doğrudur.

III- Cismin yer değiştirdiği sıvının ağırlığına eşittir.

Çıkarımlarından hangilerine yalnızca yukarıda yaptığı deneyden yola çıkarak ulaşabilir?

A) Yalnız I'e
C) II ve III'e

B) I ve II'ye
D) I, II ve III'e

3. Bir grup öğrenci performans görevleri için aşağıda tarif edilen düzenekleri kurup çalıştırıyorlar:

I. grup, rüzgâr gülüne bir elektrik sobası bağlıyor ve rüzgârın etkisiyle sobanın çalışmasını sağlıyor.

II. grup, elektrik motoruna bir pervane bağlıyor ve motorun üzerinden akım geçmesi ile pervanenin dönmelerini sağlıyor.

III. grup, dinamoyu bisiklet tekerine bağlıyor ve dinamoya bağlı ampulün, tekerin hareketi ile ışık vermesini sağlıyor.

Buna göre, hangi grupların kurduğu düzeneklerde elektrik enerjisi hareket enerjisine dönüşmüştür?

A) Yalnız birinci grubun
B) Yalnız ikinci grubun
C) Birinci ve üçüncü grubun
D) İkinci ve üçüncü grubun

4. Ayşe, elektrik akımı oluşturmak için iletken bir çember ve mıknatıs kullanarak aşağıdaki üç durumu uyguluyor:

I. durum : Mıknatıs, halka içinde sabit tutuluyor.

II. durum : Mıknatıs, halka içinde ileri geri hareket ettiriliyor.

III. durum : Mıknatıs, halka içinde dururken, halka N ve S kutupları arasında ileri geri hareket ettiriliyor.

Buna göre, yukarıdaki durumların hangisinde devreden akım geçer?

A) Yalnız I'de
C) II ve III'te

B) I ve II'de
D) I, II ve III'te

5. Üzerinde 256 Hertz yazan K diyapazonuna hafifçe, 512 Hertz yazan L diyapazonuna ise şiddetli bir şekilde tokmakla vuruluyor.

Buna göre, K ve L diyapazonlarından çıkan seslerin ince-kalın ve şiddetli-zayıf olarak sınıflandırılması aşağıdakilerin hangisinde doğru olarak verilmiştir?

- A) K ince ve şiddetli, L ise kalın ve zayıf bir ses çıkarır.
 B) L ince ve şiddetli, K ise kalın ve zayıf bir ses çıkarır.
 C) L ince ve zayıf, K ise kalın ve şiddetli bir ses çıkarır.
 D) K ince ve zayıf, L ise kalın ve şiddetli bir ses çıkarır.

6. Seda'nın sorduğu bir soru üzerine öğretmeni, "Örneğin aynı anda meydana gelmelerine rağmen gök gürültüsü, şimşegin görülmesinden belli bir süre sonra duyulur." cevabını vermiştir.

Buna göre, Seda'nın öğretmenine sorduğu soru aşağıdakilerden hangisidir?

- A) Işığın ve sesin havadaki yayılma hızlarını karşılaştırabileceğimiz bir örnek verir misiniz?
 B) Sesin veya ışığın farklı ortamlardaki hızlarını karşılaştırabileceğimiz bir örnek verir misiniz?
 C) Sesin ve ışığın yayıldığı ortamın yoğunluğuna bağlı olarak hızlarının değiştiğini gösteren bir örnek verir misiniz?
 D) Işığın ve sesin yansıması ile ilgili bir örnek verir misiniz?

7. Doğal süreçlere ait bazı kavramlar ve bu kavramların tanımları aşağıdaki gibidir:

KAVRAMLAR

- Artçı deprem
- Öncü deprem
- Şiddet
- Büyüklük

TANIMLAR

- Depremin binalar ve insanlar üzerinde meydana getirdiği hasarın derecesidir.
- Ana depremden önce meydana gelen ufak sarsıntılardır.
- Yer sarsıntısının sismograf adı verilen aletlerle ölçülmesiyle belirlenen değerdir.

Her bir kavram kendi tanımı ile eşleştirildiğinde hangi kavram dışarıda kalır?

- A) Artçı deprem B) Öncü deprem
 C) Şiddet D) Büyüklük

8. Hava olayları ile ilgili hipotezini test etmek isteyen Ali, bir masa lambasını zemine yerleştirdi. Daha sonra ince bir kâğıt şeridi, ışık veren lambanın tam üzerine getirip sabit olarak tuttu. Bu durumda şeridin hareket ederek dalgalandığını tespit etti.

Ali'nin yaptığı bu etkinlik ile doğruluğunu test ettiği hipotez, aşağıdakilerden hangisidir?

- A) Havanın sıcaklığı arttıkça daha fazla nem kaldırır.
 B) Hava olayları yeryüzü şekillerinin değişimine sebep olur.
 C) Hava, dört temel bileşeni yanında su buharı da içerir.
 D) Havadaki sıcaklık değişimi rüzgâr oluşumuna sebep olur.

9. Bir elemente ait özellikler şunlardır:

- Kırılgandır.
- Yüzeyi mattır.
- Elektriği iletmez.
- Elektron almaya yatkındır.

Buna göre, elementle ilgili aşağıdakilerden hangisi söylenebilir?

- A) Metaldir. B) Ametaldir.
C) Yarı metaldir. D) Asal gazdır.

10. Potasyum, kalsiyum ve magnezyum elementleri metal; hidrojen ve klor elementleri ise ametaldir.

Bu elementlerin atomları arasında oluşan, aşağıdaki bileşiklerden hangisindeki bağ türü kovalenttir?

- A) Hidrojen klorür B) Kalsiyum klorür
C) Potasyum klorür D) Magnezyum klorür

11. Kimyasal tepkimelerle ilgili olarak aşağıdakilerden hangisi yanlıştır?

- A) Kütle korunur.
B) Atom sayısı korunur.
C) Yeni atomlar oluşur.
D) Yeni madde oluşur.

12. İki çözelti birbiriyle karıştırıldığında kimyasal tepkime gerçekleşiyor ve yeni çözelti oluşuyor. Yeni çözelti ısıtılarak buharlaştırıldığında kalan katı madde yemek tuzu, buharlaşan madde ise sudur.

Buna göre, aşağıdakilerden hangisi söylenemez?

- A) Karıştırılan iki çözüldüden biri asit, diğeri bazdır.
B) Tepkimede oluşan maddelerden biri sudur.
C) Nötralleşme tepkimesi gerçekleşmiştir.
D) Karıştırılan iki çözelti de bazik özelliktedir.

13. Sıvı hâldeki saf bir maddeye yapılan işlem sonunda,

- Taneciklerinin kinetik enerjisinin azaldığı,
- Tanecikler arasındaki çekim kuvvetinin arttığı biliniyor.

Buna göre, maddeye yapılan işlem ve bu işlem sonunda maddenin fiziksel hâli için aşağıdakilerden hangisi söylenebilir?

<u>İşlem</u>	<u>Fiziksel hâli</u>
A) Isıtma	Gaz
B) Isıtma	Sıvı
C) Soğutma	Katı
D) Soğutma	Gaz

14. Üç özdeş kaptan birincisinde 75, ikincisinde 100, üçüncüsünde 150 mililitre aynı saf sıvı bulunmaktadır. Aynı ortamda, kaplardaki sıvılar özdeş ısıtıcılarla ısıtılıyor. Isıtma işlemi devam ederken bu sıvılarda, sıcaklığın bir süre sabit kaldığı belirleniyor ve bu sıcaklık değerleri kaydediliyor.

Buna göre, kaydedilen sıcaklık değerleriyle ilgili aşağıdakilerden hangisi doğrudur?

- A) Üç sıvınının de farklıdır.
- B) Üç sıvınının de aynıdır.
- C) Üçüncü kapta bulunan sıvınının en büyüktür.
- D) Birinci kapta bulunan sıvınının en küçüktür.

15. Mitoz bölünme, canlılarda büyüme ve onarımı sağlar.

Buna göre, aşağıdakilerden hangisi mitoz bölünme sonucu gerçekleşen bir olay değildir?

- A) Bitki yapraklarının oluşup büyümesi
- B) Dölleniş yumurtadan embriyonun oluşması
- C) Kertenkelenin kopan kuyruğunun yenilenmesi
- D) İnsanda n kromozumlu yumurta hücresinin oluşması

16. Bir bitkiden (ana bitki) alınan dallar, I. uygulamada toprağa dikilerek; tohumları ise II. uygulamada toprağa ekilerek yeni bitkiler elde ediliyor.

Elde edilen bu bitkilerin genetik yapısı ile ilgili olarak aşağıdakilerden hangisi söylenebilir?

- A) Her iki uygulamadan elde edilen yeni bitkilerin hepsinin genetik yapısı aynıdır.
- B) Her iki uygulamadan elde edilen yeni bitkilerin ve ana bitkinin genetik yapısı birbirinden farklıdır.
- C) I. uygulamadan elde edilen bitkilerin genetik yapısı ana bitkininkiyle aynıdır.
- D) II. uygulamadan elde edilen bitkilerin genetik yapısı ana bitkininkiyle aynıdır.

17. İnsanlarda kıvrıkcık saçlılık baskın, düz saçlılık çekinik özelliklerdir. Bir ailede kıvrıkcık saçlı anne ile kıvrıkcık saçlı babanın çocuklarından biri düz saçlı, diğeri ise kıvrıkcık saçlıdır. Bu durumu aşağıdaki ifadelerden hangisi açıklar?

- A) Anne ve baba, saç şekli bakımından saf döldür (homozigot).
- B) Anne ve baba, saç şekli bakımından melez döldür (heterozigot).
- C) Sadece anne, saç şekli bakımından melez döldür (heterozigot).
- D) Sadece baba, saç şekli bakımından saf döldür (homozigot).

18. Mehmet, araştırdığı konuyla ilgili olarak kurak ortamda yaşayan iki farklı bitki türünü örnek vermiştir. Bu bitkilerin diken şeklinde yapıları vardır ve gövdelerinde su depolamaktadırlar.

Mehmet'in araştırma konusu aşağıdakilerden hangisi olabilir?

- A) Benzer ortamlarda yaşayan farklı bitki türlerindeki benzer adaptasyonlar
- B) Benzer ortamlarda yaşayan aynı bitki türlerindeki benzer adaptasyonlar
- C) Farklı bitki türlerinin çaprazlama sonucu birbirine aktarılan genotip özellikleri
- D) Farklı ortamlarda yaşayan aynı bitki türlerinde birbirinin aynı olan genotip özellikler

19. Bir öğrenci birbirinin aynı, özdeş toprak ve saksılarda bulunan iki bitkiye, düzenli ve eşit miktarda su veriyor. Bitkilerden birini aydınlık bir odaya, diğerini ise aynı sıcaklıktaki karanlık odaya bırakıyor.

Bu öğrenci, aşağıdaki faktörlerden hangisinin fotosenteze etkisini araştırmaktadır?

- A) Terlemenin
- B) Sıcaklığın
- C) Suyun
- D) Işığın

20. Bir araştırmacı grubu, dünyadaki bir sorunla ilgili olarak;

- Geniş alanların hızlı gelişen ağaç türleri ile ağaçlandırılmasını,
- Yenilenebilir enerji kaynakları kullanımının yaygınlaşmasını

öneriyorlar.

Buna göre bu sorun, aşağıdakilerden hangisi olabilir?

- A) Dünyada su döngüsüne katılan su miktarının artışı
- B) Atmosferdeki karbondioksit yoğunluğunun artışı
- C) Güneş enerjisi kullanımının artışı
- D) Bazı hayvan türlerinin sayısının artışı

FEN VE TEKNOLOJİ TESTİ BİTTİ.
SOSYAL BİLGİLER TESTİNE GEÇİNİZ.

1. Mustafa Kemal'in Anafartalar Savaşı'nda;

Size ben taarruz emretmiyorum. Ölmeyi emrediyorum. Biz ölünceye kadar geçecek zaman içinde yerimize başka kuvvetler ve komutanlar geçebilir.

emrini vermesi onun;

- I- Cesaret
- II- Akılcılık
- III- Yenilikçilik
- IV- Vatanseverlik

gibi kişisel özelliklerinden hangileri ile ilgili olabilir?

- A) I ve II
- B) II ve III
- C) III ve IV
- D) I ve IV

2. Mondros Ateşkes Anlaşması'ndan sonra yurdumuzun işgal edilmesi karşısında İstanbul Hükûmeti sessiz ve kayıtsız kaldı. Yüzyıllarca Türklerle beraber huzurlu ve güvenli bir yaşam sürdüren bazı Rum ve Ermeniler de işgalcilerle iş birliği yaptılar.

Bu durum karşısında Türk milleti nasıl bir tepki göstermiştir?

- A) Amerikan mandasını istemiştir.
- B) Halifenin etrafında toplanmıştır.
- C) Millî direniş cemiyetleri kurmuştur.
- D) İşgallerin geçici olduğuna inanarak tepki göstermemiştir.

3.

Erzurum ve Sivas Kongresi kararları benimsenmiştir.

Kapitülasyonların kaldırılması istenerek tam bağımsızlık vurgulanmıştır.

Misakımillî ile;

.....?.....

Misakımillî'nin önemi düşünüldüğünde şemada “?” ile gösterilen yere aşağıdakilerden hangisi getirilebilir?

- A) Türk vatanının sınırları çizilmiştir.
- B) Güçler birliği esası benimsenmiştir.
- C) Millî ekonominin ilkeleri saptanmıştır.
- D) İlk kez millî egemenlikten söz edilmiştir.

4. Birinci İnönü Savaşı'ndan sonra görülen;

- I- İstiklal Marşı'nın kabul edilmesi
- II- TBMM Hükûmeti'nin Londra Konferansı'na çağırılması
- III- Sovyetler Birliği ile Moskova Antlaşması'nın imzalanması
- IV- Teşkilat-ı Esasiye'nin kabulü

gelişmelerinden hangileri bu zaferin ulusal alanda olumlu etkileri olduğunu kanıtlar?

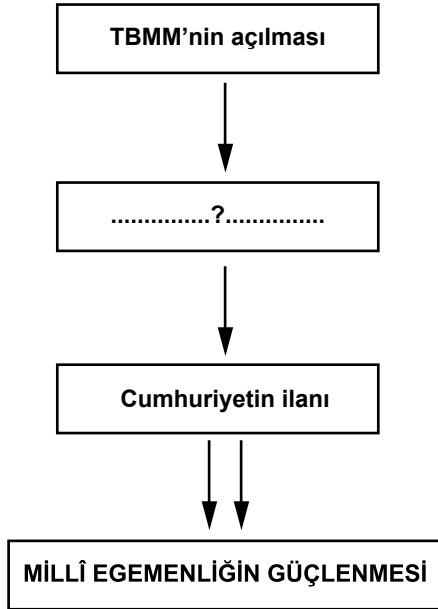
- A) I ve IV
- B) I ve II
- C) III ve IV
- D) II ve III

5. Türk ordusu Kütahya-Eskişehir Savaşlarında başarılı olamamış ve Sakarya Irmağı'nın doğusuna kadar çekilmek zorunda kalmıştı. Bu süreçte TBMM, Mustafa Kemal'i üç aylık bir süre için başkomutan tayin etti. Mustafa Kemal ordunun ihtiyaçlarının karşılanması için halkı, maddi ve manevi bütün kaynaklarıyla Millî Mücadeleye çağırarak Tekâlif-i Milliye Emirleri'ni yayımladı (7-8 Ağustos 1921). Türk milleti bu emirlere tam bir kararlılık ve fedakârlıkla uydu.

Bu bilgiye göre aşağıdakilerden hangisi söylenemez?

- A) Kurtuluş Savaşı halkın dayanışması ile kazanılmıştır.
B) Ordunun ihtiyaçları giderilerek savaşa hazır hâle getirilmiştir.
C) Düzenli ordudan vazgeçilip yeniden Kuvayı-millie'ye dönülmüştür.
D) Türk milleti Mustafa Kemal'e tam bir güven ve bağlılık göstermiştir.

6.



Diyagramda millî egemenliğin güçlenmesinin aşamaları gösterilmiştir. Bu süreç izlenirse “?” ile gösterilen yere aşağıdakilerden hangisi yazılabilir?

- A) Medeni Kanun
B) Saltanatın kaldırılması
C) Türk Tarih Kurumunun açılması
D) Teşvik-i Sanayi Kanunu'nun çıkarılması

7.



Yukarıdaki inkıaplardan hangileri çağdaş devletlerle ilişkilerde uyum sağlamaya yöneliktir?

- A) I ve II
B) III ve IV
C) II ve III
D) I ve IV

8.



Şemaya göre “?” ile belirtilen yere aşağıdakilerden hangisi getirilemez?

- A) Eğitim ve öğretimde birlik sağlandı.
B) Medreselerin yanında modern okullar açıldı.
C) Tüm okullar Millî Eğitim Bakanlığına bağlandı.
D) Millî ve çağdaş bir eğitim sisteminin temelleri atıldı.

9.

Türk milletinin tarihi bir niteliği de güzel sanatları sevmek ve onda yükselmektir.



Aşağıdakilerden hangisi Atatürk'ün bu sözünü destekleyen bir uygulamadır?

- A) Ankara Hukuk Fakültesinin açılması
- B) Türkiye İdman Cemiyetinin kurulması
- C) Dil ve Tarih-Coğrafya Fakültesinin açılması
- D) İstanbul'da Resim ve Heykel Müzesinin açılması

10. Halkçılık ilkesi bütün vatandaşların kanun önünde eşit olmasını ve kimseye ayrıcalık tanınmamasını öngörür.

Buna göre, aşağıdaki yeniliklerden hangisi halkçılık ilkesiyle doğrudan ilgili olabilir?

- A) Harf İnkılabı
- B) Soyadı Kanunu
- C) Halk Evlerinin açılması
- D) Demiryollarının millileştirilmesi

11.



Ders: T.C. İnk. Tarihi ve Atatürkçülük
Konu: Atatürk İlkeleri
Soru: Cumhuriyetin ilk yıllarında ekonomide devletçilik ilkesinin benimsenmesinin sebepleri nelerdir?

Öğretmenin sorusuna hangi öğrencinin verdiği cevap doğru değildir?

A)

Ülkemizde özel sektörün sermaye gücünün olmaması



Ayşe

B)

1929 dünya ekonomik bunalımının Türk ekonomisini daha da kötüleştirilmesi



Mehmet

C)

Devlet eliyle sosyal adaletin sağlanmak istenmesi



Zeynep

D)

Yabancı sermayenin ülkemize çekilmek istenmesi



Orçun

12.



Türkiye'nin bugünkü mücadelesi sadece kendisi için olsaydı belki daha kısa, daha az kanlı olur ve daha çabuk bitebilirdi. Türkiye büyük bir gayret sarf ediyor. Çünkü müdafaa ettiği, bütün mazlum milletlerin, bütün Şark'ın davasıdır.

Mustafa Kemal Paşa'nın 7 Temmuz 1922'de yaptığı bu konuşmaya göre, Türk Kurtuluş Savaşı mazlum milletlere öncelikle hangi alanda örnek olmuştur?

- A) Bağımsızlık B) Çağdaşlık
C) Laiklik D) Devletçilik

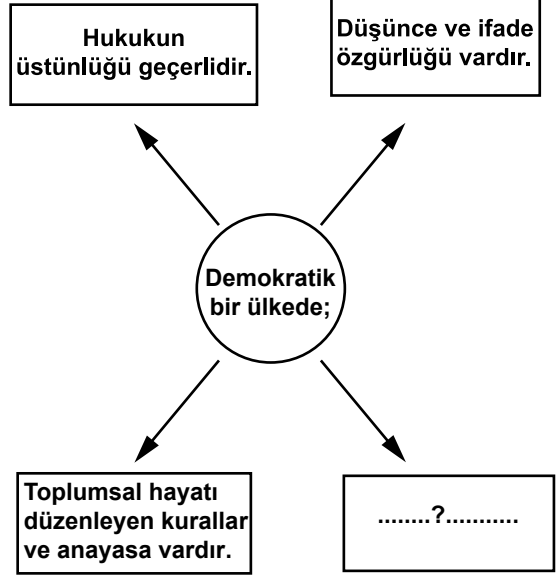
13. Atatürk'ün ölümünün yankılarına ilişkin bazı örnekler:

General Mc Arthur	→	Atatürk, Türklere kendine güvenme ve dayanma duygusunu vermiştir.	1
Winston Churchill	→	Atatürk'ün ölümü yalnız yurdu için değil, Avrupa için de büyük kayıptır.	2
Daily Telegraph Gazetesi	→	Atatürk, Türk milletinin ruhunda Türk bayrağı gibi dalgalanan bir baştı.	3
Muhammed Ali Cinnah	→	Atatürk, çağdaş İslam dünyasındaki en büyük Müslümandı ve kuşkusuz tüm İslam dünyası onun ölümüne derin yas tutacaktır.	4

Bunlardan hangilerinde Atatürk'ün kişilik ve fikirlerinin uluslararası alandaki etkisi vurgulanmıştır?

- A) 2 ve 4 B) 1 ve 2
C) 1 ve 3 D) 1, 3 ve 4

14.



Demokratik bir ülkenin özellikleri ile ilgili olarak şemada “?” ile boş bırakılan kutuya aşağıdakilerden hangisi yazılabilir?

- A) Vatandaşlar iktidarı eleştiremezler.
B) Toplantı ve gösteri yürüyüşü hakkı yoktur.
C) İnsanlar farklı hayat tarzlarına saygı duyarlar.
D) Birey ile devlet arasında güven duygusu zayıftır.

15. Aşağıdaki atasözlerinden hangisi, sorunlara demokratik çözüm bulmada sözlü iletişimin önemini yansıtmaktadır?

- A) Söz gümüşse sükût altındır.
B) İnsanlar konuşa konuşa anlaşır.
C) Söz söyle alana, kulağında kalana.
D) İsteddiğini söyleyen, istemediğini iştir.

16.



İnsan hak ve özgürlüklerinin hepsi önemlidir. Ancak bunlardan biri var ki bu hakka sahip olmadan diğer hak ve özgürlüklerimizi kullanmamız ve talep etmemiz de mümkün değildir.

Özge

Özge'nin önemini vurguladığı hak, aşağıdakilerden hangisi olabilir?

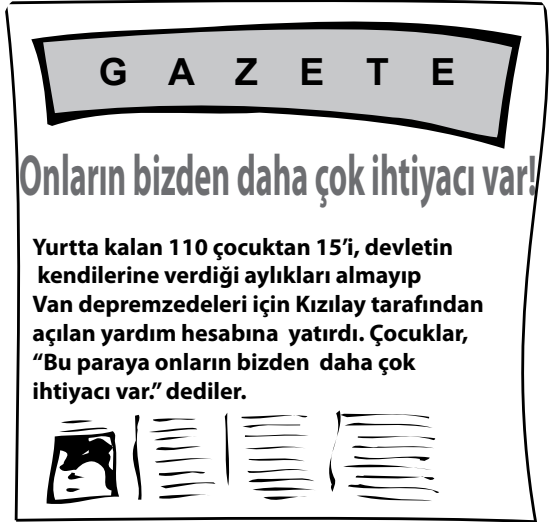
- A) Eğitim hakkı B) Sağlık hakkı
C) Dilekçe hakkı D) Yaşama hakkı

DİN KÜLTÜRÜ VE AHLAK BİLGİSİ DERSİNİ OKUYANLAR AŞAĞIDAKİ SORULARI CEVAPLAYACAKLARDIR.

17. Aşağıdaki ayetlerden hangisi insanın söz ve davranışlarından sorumlu tutulması ile ilgili değildir?

- A) "Allah'ın izni olmadan hiçbir kişi ölmez. (Ölüm) Belirli bir süreye göre yazılmıştır..." (Âl-i İmrân suresi, 145.)
B) "Şüphesiz biz ona (doğru) yolu gösterdik. İster şükredici olsun, ister nankör." (İnsan suresi, 3.)
C) "Kim zerre miktarı hayır yapmışsa onu görür. Kim de zerre miktarı şer işlemişse onu görür." (Zilzal suresi, 7-8.)
D) "... Hiçbir kimse başkasının günah yükünü taşımaz..." (Zümer suresi, 7.)

18.



Buna göre haberdeki çocuklar aşağıdaki hadislerden hangisine uygun davranış sergilemiştir?

- A) "Fakirleri araştırıp bulunuz, görüp gözetiniz."
B) "Kardeşini güler yüzle karşılayan, onun için bir sadakadır."
C) "Müminler birbirlerini sevmekte, birbirlerine acımakta bir vücut gibidirler..."
D) "Her kim eli darda olan borçluya kolaylık gösterirse, Allah da ona dünya ve ahirette kolaylık gösterir."

19. Hac ve umre ibadetinde ortaklaşa yapılması gereken eylemler hangi seçenekte birarada verilmiştir?

- A) Sa'y ve vakfe
B) Tavaf ve sa'y
C) Tavaf ve şeytan taşlama
D) Vakfe ve şeytan taşlama

20.

Hz. Muhammed pazarda bir buğday yığınının elini daldırmış ve alttaki buğdayın ıslak olduğunu görmüştür. Satıcıya alttaki buğdayın neden ıslak olduğunu sormuş, satıcı da; "Onu yağmur ıslattı." cevabını vermiştir. Bunun üzerine Peygamberimiz; "O ıslak kısmı insanların görmesi için buğday yığınının üstüne koysaydın ya! Bizi aldatan bizden değildir." demiştir.

Proje ödevi kapsamında afiş hazırlayan bir öğrenci, bu hadise aşağıdaki başlıklardan hangisini yazmalıdır?

- A) Hz. Muhammed insanlara değer verirdi.
- B) Hz. Muhammed ticaretle uğraşır.
- C) Hz. Muhammed hakkı gözetirdi.
- D) Hz. Muhammed merhametliydi.

DİN KÜLTÜRÜ VE AHLAK BİLGİSİ DERSİNİ OKUMAYANLAR AŞAĞIDAKİ SORULARI CEVAPLAYACAKLARDIR.

17.

Milletin bağımsızlığını, yine milletin azim ve kararı kurtaracaktır.
Amasya Genelgesi

Kuvayimillîye'yi etkin ve millî iradeyi hâkim kılmak esastır.
Erzurum Kongresi

Millî Mücadele sürecinde alınan yukarıdaki kararlar aşağıdaki ilkelerden hangisinin benimsendiğini kanıtlar?

- A) Millî egemenlik
- B) Vatanın bütünlüğü
- C) Millî ekonomi
- D) Tam bağımsızlık

18.

Harf İnkılabı'nın yapılması

+

Millet Mekteplerinin açılması

=

....?....

Verilen inkıpların ortak amacı olarak "?" ile boş bırakılan kutuya aşağıdakilerden hangisi getirilebilir?

- A) Türk tarihinin araştırılması
- B) Tam bağımsızlığın sağlanması
- C) Eğitim ve öğretimin yaygınlaştırılması
- D) Türkçenin yabancı sözcüklerden arındırılması

19.

Tek eksikimiz hükümet partisinin karşısında başka parti bulunmamasıdır.



İsmet İnönü 2 Kasım 1945'te söylediği bu sözle demokrasilerde aşağıdakilerden hangisinin mutlaka gerekli olduğunu vurgulamıştır?

- A) Tek parti hükümetlerinin
- B) Muhalefet partilerinin
- C) Yargı bağımsızlığının
- D) Basın özgürlüğünün

20. I- Vergi vermek
II- Askerlik yapmak
III- Üniversite sınavına girmek
- Bunlardan hangileri vatandaşlık görevlerimizdendir?

- A) Yalnız I B) Yalnız II
C) I ve II D) I, II ve III

**SOSYAL BİLGİLER TESTİ BİTTİ.
İNGİLİZCE TESTİNE GEÇİNİZ.**

1 - 8. sorularda boş bırakılan yerlere uygun gelen kelime ya da ifadenin bulunduğu seçeneği işaretleyiniz.

1. She is very She does everything just for herself. She doesn't care about others.

- A) shy B) selfish
C) friendly D) responsible

2. Aylin : My uncle will be the first Turkish space tourist next month.

Köksal :

- A) Great! Thanks a lot.
B) Really! What a shame!
C) Wow! I am sorry to hear that.
D) That's incredible! You're joking!

3. Mert : Have you decided what to do in the future?

Hasan : Yes, I have.

- A) I am going to study English.
B) I don't know anything about jobs.
C) Flying a plane can be dangerous.
D) Working in a bank is usually boring.

4. Burak : because I don't know the meaning of the word "obstacle".

Mother : Can it be in your school bag?

- A) I have left my dictionary in the library.
B) I put my dictionary on the desk.
C) I can bring my dictionary later.
D) I need my dictionary now.

5. Murat : Where were you last week, Berk?
Berk : I have just returned.

- A) I could see Paris.
B) I would like to visit Paris.
C) I was in Paris on business.
D) I have already been to Paris.

6. Nesli : You must improve your reading, writing, speaking and listening skills. All of them!

Cem : Yes, sure. In my opinion, I'm bad at it.

- A) I can't understand tourists.
B) I won't try to do homework.
C) speaking is the most difficult of all.
D) learning a foreign language is easy for me.

7. Utku : I'm very tired.
 Can : Me, too. Let's go somewhere and have a rest.
 Utku : There is a nice cafe over there.

- A) That's a good idea.
 B) I'm afraid I can't.
 C) I don't think so.
 D) That's wrong.

8. Ceren : You should study harder. You can do it.
 Kaan : Do you mean I'm not a good student?
 Ceren : No, of course not. I mean you're

- A) lazy and not intelligent.
 B) studying a lot in the class.
 C) clever but not hardworking.
 D) describing your teacher badly.

9. Aşağıda verilen bilgilere göre doğru olan seçeneği işaretleyiniz.

Ayşe's to do list!

- Put the books on the shelf : She has.
 Make the beds : She has.
 Empty the dustbin : She hasn't.
 Clean the carpets : She has.

- A) She hasn't made the beds.
 B) She hasn't cleaned the carpets.
 C) She has just emptied the dustbin.
 D) She has already put the books on the shelf.

10. I- Take the dog for a walk:
 The son: Yes
 The mother: No
 The father: No
 II- Make breakfast:
 The son: No
 The mother: Yes
 The father: No
 III- Pay the bills:
 The son: No
 The mother: No
 The father: Yes
 IV- Put the rubbish out:
 The son: Yes
 The mother: No
 The father: No

Yukarıda verilen bilgilere göre doğru olan seçeneği işaretleyiniz.

- A) The son pays the bills.
 B) The son puts the rubbish out.
 C) The father takes the dog for a walk.
 D) The mother and the father make the breakfast.

11 - 12. sorularda aşağıda verilen bilgileri kullanarak doğru seçeneği işaretleyiniz.

I- Atatürk graduated from the General Staff College and became a staff captain in 1905.

II- He led successfully the Tobruk Offensive in the Trablusgarp Battle between 1911 and 1912. This was his first military success.

III- He was the chairman of the congresses in Erzurum and Sivas in 1919. His political life started.

IV- The Turkish Grand National Assembly gave him the title "Gazi" in 1921.

V- He won the battle of the Commander-in-chief at Dumlupınar in 1922.

11. When did Atatürk become a staff captain?

- A) After the Trablusgarp Battle.
- B) During the Erzurum and Sivas Congresses.
- C) After graduation from the General Staff College.
- D) In the battle of the Commander-in-chief at Dumlupınar.

12. The Trablusgarp Battle has a special place in his life because

- A) his success as a soldier started there.
- B) it was the beginning of his political life.
- C) he took the title "Gazi" before this war.
- D) he became the chairman in two congresses there.

13. Aşağıda verilen paragraftaki bilgilere göre boş bırakılan yere uygun gelen kelimenin bulunduğu seçeneği işaretleyiniz.

I had many story books when I was a small child. I wrote some stories myself. I showed them to my teachers and my parents. They all liked them and they said:

– You should be when you grow up.

- A) a teacher
- B) a writer
- C) an actor
- D) a painter

14. Left brain learners are logical people. They prefer learning the details first. They like working with numbers.

Yukarıda verilen açıklamadaki bilgilere göre, "left brain learner" olabilecek kişinin bulunduğu seçeneği işaretleyiniz.

- A) A young man says: "I'm a dreamer."
- B) An old man says: "I'm a perfect artist."
- C) A young woman says: "I'm too emotional."
- D) An old man says: "I'm good at maths."

15. Is your skin too oily? No problem. Relax. Here is the best solution. Apply this on your skin daily. You will get the best result. You will feel it soon.

Yukarıda tanıtımı yapılan ürünün bulunduğu seçeneği işaretleyiniz.

- A) Product 1: Its name is "Naturel". It's a perfume.
- B) Product 2: Its name is "Happy Face". It's a face-cream.
- C) Product 3: Its name is "Sleeping Baby". It's a children's shampoo.
- D) Product 4: Its name is "Strong". It's a hair spray.

16 – 17. sorularda doğru seçeneği aşağıda verilen hikayeye göre işaretleyiniz.

Do good, have good

One day, a lion was sleeping under a tree in a forest. The wind was blowing. A mouse was walking over his body. The lion woke up and caught the mouse. The lion wanted to kill it. The mouse said : “ Dear King, I am a small animal, don’t kill me. One day I can help you.” The lion said : “OK, you are free.” The mouse thanked the lion and went home.

After some time, hunters caught the lion with ropes. He worked hard to cut the ropes but he couldn’t. He shouted: “Help! Help!” The mouse heard the noise. It ran to the lion and cut the ropes with its teeth. Soon the lion was free. He thanked the mouse for its help.

16. Why did the lion wake up?

Because

- A) the mouse moved under the tree.
- B) the lion heard the strong wind.
- C) the lion wanted to catch the mouse.
- D) the mouse was walking over his body.

17. What is “the main idea” of the story?

- A) Help others, one day they will also help you.
- B) It is bad to catch and kill small animals.
- C) A mouse is good at hearing noises.
- D) A forest is a very dangerous place to live.

TEST BİTTİ.

CEVAPLARINIZI KONTROL EDİNİZ.

SINAV SÜRESİNCE UYULACAK KURALLAR

- 1. Adaylar, sınav kurallarına ve salon görevlilerinin tüm uyarılarına uymak zorundadırlar. Kurallara ve uyarılara uymayan adayların sınavları geçersiz sayılacaktır.**
2. Sınav başladıktan sonra adayların salon görevlileri ve birbirleri ile konuşmaları, kalem, silgi vb. şeyleri istemeleri yasaktır.
3. Adaylar sınav süresince, sınav giriş belgesi ile birlikte kimlik belgelerinden birini (nüfus cüzdanı veya pasaport) masalarının üzerinde bulundurmamak zorundadırlar.
- 4. Sınav evraklarını teslim etmeyen, soru kitapçıklarının sayfalarından bir kısmını eksik teslim edenlerin sınavları geçersiz sayılacaktır.**

SALON GÖREVLİLERİNCE SINAV BAŞLAMADAN ÖNCE ADAYLARA YAPILACAK SON UYARI

- Soracağınız bir şey var mı? Varsa, şimdi sorunuz.
- Sınav başladıktan sonra sorularınıza cevap verilmeyecektir.
- Başlama zilini bekleyiniz.
- Hepinize başarılar dileriz.

(Salon başkanı başlama ve bitiş saatini tahtaya yazacaktır.)

Bu kitapçığın her hakkı saklıdır. Hangi amaçla olursa olsun, kitapçığın tamamının veya bir kısmının Millî Eğitim Bakanlığı Yenilik ve Eğitim Teknolojileri Genel Müdürlüğünün yazılı izni olmadan kopya edilmesi, fotoğraflarının çekilmesi, bilgisayar ortamına alınması, herhangi bir yolla çoğaltılması, yayımlanması veya başka bir amaçla kullanılması yasaktır. Bu yasağa uymayanlar, doğabilecek cezai sorumluluğu ve kitapçığın hazırlanmasındaki mali külfeti peşinen kabullenmiş sayılır.

9 HAZİRAN 2012 TARİHİNDE YAPILAN SEVİYE BELİRLEME SINAVI
8. SINIFLAR GÖRME ENGELLİ "A" KİTAPÇIĞI CEVAP ANAHTARI

TÜRKÇE	MATEMATİK	FEN ve TEKNOLOJİ	SOSYAL BİLGİLER
1. B	1. D	1. D	1. D
2. C	2. A	2. C	2. C
3. B	3. C	3. B	3. A
4. A	4. D	4. C	4. A
5. D	5. B	5. B	5. C
6. C	6. C	6. A	6. B
7. D	7. D	7. A	7. C
8. C	8. B	8. D	8. B
9. B	9. A	9. B	9. D
10. A	10. B	10. A	10. B
11. D	11. B	11. C	11. D
12. B	12. D	12. D	12. A
13. A	13. A	13. C	13. A
14. C	14. A	14. B	14. C
15. B	15. B	15. D	15. B
16. C	16. C	16. C	16. D
17. C	17. C	17. B	17. A
18. A	18. D	18. A	18. C
19. D	19. C	19. D	19. B
20. D	20. A	20. B	20. C
21. B			
22. D			
23. A			

İNGİLİZCE

1. B
2. D
3. A
4. D
5. C
6. C
7. A
8. C
9. D
10. B
11. C
12. A
13. B
14. D
15. B
16. D
17. A